

Series Code :

सीरीज़ कोड :

FWrite this code in OMR Sheet.
इस कोड को OMR शीट में अंकित करें।

PAPER CODE : ST2-2017

1. Roll No. / रोल नं.

2. OMR Sheet No./ ओ.एम.आर. शीट क्रमांक



indiresult.in whatsapp - 9352018749

3. NO. 1, 2, 3 and 4 are to be filled by the Candidate himself.

क्रमांक 1, 2, 3 व 4 की पूर्ति परीक्षार्थी द्वारा स्वयं की जानी है।

There are 150 objective multiple choice questions in this paper. This Question Booklet is made up of the following four Sections : Section-I, II & III of 30-30 questions each and Section-IV is of 60 questions. The candidate has to attempt all sections. Each question is of one mark. There is no negative marking for wrong answer.

इस प्रश्न-पत्र में कुल 150 वस्तुनिष्ठ बहुवचनान्तात्मक प्रश्न हैं। प्रश्न-पत्र कुल चार खण्डों में विभाजित है तथा सभी खण्ड करना अनिवार्य है। प्रत्येक खण्ड-I, II एवं III 30-30 प्रश्नों का है तथा खण्ड-IV 60 प्रश्नों का है। प्रत्येक प्रश्न 1 अंक का है। गलत उत्तर के लिए नेगेटिव मार्किंग नहीं होगी।

PAPER CODE : ST2-2017

Total Questions : 150

Time period : 2 Hours 30 Minutes

Maximum Marks : 150

Section	Contents	No. of Questions	Question Nos.		Page Nos.	
			From	To	From	To
(I)	Child Development and Pedagogy	30	1	30	3	9
(II)	Language-I (Only One Language) As selected by the candidate as medium of instruction in the Online Application Form as Language-I from the Languages given below :	30	31	60		
	Hindi	30	31	60	10	13
	English	30	31	60	14	16
	Sanskrit	30	31	60	17	20
	Urdu	30	31	60	21	24
	Sindhi	30	31	60	25	28
	Punjabi	30	31	60	29	32
	Gujarati	30	31	60	33	36
(III)	Language-II (Only One Language) As selected by the candidate as Language-II (other than the Language-I) in the Online Application Form from the Languages given below :	30	61	90		
	Hindi	30	61	90	37	40
	English	30	61	90	41	43
	Sanskrit	30	61	90	44	47
	Urdu	30	61	90	48	52
	Sindhi	30	61	90	53	56
	Punjabi	30	61	90	57	60
	Gujarati	30	61	90	61	64
(IV)	(IV a) Mathematics and Science (For Mathematics and Science Teacher) OR	60	91	150	65	78
	(IV b) Social Studies (For Social Studies Teacher) OR For any other Subject Teacher (Can choose either IV a or IV b)	60	91	150	79	90

Note : 1. In Sections II and III, a candidate has to attempt the questions of Languages compulsorily, selected as Language-I and Language-II in the Online Application Form.
2. In Sections-IV, it is compulsory to attempt the questions of Section IV (a) or Section IV (b) as selected subject in Online Application Form. For Hindi version of the above Table & Note refer to Page No. 2.

Read the instructions in English & Hindi at Page No. 96, last page of this booklet.

ST-2



indiresult.in whatsapp - 9352018749

indiresult.in whatsapp - 9352018749

पेपर कोड : ST2-2017

समयावधि : 2 घंटे 30 मिनट

पूर्णांक : 150

कुल प्रश्न : 150

खण्ड	विषय-सामग्री	कुल प्रश्न संख्या	प्रश्न संख्या		पृष्ठ संख्या	
			से	तक	से	तक
(I)	बाल विकास एवं शिक्षण विधियाँ (शिक्षाशास्त्र)	30	1	30	3	9
(II)	भाषा-I (केवल एक भाषा) परीक्षार्थी द्वारा चयनित अनुदेशन का माध्यम की भाषा जो निम्नलिखित भाषाओं में से भाषा-I के रूप में ऑनलाइन आवेदन-पत्र में अंकित की है :	30	31	60		
	हिन्दी	30	31	60	10	13
	अंग्रेजी	30	31	60	14	16
	संस्कृत	30	31	60	17	20
	उर्दू	30	31	60	21	24
	सिन्धी	30	31	60	25	28
	पंजाबी	30	31	60	29	32
	गुजराती	30	31	60	33	36
(III)	भाषा-II (केवल एक भाषा) परीक्षार्थी द्वारा ऑनलाइन आवेदन-पत्र में चयनित भाषा-II, जो भाषा-I से भिन्न होगी तथा जिसका चयन निम्नलिखित भाषाओं में से किया गया है :	30	61	90		
	हिन्दी	30	61	90	37	40
	अंग्रेजी	30	61	90	41	43
	संस्कृत	30	61	90	44	47
	उर्दू	30	61	90	48	52
	सिन्धी	30	61	90	53	56
	पंजाबी	30	61	90	57	60
	गुजराती	30	61	90	61	64
(IV)	(IV a) गणित तथा विज्ञान (गणित तथा विज्ञान शिक्षक के लिए) अथवा (IV b) सामाजिक अध्ययन (सामाजिक अध्ययन शिक्षक के लिए) अथवा किसी अन्य दूसरे विषय शिक्षक के लिए (IV a अथवा IV b चुन सकते हैं)	60	91	150	65	78
		60	91	150	79	90

- नोट : (1) परीक्षार्थी द्वारा खण्ड-II एवं खण्ड-III में ऑनलाइन आवेदन-पत्र में जिस भाषा का चयन भाषा-I एवं भाषा-II के रूप में किया है उसी भाषा के प्रश्न करना अनिवार्य है ।
- (2) खण्ड-IV में परीक्षार्थी द्वारा ऑनलाइन आवेदन-पत्र में खण्ड (IV a) या खण्ड (IV b) के जिस विषय का चयन किया गया है उसी विषय का प्रश्न करना अनिवार्य है ।

indiresult.in whatsapp - 9352018749

प्रश्न-पुस्तिका के अंतिम पृष्ठ संख्या 96 पर अंग्रेजी तथा हिन्दी में दिये हुए निर्देश को पढ़ें ।

SECTION - I

खण्ड - I



CHILD DEVELOPMENT AND PEDAGOGY

बाल विकास एवं शिक्षाशास्त्र

There are 30 questions in all in this section.

All questions are compulsory.

indiresult.in whatsapp - 9352018749

इस खण्ड में कुल 30 प्रश्न हैं।

सभी प्रश्न अनिवार्य हैं।

- Which of the following may not be expected from a teacher to keep in mind while respecting individual difference ?
 (A) Ability grouping (B) Adjusting the curriculum
 (C) Leaving Children for self study (D) Adjusting the methods of teaching
 व्यक्तिगत विभिन्नता का सम्मान करते वक्त, एक शिक्षक से क्या आशा नहीं की जा सकती है ?
 (A) योग्यतानुसार समूह में विभक्त करना। (B) पाठ्यचर्या को समायोजित करना।
 (C) बच्चों को स्वाध्याय के लिए छोड़ देना। (D) शिक्षण विधियों को समायोजित करना।
- When both chronological and mental age of Poonam is 9 years, her intelligence category may be considered as
 (A) Superior (B) Sub-average
 (C) Average (D) Genius
 यदि पूनम की कालानुक्रमिक उम्र तथा मानसिक उम्र 9 साल है, तो उसकी बुद्धि-लब्धि का वर्ग हो सकता है
 (A) उत्कृष्ट (B) औसत से कम
 (C) औसत (D) प्रतिभावान
- Which of the following is the characteristics of Autism ?
 (A) Poor Socialization (B) Stereotypic behaviour
 (C) Poor Communication (D) All of the above
 निम्न में से कौन से स्वलीनता के लक्षण हैं ?
 (A) कमजोर सामाजिक व्यवहार (B) रूढ़िबद्ध व्यवहार
 (C) कमजोर संप्रेषण (D) ऊपरी लिखित सभी
- The process of an individual's capacities quantitatively should be termed as
 (A) Development (B) Growth
 (C) Equilibrium (D) Maturation
 मात्रात्मक व्यक्तिगत क्षमता रूपी प्रक्रिया को कहा जाता है
 (A) विकास (डेवलपमेंट) (B) वृद्धि (ग्रोथ)
 (C) संतुलन (इकिलिब्रियम) (D) परिपक्वता (मैचुरेशन)

indiresult.in whatsapp - 9352018749

F

indiresult.in whatsapp - 9352018749

(4)

5. For the proper development of a child at adolescent stage, parents and teachers can do the following : (which one ?)

- (A) Rendering proper gender education
- (B) Providing suitable environment
- (C) Arranging guidance and counselling services (if required)
- (D) All of the above

किशोरावस्था में एक बच्चे के उचित विकास हेतु माता-पिता तथा शिक्षक निम्न कार्य कर सकते हैं : (निम्न में से कौन सा ?)

- (A) लिंग शिक्षा का उचित ज्ञान देना
- (B) उचित वातावरण प्रदान करना
- (C) परामर्श तथा मार्गदर्शन सेवा की व्यवस्था करना (यदि आवश्यक हो)
- (D) ऊपरी लिखित सभी

6. Which of the following is not related to Action Research ?

- (A) Action research helps in theory building.
- (B) It enables us to solve practical problem.
- (C) Focus on problem that are of immediate concern.
- (D) Offers formation feedback such that aims and methodology are open to variation.

निम्न में से कौन क्रियात्मक शोध से संबंधित नहीं है ?

- (A) क्रियात्मक शोध सिद्धांत निर्माण में सहायता करता है।
- (B) यह व्यावहारिक समस्या के समाधान करने में सहायक है।
- (C) त्वरित चिंताजनक समस्या के ऊपर यह केंद्रित होता है।
- (D) यह रचनात्मक प्रतिक्रिया देता है जैसे उद्देश्य और प्रणाली, में खुला परिवर्तन होना।

7. A teacher is going to apply the principles of Thorndike's theory in the classroom. What he/she should not apply from the following ?

- (A) Children should be made ready or motivated properly for learning a task.
- (B) Children should be oriented to a discovery approach towards learning new things.
- (C) Sufficient practice or drill work should be carried out.
- (D) Teacher should try to make use of rewards as properly as possible.

एक शिक्षक अपनी कक्षा में थार्नडाईक के सिद्धांत को लागू करने जा रहा है। निम्नलिखित में से क्या शिक्षक को लागू नहीं करना चाहिए ?

- (A) बच्चों को तैयार किया जाना चाहिए तथा उन्हें कार्य सीखने हेतु सही रूप से प्रेरित किया जाना चाहिए।
- (B) बच्चों को नई चीजें सीखने हेतु खोज विधि के लिए उन्मुख किया जाना चाहिए।
- (C) उचित अभ्यास तथा ड्रिल कार्य किया जाना चाहिए।
- (D) जहाँ तक हो शिक्षक को पुरस्कार का उपयोग सही रूप में करने की कोशिश करनी चाहिए।

indiresult.in whatsapp - 9352018749

8. _____ is the inability to distinguish between one's own perspective and other's perspective in early childhood.

- (A) Centricism
- (B) Ego centricism
- (C) Animism
- (D) None of the above

बाल्यावस्था के दौरान अपने तथा दूसरों के नजरिए में फर्क करने में अयोग्यता को दर्शाता है।

- (A) केन्द्रस्थ (सेन्ट्रीसिज्म)
- (B) आत्म केन्द्रस्थ (इगो सेन्ट्रीसिज्म)
- (C) जणात्मवाद (एनीमीज्म)
- (D) इनमें से कोई नहीं

ST-2

(5)

9. "When someone fails repeatedly to overcome weaknesses and achieve some mastery or simply places excessive emphasis on some particular inferiority." Who illustrated the above statement as 'inferiority complex' ?

(A) Carl Gustav Jung (B) Sigmund Freud
(C) Karen Horney (D) Alfred Adler

"जब कोई बारंबार अपनी कमजोरियों से निकलने में असफल होता है और कुछ प्रवीणता हासिल करता है या साधारणतः अधीनता या अपकर्ष को ज्यादा बल देने लगता है।" ऊपरी लिखित तथ्य को किसने "हीन-भावना" कहा ?

(A) कार्ल गस्टव युंग (B) सिगमंड फ्रॉयड
(C) करेन हार्नी (D) अल्फ्रेड एडलर

10. The highly efficient form of learning approach, on which Bandura and Walters focused is

(A) Reward and Punishment (B) Observational Learning or Imitation
(C) Self-actualization (D) None of the above

"अत्यन्त निपुणतापूर्ण अधिगम पद्धति" जिस पर बान्डुरा तथा वॉल्टर ने बल दिया वे हैं

(A) पुरस्कार तथा सजा (B) निरीक्षणयुक्त अधिगम या अनुकरण
(C) स्व-वास्तविकीकरण (D) ऊपरी लिखित कोई नहीं।

11. As per Right to Education Act, which of the following is not a role of teacher ?

(A) Complete entire curriculum within the specified time.
(B) Teacher shall engage himself or herself in private tuition.
(C) Maintain regularity and punctuality in attending school.
(D) Assess the learning ability of each child and accordingly supplement additional instructions.

"शिक्षा के अधिकार अधिनियम" के अंतर्गत निम्न में से क्या शिक्षक के कार्य नहीं माने गए हैं ?

(A) एक निश्चित समय में पाठ्यक्रम को पूरा करना।
(B) शिक्षक को खुद को व्यक्तिगत ट्यूशन में व्यस्त रखना चाहिए।
(C) विद्यालय के लिए नियमितता बनाए रखना चाहिए तथा समय का पाबंद होना चाहिए।
(D) हर बालक के अधिगम क्षमता को समझकर उसकी जरूरत के अनुसार उन्हें अतिरिक्त अनुबोध प्रदान करना चाहिए।

indiresult.in whatsapp - 9352018749

12. According to Freud's recommended personality structure, which of the following would satisfy its fundamental urges immediately and reflexively as they arose, without regard to rules, the reality of life or morals of any kind ?

(A) Super ego (B) Both ego and Super ego
(C) Id (D) Ego

फ्रॉयड की अनुशंसित व्यक्तित्व की बनावट के अनुसार, निम्न में से कौन मूलभूत तीव्र ईच्छा के उठने के साथ ही तुरंत तथा अनैच्छिक रूप से (सभी नियम तथा जीवन की सत्यता तथा नैतिकता की अवहेलना करते हुए) संतुष्ट करता है ?

(A) पराअहम् (Super ego) (B) अहम् तथा पराअहम् दोनों (Both Ego and Super ego)
(C) इदं (D) अहम्

P.T.O.

F

(6)

13. In which of the following technique, the child earn objects, which they can exchange for desirable items, services or privileges ?

- (A) Token economy (B) Shaping
 (C) Extinction (D) Covert Sensitization

निम्न में से किस तकनीक के अंतर्गत, एक बच्चा किसी चीज को हासिल करता है, जिसे बाद में वो अपने इच्छुक चीजें, कार्य या लाभ में बदल सकता है ?

- (A) टोकन इकोनॉमी (Token economy) (B) गठन करना (Shaping)
 (C) विलोपन (Extinction) (D) अप्रकट संवेदीकरण (Covert Sensitization)

14. Students encountered many conflicting situations during their adjustment process. For example a student wants to admit his mistake in front of the teacher but at the same time he is afraid of being punished by the teacher. It is best explained by

- (A) Approach-Approach Conflicting Situation.
 (B) Avoidance-Avoidance Conflicting Situation.
 (C) Approach-Avoidance Conflicting Situation.
 (D) None of the above.

समायोजन प्रक्रिया के दौरान विद्यार्थीगण बहुत से विरोधाभाषी परिस्थितियों से गुजरते हैं। उदाहरण स्वरूप – एक विद्यार्थी, शिक्षक के सामने अपनी गलतियों को स्वीकार करना चाहता है पर इसके साथ ही वह शिक्षक द्वारा दण्डित होने से भी डर रहा है। निम्न में से किसके सापेक्ष्य में इसे अच्छी तरह समझाया गया है –

- (A) पद्धति – पद्धति विरोधाभाषी परिस्थिति (B) वर्जन – वर्जन विरोधाभाषी परिस्थिति
 (C) पद्धति – वर्जन विरोधाभाषी परिस्थिति (D) ऊपरी लिखित कोई नहीं।

15. A 5 year old child has a general lack of responsiveness to others, serious deficiency in communication and unusual repetitive behaviour. Such characteristics are the sign of

- (A) Hearing impairment (B) Scholastic backwardness
 (C) Infantile Autism (D) Learning disability

एक पाँच वर्ष के बच्चे में दूसरों के प्रति प्रतिक्रिया तथा संप्रेषण में कमी है तथा असामान्य व्यवहार को बारंबार करता है। इस तरह के लक्षण किस चीज का प्रतीक है ?

- (A) श्रवण बाधिता (B) शैक्षिक पिछड़ापन
 (C) शैशव स्वलीनता (D) अधिगम अक्षमता

indiresult.in whatsapp - 9352018749

16. A behaviour pattern involving self-starvation that often arises in adolescence and especially prevalent among girls is known as

- (A) Anorexia nervosa (B) Delirium tremens
 (C) Autism (D) Down Syndrome

किशोरावस्था की ऐसी आदत जिसमें खुद को भूखे रखने की प्रवृत्ति होती है तथा यह ज्यादा बालिकाओं में पायी जाती है। ऐसी अवस्था को कहा जाता है

- (A) एनोरेक्सिया नरवोसा (B) डेलीरियम ट्रेमेन्स
 (C) स्वलीनता (D) डाउन सिण्ड्रोम

ST-2

F

17. Which of the following term refers to farsightedness ? (7)

(A) Optic Atrophy

(C) Hyperopia

निम्न में से कौन सा शब्द दूरदर्शिता के लिए दिया गया है ?

(A) ऑप्टिक एट्रोफी

(C) हाईपरोपिया

(B) Astigmatism

(D) Refraction

(B) एस्टिगमेटिज्म

(D) रिक्रैक्शन

18. Insightful theory of learning is given by

(A) Thorndike

(C) Kohler

सीखने का व्यावहारिक सिद्धांत द्वारा दिया गया है

(A) थॉर्नडाइक

(C) कोहलर

(B) Gardener

(D) Hull and Tollman

(B) गार्डनर

(D) हल तथा टोलमैन

19. Which of the following body regulate the training policies and programmes in the field of rehabilitation of persons with disabilities in India ?

(A) National Council of Teacher Education

(B) National University of Educational Planning and Administration

(C) National Council of Education Research and Training

(D) Rehabilitation Council of India

निम्न में से कौन सी संस्था प्रशिक्षण नियमावली तथा कार्यक्रमों का विकलांगता पुनर्वास के क्षेत्र में भारत में क्रियान्वयन करता है ? indiresult.in whatsapp - 9352018749

(A) राष्ट्रीय अध्यापक शिक्षा परिषद

(B) राष्ट्रीय शैक्षिक योजना एवं प्रशासन विश्वविद्यालय

(C) राष्ट्रीय शैक्षिक अनुसंधान एवं प्रशिक्षण परिषद

(D) भारतीय पुनर्वास परिषद

20. "At a particular stage children begin to use primitive reasoning and want to know the answer of all sorts of questions." Piaget called this "intuitive". As per Piaget, which of the following stage, he means ?

- (A) Concrete operation (B) Pre-operation
(C) Formal operation (D) None of the above

"एक विशेष स्तर पर बच्चे मौलिक तर्क का इस्तेमाल करना शुरू कर देते हैं तथा सभी प्रकार के प्रश्नों का जवाब जानना चाहते हैं।" पियाजे ने इसे 'अंतर्ज्ञान' कहा है। पियाजे के अनुसार, निम्न में से कौन से चरण का यह अर्थ है ?

- (A) साकार संचालन (B) पूर्व-संचालन
(C) औपचारिक संचालन (D) उपरोक्त कोई भी नहीं

21. Most of the children speak first meaningful word at the age of

- (A) 3 months (B) 6 months
(C) 35-40 months (D) 10-13 months

ज्यादातर बच्चे प्रथम सार्थक शब्द इस उम्र में बोलते हैं

- (A) 3 महीने में (B) 6 महीने में
(C) 35-40 महीने में (D) 10-13 महीने में

22. Who is the father of "Theory of Multiple Intelligence" ?

- (A) Vygotsky (B) Brunner
(C) Alfred Binet (D) Gardner

'बहु-बुद्धि सिद्धांत' के जनक कौन हैं ?

- (A) वइगोटस्की (B) ब्रूनर
(C) अल्फ्रेड बिनेट (D) गार्डनर

23. Who has given more stress on the Philosophy of Social Constructivism ?

- (A) Vygotsky (B) Piaget
(C) Dewey (D) Kohlberg

निम्न में से किसने सामाजिक रचनावाद दर्शन पर अत्यधिक बल दिया ?

- (A) वइगोटस्की (B) पियाजे
(C) डेवी (D) कोलबर्ग

24. Which of the following is not an example of assistive technology for visual impairment ?

- (A) Large print book (B) Magnifying computer book
(C) Speech synthesizer (D) Supplement to text book

निम्न में से कौन सी दृष्टिबाधित विद्यार्थियों के लिए उपयोग की जाने वाली सहायक सामग्री नहीं है ?

- (A) बड़े प्रिंट की किताबें (B) विशालक कम्प्यूटरीकृत किताबें
(C) वाणी संश्लेषक (D) पाठ्यपुस्तक का अनुपूरक

25. Hearing loss is measured in terms of indiresult.in whatsapp - 9352018749

- (A) Hertz (B) Decibels
(C) Watt (D) Pound

श्रवण में विकृति की माप की जाती है

- (A) हर्ट्ज में (B) डेसीबेल में
(C) वाट में (D) पाउंड में

ST-2

(9)



26. Which of the following is an example of fine motor skills ?

- (A) Climbing
(B) Hopping
(C) Running
(D) Writing

निम्नलिखित में से कौन सूक्ष्म चलन कौशल का उदाहरण है ?

- (A) चढ़ना
(B) कूदना
(C) दौड़ना
(D) लिखना

27. Meaning of Schema is

- (A) Chunking Mechanism
(B) Learning Techniques
(C) Organized packets of information stored in long term memory
(D) Defence Mechanism of body

'स्कीमा' का मतलब है

- (A) खण्डन क्रियाविधि
(B) अधिगम विधि
(C) लंबे समय के याददाश्त में सूचना के संगठित पैकेट्स का एकत्रित होना।
(D) शारीरिक प्रतिवाद क्रियाविधि

28. Information processing theories are known to break intelligence down into various basic skills that people employ to take in information, process it and then use it to reason and solve problems. Who is best known for propounding such theory ?

- (A) Jerome Bruner
(B) Jean Piaget
(C) J.P. Guilford
(D) Robert Sternberg

सूचना प्रक्रमण सिद्धांत बुद्धि को विभिन्न आधारभूत कौशलों में विभक्त करने के लिए जाने जाते हैं, जिसे लोग सूचना प्राप्त करने, प्रक्रमण करने और तर्क देकर समस्या समाधान के लिए उपयोग करते हैं। इस तरह के सिद्धांत का प्रतिपादन करने हेतु श्रेष्ठ किसे माना गया है ?

- (A) जीरोम ब्रूनर
(B) जीन पियाजे
(C) जे.पी. गिलफोर्ड
(D) रोबर्ट स्टर्नबर्ग

29. Select the 'educable' group based on different level of IQ.

- (A) 70 to 90
(B) 30 to 50
(C) 50 to 70
(D) Below 50

निम्न दिए गए IQ स्तर में 'शिक्षणीय' वर्ग को चुनें।

- (A) 70 से 90
(B) 30 से 50
(C) 50 से 70
(D) 50 से नीचे

30. The unit of heredity is

- (A) Chromosome
(B) Fertilized egg
(C) Gene
(D) Zygote

आनुवंशिकता की इकाई है

- (A) क्रोमोसोम
(B) निषेचित अंडा
(C) जीन
(D) युग्मज

इस खण्ड में कुल 30 प्रश्न हैं।
सभी प्रश्न अनिवार्य हैं।

31. 'मैं केवल इसीलिए यहाँ आया था' वाक्य में कौन सी अशुद्धि है ?
(A) अव्यय संबंधी / (B) क्रिया संबंधी ✓
(C) लिंग-प्रयोग संबंधी (D) वचन संबंधी
32. 'जीवन और साहित्य का घोर संबंध है' वाक्य का शुद्ध रूप कान सा ह ?
(A) जीवन और साहित्य में निकट संबंध है। (B) जीवन और साहित्य का घनिष्ठ संबंध है।
(C) जीवन और साहित्य का पास का संबंध है। (D) जीवन और साहित्य में परस्पर संबंध है।
33. 'वस्तु की पूर्ति की तुलना में माँग अधिक' आशय की लोकोक्ति कौन सी है ?
(A) ऊँट के मुँह में जीरा ✓ (B) ऊँची दुकान फीके पकवान
(C) एक अनार सौ बीमार (D) आधा तीतर आधा बटेर
34. 'घास काटना' मुहावरे का सही अर्थ बताइए :
(A) कुछ भी असर न होना (B) कठिनतापूर्वक कार्य करना
(C) गौर-जिम्मेदार होना (D) गुणवत्ता का ध्यान रखे बिना जैसे-तैसे काम निपटाना
35. 'विद्वान सब जगह पूजा जाता है' वाक्य में प्रयुक्त हुआ है
(A) सर्वनाम (B) संज्ञा
(C) विशेषण (D) क्रियाविशेषण
36. उद्बोधन विधि का उपभेद नहीं है -
(A) दृश्यविधान ✓ (B) अभिनय
(C) कहानी (D) अनुवाद
37. व्याकरण शिक्षा स्वतन्त्र रूप से किस विधि में नहीं दी जाती है ?
(A) भाषा-संसर्ग विधि (B) आगमन विधि
(C) निगमन विधि ✓ (D) पाठ्यपुस्तक विधि
38. बी.एस. ब्लूम ने शिक्षा में कौन सा नवीन आयाम दिया है ?
(A) हरबर्ट उपागम (B) मूल्यांकन उपागम
(C) आर.सी.ई.एम. उपागम (D) मॉरीसन उपागम
39. विश्लेषणात्मक विधि में प्रयोग होता है
(A) शब्द से वर्ण (B) वर्ण से शब्द
(C) शब्द से वाक्य (D) वाक्य से पैराग्राफ



ST-2

40. 31 का मानक रूप है -
(A) इकातीस
(C) एकातीस
41. वर्तनी की विधिवत् शिक्षा का ज्ञान किस स्तर पर हो जाना चाहिए ?
(A) प्राथमिक स्तर
(C) माध्यमिक स्तर
42. भाषिक सामग्री है -
(A) मूल विषयवस्तु
(C) शब्दावली
43. बुलेटिन बोर्ड है -
(A) श्रव्य सामग्री
(C) दृश्य-श्रव्य सामग्री
44. अधिक विश्वसनीय परीक्षण है -
(A) शिक्षक निर्मित परीक्षण
(C) आत्मनिष्ठ परीक्षण
45. सी.सी.ई. में व्यापकता का आशय निम्नांकित से नहीं है :
(A) विषयों की व्यापकता
(C) दायरे की व्यापकता
46. एक बालक जरूरत से ज्यादा अपने आपको असमर्थ समझ रहा है, वह हीन भावना ग्रन्थि से पीड़ित है और आत्मविश्वास खो बैठा है। एक शिक्षक के नाते आप उसका उपचार करेंगे -
(A) सहानुभूतिपूर्ण व्यवहार
(C) परिवार को सूचना देकर
47. वस्तुनिष्ठ प्रश्न का प्रकार है -
(A) आलोचनात्मक प्रश्न
(C) मिलान प्रश्न
48. मौन पठन का लाभ है -
(A) उच्चारण अभ्यास हेतु अवसर मिलता है।
(C) पठन की शुद्धता का संवर्द्धन होता है।
49. एक अच्छे मूल्यांकन की विशेषता नहीं है -
(A) वैधता
(C) आत्मनिष्ठता
50. रचना शिक्षण का उद्देश्य है
(A) साहित्य सृजन की प्रेरणा देना।
(C) सुसम्बद्धता बनाना।
- (11)
(B) एकतीस
(D) इक्तीस
(B) उच्च प्राथमिक स्तर
(D) उच्च माध्यमिक स्तर
(B) प्रत्ययों
(D) मूल विषय-वस्तु एवं प्रत्ययों
(B) दृश्य सामग्री
(D) कोमल सामग्री
(B) मौखिक परीक्षण
(D) प्रमापीकृत परीक्षण
(B) उपकरणों की व्यापकता
(D) प्रश्नों की व्यापकता
(B) दण्ड देकर
(D) मित्रों के साथ घूमने की प्रेरणा
(B) विश्लेषणात्मक प्रश्न
(D) व्याख्यात्मक प्रश्न
(B) स्वाध्याय की प्रवृत्ति विकसित होती है।
(D) एकाग्रचित होकर ध्वनियों का शुद्ध उच्चारण करना।
(B) वस्तुनिष्ठता
(D) व्यापकता
(B) क्रमबद्धता बनाना।
(D) व्याकरण सम्मत कार्य करना।

F (12)
 निम्नलिखित गद्यांश के आधार पर प्रश्न संख्या 51 से 55 तक के उत्तर दीजिए :

स्वावलंबन सफलता की कुंजी है। स्वावलंबी व्यक्ति जीवन में यश और धन दोनों अर्जित करता है। दूसरे के सहारे जीने वाला व्यक्ति तिरस्कार का पात्र बनता है। निरंतर निरादर और तिरस्कार पाता हुआ वह अपने आप में हीन-भावना से ग्रस्त होने लगता है। जीवन का यह तथ्य व्यक्ति के जीवन पर ही नहीं, वरन जातीय व राष्ट्र पर भी लागू होता है। यही कारण है कि स्वाधीनता संघर्ष के दौरान गांधीजी ने देशवासियों में जातीय गौरव का भाव जगाने हेतु स्वावलंबन का संदेश दिया था। चरखा-आंदोलन और डांडी कूच इस दिशा में गांधीजी के बड़े प्रभावी कदम सिद्ध हुए। स्वावलंबन के मार्ग पर चलकर ही व्यक्ति, जाति, समाज अथवा राष्ट्र उत्कर्ष को प्राप्त होते हैं।

51. 'तिरस्कार' शब्द में कौन सी संधि प्रयुक्त हुई है ?

- | | |
|-----------------|-----------------|
| (A) व्यंजन संधि | (B) विसर्ग संधि |
| (C) यण संधि | (D) गुण संधि |

52. 'हीन-भावना' शब्द में कौन सा समास है ?

- | | |
|--------------|---------------|
| (A) कर्मधारय | (B) अव्ययीभाव |
| (C) द्वंद्व | (D) बहुव्रीहि |

53. 'उत्कर्ष' का सही विलोम बताइए।

- | | |
|------------|-----------|
| (A) अपकर्ष | (B) अपयश |
| (C) अपकार | (D) अवनति |

54. 'स्वावलंबी' शब्द के लिए प्रयुक्त सही वाक्यांश है :

- | | |
|--------------------------------------|---------------------------|
| (A) स्वयं की इच्छा से सेवा करने वाला | (B) स्मरण करने योग्य |
| (C) जो हर प्रकार से आत्मनिर्भर हो | (D) बिना संकोच बोलने वाला |

indiresult.in whatsapp - 9352018749

55. इनमें से विदेशी शब्द बताइए :

- | | |
|-------------|------------|
| (A) राष्ट्र | (B) निरंतर |
| (C) व्यक्ति | (D) दौरान |

आज के विज्ञान-युग में प्रदूषण की समस्या एक बड़ी चुनौती बनकर खड़ी है। उद्योगों के विस्तार के साथ-साथ प्रदूषण भी और अधिक बढ़ा है। धरती का वायुमंडल इतना विषैला हो गया है कि किसी भीड़ भरे चौराहे पर साँस लेने में भी दिक्कत महसूस होने लगती है। प्रकृति में जब तक संतुलन बना हुआ था, तब तक जल और वायु दोनों ही शुद्ध थे। उपयोगितावाद के हाथों प्राकृतिक साधनों का अंधा-धुंध दोहन हुआ है। परिणामस्वरूप वातावरण में निरंतर प्रदूषण बढ़ा ही है। आज स्थिति यह हो गई है कि न केवल हवा बल्कि जल-स्रोत भी दूषित हो गए हैं। इतना ही नहीं अब तो ध्वनि-प्रदूषण के भी दुष्परिणाम सामने आने लगे हैं। यदि हम अब भी नहीं सँभले तो उसके विनाशकारी परिणाम शीघ्र सामने आएँगे।

56. इनमें से कौन सा शब्द पुल्लिंग शब्दों से असंगत है ?

- (A) विनाश (B) स्थिति
(C) वातावरण (D) परिणाम

57. इनमें से वह शब्द बताइए जिसका वचन अथवा लिंग किसी भी परिस्थिति में नहीं बदलता :

- (A) आलसी (B) लिपि
(C) दीवार (D) जल

58. 'उपयोगितावाद' शब्द का सही अर्थ बताइए :

- (A) वह सिद्धांत जिसमें किसी वस्तु की उपयोगिता बताई जाए।
(B) मौलिक उत्पत्ति का सिद्धांत
(C) अधिक से अधिक लोगों का अधिक से अधिक हित साधन धर्म
(D) उपयोग में लाने का भाव

59. 'यदि हम अब भी नहीं सँभले तो उसके विनाशकारी परिणाम शीघ्र सामने आएँगे' वाक्य में कौन से काल की प्रयुक्ति हुई है ?

- (A) आसन्न भूतकाल (B) संदिग्ध वर्तमान
(C) आज्ञार्थ वर्तमान (D) संभाव्य भविष्यत्

indiresult.in whatsapp - 9352018749

60. 'सभी चौराहों पर बहुत भीड़ रहती है' वाक्य में रेखांकित शब्द का अर्थ बताइए।

- (A) चार मंजिलों का भवन (B) वह स्थान जहाँ चार रास्ते मिलते हों।
(C) चारों तरफ देखने वाला (D) एकाधिक स्थान जहाँ चार रास्ते मिलते हों।

SECTION - II
LANGUAGE - I
ENGLISH



indiresult.in whatsapp - 9352018749

There are 30 questions in all in this Section.

All questions are compulsory.

31. Which of the following sentences has the correct structure of question ?
 (A) Do you have got a car ? (B) Have you got a car ?
 (C) Did you have got a car ? (D) Did you got a car ?
32. The passive voice form of the sentence - 'Thieves broke into my house' will be
 (A) My house was broken into by thieves.
 (B) Thieves were broken into my house.
 (C) My house had been broken into by thieves.
 (D) My house was broken by thieves.
33. Which is the correct option ?
 (A) Raghu is the tallest of any other boys in my class.
 (B) Raghu is tallest boy out of any boy in my class.
 (C) Raghu is the tallest boy in my class.
 (D) Raghu is the more tall boy in my class.
34. The passive voice form of the sentence ' "Who wrote this poem ?" ' will be
 (A) By whom had this poem been written ?
 (B) By whom has this poem been written ?
 (C) By whom was this poem written ?
 (D) By whom was this poem being written ?
35. Which of the following sentences has the correct structure of question ?
 (A) Why hadn't she attend the meeting ?
 (B) Why didn't she attend the meeting ?
 (C) Why didn't she attended the meeting ?
 (D) Why haven't she attended the meeting ?
36. 'The material should be according to the child's mental age, mental ability, grade and level'. Which principle of teaching is involved in this statement ?
 (A) Concreteness (B) Accuracy and correctness
 (C) Selection and Gradation (D) Proportion
37. _____ means equal treatment to various components of linguistic learning.
 (A) Habit formation (B) Interest
 (C) Multiple line (D) Proportion
38. Which principle of teaching English creates a zeal to learn something new in language ?
 (A) The principle of proper order (B) The principle of habit formation
 (C) The principle of motivation (D) The principle of selection
39. The method emerged as a reaction of the various demerits of The Grammar-translation method is _____.
 (A) Bilingual Method (B) Play and Learn Method
 (C) Direct Method (D) The Sentence Method

indiresult.in whatsapp - 9352018749

ST-2

(15)

40. Which method is also known as Natural Method of teaching English as second language ?
 (A) Substitution Method (B) Grammar-translation Method
 (C) Bilingual Method (D) Direct Method
41. Choose the productive skill from the following
 (A) Listening (B) Reading
 (C) Speaking (D) Reading aloud
42. What do people read for pleasure ?
 (A) Literature (B) Labels
 (C) Report (D) Dictionaries
43. Which technique of reading is used to get at the gist of the text ?
 (A) Skimming (B) Library
 (C) Scanning (D) Aloud
44. Which teaching aid can be used to teach listening comprehension ?
 (A) Text book (B) Word cards
 (C) Tape recorder (D) Picture cards
45. What can be used as props for dialogues in order to teach new lexical or structural items ?
 (A) Text book (B) Reference book
 (C) Realia (D) Dictionary
46. 'The testee has to replace the underlined word with correct option.' Which skill is tested in this statement ?
 (A) Reading (B) Listening
 (C) Writing (D) Hearing
47. _____ measures a student's achievement in relation to a specific task which he will later be required to perform.
 (A) Productive test (B) Proficiency test
 (C) Integrative test (D) Objective test
48. _____ test measures the language skill naturally.
 (A) MCQ type (B) Subjective
 (C) Objective (D) Reading
49. What is the cause of failure in learning a second language ?
 (A) Home assignment (B) Over simplification of target language
 (C) Diagnostic test (D) Reading strategy
50. Grammatical Errors refer to _____
 (A) Inappropriate words (B) Spelling errors
 (C) Lexical errors (D) Errors in syntax

Read the passage carefully and answer the questions that follow :

Prose Passage-I (Q. Nos. 51 to 55)

We pollute our environment by throwing different kinds of waste carelessly. Methods of waste reduction, waste reuse and recycling are the preferred options for managing waste. This problem is more serious in cities because sometimes it is difficult to find a proper place to dump the waste. Garbage bins overflow in big cities. The waste begins to rot after few hours and stinks. It becomes a breeding place for harmful bacteria which would spread ill health and diseases like malaria, typhoid, cholera and dengue, etc.

51. Which of the following words is a synonym for 'dump' ?
 (A) dispose of (B) cater
 (C) flourish (D) deck
52. The antonym of 'reduction' is
 (A) promotion (B) diminution
 (C) induction (D) decomposition
53. Which of the following words is correctly spelt ?
 (A) Fartile (B) Furtile
 (C) Fertile (D) Fortile
54. The verb 'pollute' can give us the noun
 (A) pollution (B) pollution
 (C) pollutable (D) polluted
55. Find the correct one word for the phrase given below :
 'Converting waste into reusable material'
 (A) garbage (B) recycling
 (C) managing waste (D) breeding

Read the passage and answer the questions that follow :

Prose Passage – II. (Q. Nos. 56 to 60).

I have access to safe water and to avoid water crisis in the near future it is necessary that correct policies and schemes are made. Water conservation and its proper management can also be considered as one of the effective steps to avoid water crisis. India has a long tradition of water harvesting. Harvesting rain water is one of the most effective ways to tackle the water crisis. The basic principle is, to collect the rain water where it falls, use it and let it seep into the ground. In this Rashtrapati Bhawan is leading the way. It is one of the few buildings in Delhi that conserves rain water. Aizawl in Mizoram meets most of its water needs through roof top harvesting.

56. Which of the following options is an example of 'demonstrative pronoun' ?
 (A) This (B) I
 (C) Its (D) Then
57. 'I have access to safe water.'
 The underlined verb – 'have' is an example of
 (A) An auxiliary verb (B) Verb in simple present
 (C) modal auxiliary verb (D) verb in present perfect
58. Which of the following has the three degrees of the adjective in their correct form ?
 (A) Near, more near, nearest (B) correct, more correct, correctest
 (C) few, fewer, the most few (D) effective, more effective, most effective
59. In the phrase 'water crisis in the near future', the determiner used is
 (A) water (B) crisis
 (C) the (D) near
60. Conjunctions in the passage are
 (A) and, that (B) as, of
 (C) where, let (D) most, through

(17)

खण्ड - II

भाषा - I

संस्कृतम्



indiresult.in whatsapp - 9352018749

अत्र त्रिंशत् प्रश्नाः सन्ति ।

सर्वे प्रश्नाः समाधेयाः ।

31. "भिखारियों को धन दो" इत्यस्य वाक्यस्य संस्कृतेन अनुवादं कुरुत
 (A) भिक्षुकाय धनं देहि । (B) भिक्षुकान् धनं देहि ।
 (C) भिक्षुकं धनं देहि । (D) भिक्षुकेभ्यः धनं देहि ।

32. रेखाङ्कितं पदम् अधिकृत्य प्रश्ननिर्माणं करणीयम्
 ते ग्रामं गच्छन्ति
 (A) कस्य (B) कुतः
 (C) कुत्र (D) किम्

33. रिक्तस्थानं पूरयित्वा सूक्तिं संयोजयत
 जननी जन्मभूमिश्च _____ गरीयसी ।
 (A) ज्ञानादपि (B) धनादपि
 (C) स्वर्गादपि (D) भूमेरपि

34. अधोलिखितस्य वाक्यस्य वाच्यपरिवर्तनं कुरुत
 बालिका नाटकं पश्यति ।
 (A) बालिकया नाटकं पश्यते । (B) बालिकया नाटकं दृश्यते ।
 (C) बालिकया नाटकः पश्यते । (D) बालिकया नाटकः दृश्यते ।

35. वाक्यमिदं संशोधयत
 "सः अक्षिणा काणः" ।
 (A) सः अक्षणे काणः । (B) सः अक्षणः काणः ।
 (C) सः अक्षिणि काणः । (D) सः अक्षणा काणः ।

indiresult.in whatsapp - 9352018749

36. छात्राणां भावप्रकाशनस्य शक्तेः विकासः भवति
 (A) वादविवादविधिना (B) पारायणविधिना
 (C) प्रश्नोत्तरविधिना (D) पाठशालाविधिना



F

(18)

ST-2

37. भारतीयसंस्कृतेः संरक्षणाय का पद्धतिः नितरामुपयुक्ता भवति ?
- (A) भण्डारकरपद्धतिः (B) परम्परागतपद्धतिः
(C) पाठ्यपुस्तकपद्धतिः (D) निर्बाधपद्धतिः
38. "शिक्षणे सौलभ्यसम्पादनम्" इति कस्याः पद्धतेः उद्देश्यम् अस्ति ?
- (A) निर्बाधपद्धतेः (B) भण्डारकरपद्धतेः
(C) पाठ्यपुस्तकपद्धतेः (D) परम्परागतपद्धतेः
39. कः शिक्षणसिद्धान्तः मानसिकविकासे तीव्रगतिमादधाति ?
- (A) अभ्यासस्य सिद्धान्तः (B) रुचेः सिद्धान्तः
(C) मौखिककार्यस्य सिद्धान्तः (D) सक्रियतायाः सिद्धान्तः
40. कः सिद्धान्तः "क्रियाशीलसिद्धान्तः" इति नाम्ना ज्ञायते ?
- (A) अभ्यासस्य सिद्धान्तः (B) स्वाभाविकतायाः सिद्धान्तः
(C) बहुमुखी सिद्धान्तः (D) अनुपातस्य क्रमस्य च सिद्धान्तः
41. कतिविधेषु कौशलेषु नैपुण्यसम्पादनं भाषायाः सांकेतिकं प्रयोजनम् अस्ति ?
- (A) त्रिविधेषु (B) चतुर्विधेषु
(C) द्विविधेषु (D) पञ्चविधेषु
42. छात्राणां द्वितीयो लक्षिताधिगमविशेषः किं नामकं कौशलम् अस्ति ?
- (A) श्रवणकौशलम् (B) पठनकौशलम्
(C) भाषणकौशलम् (D) लेखनकौशलम्
43. वर्णोच्चारणशिक्षणेन कस्य नियमितं प्रशिक्षणं भवति ?
- (A) स्वरयन्त्रस्य (B) श्रवणेन्द्रियस्य
(C) घ्राणेन्द्रियस्य (D) स्पर्शनेन्द्रियस्य
44. अधिगमप्रक्रियायां केषां विशेषभूमिका अस्ति ?
- (A) दृश्योपकरणानाम् (B) दृश्यश्रव्योपकरणानाम्
(C) श्रव्योपकरणानाम् (D) दर्शपत्रकाणाम्
45. मस्तिष्कयन्त्रस्य अपरं नाम किम् ?
- (A) दूरदर्शनम् (B) ध्वनिपञ्जिका
(C) भाषापञ्जिका (D) संगणकम्

ST-2

(19)

46. मूल्याङ्कनेन छात्रस्य पूर्णतया किं मापयितुं शक्यते ?
 (A) वैदुष्यम् (B) चातुर्यम्
 (C) व्यक्तित्वम् (D) प्रातिभ्यम्
47. बहुश्लोककण्ठस्थीकरणं कस्यां परीक्षायाम् अपेक्ष्यते ?
 (A) अन्त्याक्षरीपरीक्षायाम् (B) शलाकापरीक्षायाम्
 (C) वस्तुनिष्ठपरीक्षायाम् (D) निबन्धरूपपरीक्षायाम्
48. साक्षात्कारे का परीक्षा आयोज्यते ?
 (A) वस्तुनिष्ठपरीक्षा (B) मौखिकपरीक्षा
 (C) निबन्धरूपपरीक्षा (D) निदानात्मकपरीक्षा
49. संस्कृतशिक्षणे मूल्याङ्कनस्य प्रयोजनमस्ति
 (A) सामान्यशिक्षणम् (B) प्रशिक्षणम्
 (C) विश्लेषणात्मकशिक्षणम् (D) उपचारात्मकशिक्षणम्
50. परिष्कृतप्रश्नपत्रनिर्माणावसरे कस्य उपादेयता वर्तते ?
 (A) ज्ञानात्मकपक्षस्य (B) भावात्मकपक्षस्य
 (C) क्रियात्मकपक्षस्य (D) उपर्युक्त पक्षत्रयस्य



अधोलिखितम् अपठितं गद्यांशम् आधारीकृत्य निम्नलिखिताः प्रश्नाः : (51-55) समाधेयाः

चूण्डावतसर्वदारस्य रावतरत्नसिंहस्य विवाहः हाडावतीराजकुमार्या सह अभवत् । तस्य विवाहस्य द्वितीये तृतीये वा दिवसे महाराणाराजसिंहस्य सन्देशः आगतः यत् शीघ्रमेव अवरङ्गजेबेन सह युद्धं करणीयम् । इति विज्ञाय रावतरत्नसिंहस्य मनः दोलायमानम् अभवत् । एकतः राज्ञीं प्रति अनुरक्तिः अपरतश्च क्षत्रियधर्मः । अन्ततः क्षत्रियधर्मं पालयन् युद्धाय निश्चयः कृतः । राज्ञी अपि स्वपतिं तिलकं कृत्वा रक्षासूत्रं बध्वा आरार्तिकम् अवतारयत् ।

51. "तस्य विवाहस्य द्वितीये तृतीये वा दिवसे" इत्यत्र अव्ययपदं किम् ?
 (A) द्वितीये (B) वा
 (C) तस्य (D) दिवसे

indiresult.in whatsapp - 9352018749

52. "रक्षासूत्रम्" इत्यस्मिन् पदे कः समासः ?

- (A) तत्पुरुषः (B) अव्ययीभावः
 (C) बहुव्रीहिः (D) द्वन्द्वः



- F
53. "अवतारयत्" इत्यस्मिन् पदे मूलधातुः कः ? (20)
- (A) अव (B) अवतार
(C) तृ (D) अवतृ
54. "पालयन्" इत्यत्र कः प्रत्ययः ?
- (A) ल्युट् (B) तुमुन्
(C) शानच् (D) शत्
55. "युद्धाय" इत्यत्र का विभक्तिः ?
- (A) पञ्चमी (B) चतुर्थी
(C) तृतीया (D) द्वितीया

अधोलिखितम् अपठितं गद्यांशम् अवलम्ब्य निम्नाङ्किताः प्रश्नाः (56-60) समाधेयाः -

'भारतदेशः विश्वगुरुरासीत्' इति यदा वयं वदामः तदा प्रायशः जनानां मनसि भारतस्य आध्यात्मिकं स्वरूपमेव प्रकटितं भवति । तैः मन्यते यत् भारतं धर्म - दर्शन - तत्त्वज्ञान - खाद्यान्नादिपदार्थानां कारणादेव विश्वगुरुः आसीत् । ते न जानन्ति यदं ज्ञान-विज्ञानदृष्ट्या अपि अस्माकं देशः विश्वस्य मार्गदर्शकः आसीत् ।

56. "भवति" इत्यस्य विधिलिङ्गकारे रूपं भवति
- (A) भवतु (B) अभवत्
(C) भवेत् (D) भविष्यति
57. "जानन्ति" इति पदे मूलधातुः कः ?
- (A) जान् (B) ज्ञा
(C) जा (D) ज्ञान्
58. "मार्गदर्शकः" इत्यस्य पदस्य स्त्रीलिङ्गे रूपं भवति
- (A) मार्गदर्शिकी (B) मार्गदर्शकम्
(C) मार्गदर्शिनी (D) मार्गदर्शिका
59. "धर्मः" इति पदस्य विलोमशब्दः कः ?
- (A) प्रधर्मः (B) अतिधर्मः
(C) अधर्मः (D) सुधर्मः
60. "तदा प्रायशः जनानां मनसि" इत्यत्र बहुवचनान्तं पदं किम् ?
- (A) मनसि (B) जनानाम्
(C) प्रायशः (D) तदा

(21)

باب - II

زبان - I

اُردو



اس سیکشن میں تیس (30) سوالات دیئے گئے ہیں۔ تمام سوالات کے جوابات ضروری ہیں۔

31. زید نے عربی گھوڑا خریدا
اس جملے میں عربی گھوڑا کس کی علامت ہے؟
(A) صفت نسبتی
(B) صفت عددی
(C) صفت ذاتی
(D) صفت مقداری
32. وہ فعل جس میں کسی کام کا ہونا مکمل طور پر واضح نہیں ہوتا کہلاتا ہے
(A) فعل مرکب
(B) فعل متعدی
(C) فعل ناقص
(D) فعل لازم
33. معنی کے لحاظ سے فعل کی کتنی قسمیں ہیں؟
(A) دو
(B) تین
(C) چار
(D) پانچ
34. جو اس شور سے میرا روتا رہے گا تو ہمسایہ کا ہے کو سوتا رہے گا
اس شعر میں کون سے زمانہ کی وضاحت ہے؟
(A) حال
(B) ماضی
(C) مستقبل
(D) ماضی قریب
35. 'حاجی' کی تانیث ہے
(A) حج
(B) جن
(C) حجت
(D) حجامت
36. 'حرکات و سکنات' کو کہتے ہیں
(A) عرب
(B) تحریک
(C) اعراب
(D) حکومت
37. 'اتحاد و اتفاق ہی سے قوم ترقی کرتی ہے۔'
اس جملے میں اتحاد و اتفاق ہیں
(A) متضاد
(B) مترادف
(C) سابقہ
(D) لاحقہ
38. 'عبادت خانہ' کون سا لفظ ہے؟
(A) مرلغ
(B) مرکب
(C) سابقہ
(D) لاحقہ

ST-2

39. 'آسمان سے گرا کھجور میں اڑکا' کا مطلب ہے
- (A) آسمان اور کھجور میں فاصلہ بتانا
(B) آسمان کی اونچائی کا علم ہونا
(C) ایک مصیبت سے نکل کر دوسری میں گرفتار ہونا
(D) اپنے کام کی فکر ہونا
40. کتے سے ذرا طویل ٹھہراؤ کی علامت ہے
- (A) وقفہ (B) رابطہ
(C) واوین (D) خمر
41. 'قوسین' کی علامت ہے
- (A) ؛ (B) ! (C) ؟ (D) ()
42. 'رجز' کس صنفِ سخن کے جزو ہے؟
- (A) غزل (B) قصیدہ
(C) مرثیہ (D) مثنوی
43. 'باغ و بہار' کس کی تصنیف ہے؟
- (A) مولانا حالی
(B) سرسید
(C) میرامن
(D) محمد حسین آزاد
44. زبان کی آوازوں کی دو قسموں کے نام ہیں
- (A) سابعے اور لاحقے
(B) مصوتے اور مصمیتے
(C) رموزِ اوقاف
(D) مفرد و مرکب
45. قصہ داری طریقہ سے پڑھانے میں کس کا انتخاب کیا جاتا ہے؟
- (A) حروف کی آواز
(B) الفاظ و جملے
(C) حروف کی شکل
(D) قصہ یا کہانی
46. اردو لکھنا سکھانے کا تحلیلی طریقہ ہے
- (A) دیکھو، پڑھو اور لکھو
(B) کھیل کھیل میں لکھنا سکھانا
(C) مفرد اور مرکب بنانا
(D) حروف کو جوڑ کر الفاظ بنانا

درج ذیل اقتباس کو پڑھ کر نیچے لکھے سوالات (47 تا 50) کے جوابات دیجئے:

ستمبر کا آخری ہفتہ تھا۔ دن کے تیسرے پہر جب سورج ڈھل چکا تھا دھوپ کی شدت کم اور شام سہانی تھی۔ سالم نے باغ کا رخ کیا۔ گھر کے قریب ہی گھنے باغ میں پہنچ کر وہ اپنی عادت کے مطابق قدرتی مناظر میں کھو گیا۔ بچپن سے اس کو بیڑ پودے، ندی نالے، آسمان اور پہاڑ، چروپرند بہت اچھے لگتے تھے۔ رنگ برنگی، چھوٹی بڑی حسین اور خوبصورت چڑیوں سے اس کو خاص دلچسپی تھی۔ وہ اکثر دیر تک کھلے آسمانوں میں پرواز کرتی ہوئی چڑیوں کو غور سے دیکھتا۔ کوئل، مور، پیپہا، ہنس، بگلا، بیلا، ہدہد، مینا اور طوطا وغیرہ کی آوازوں اور رنگوں میں کھو جاتا۔

47. سورج ڈھلنے کے وقت کو کہتے ہیں

- (A) طلوع آفتاب
(B) غروب آفتاب
(C) قرب آفتاب
(D) زوال آفتاب

48. دھوپ کی شدت اور شام سہانی تھی۔ اس جملے میں شدت اور سہانی الفاظ کس کی علامات ہیں؟

- (A) فاعل
(B) ضمیریں
(C) صفت
(D) مرکب الفاظ

49. 'مناظر' کا واحد ہے

- (A) منظور
(B) نظر
(C) نظریہ
(D) منظر

50. 'شدت' کا متضاد لفظ کیا ہے؟

- (A) نرمی
(B) گرمی
(C) وحدت
(D) مدت

درج ذیل اقتباس کو پڑھ کر نیچے لکھے سوالات (51 تا 55) کے جوابات لکھئے:

سبا لکشمی کی آواز اور گانگی میں فطری حسن تھا۔ جب ان کے وطن مدورنی میں ان کی شہرت پھیلی تو ان کی والدہ نے انہیں مدراس لے جانے کا فیصلہ کیا تاکہ دور دراز کے لوگ بھی ان کی صلاحیت سے آگاہ ہو سکیں۔ اس زمانے میں اسٹیج پر عورتوں کے گانے کا رواج نہیں تھا۔ لوگ اسے معیوب سمجھتے تھے۔ سبا لکشمی نے اس روایت کو توڑنے کا ارادہ کر لیا اور اسٹیج پر اپنے فن کا مظاہرہ کرنے کی ٹھان لی۔ سننے والے مسحور ہو گئے بہت جلد سبا لکشمی نے اپنی صلاحیت کا لوہا منوا لیا اور ان کے ہنر کی خوشبو ہر طرف پھیل گئی ان کی شخصیت میں غیر معمولی متانت اور پاکیزگی تھی۔ لوگ ان کی آواز سے محبت کرتے تھے اور انہیں احترام کی نظر سے دیکھتے تھے۔

indiresult.in whatsapp - 9352018749

51. 'متانت' کے کیا معنی ہیں؟



- (A) بندگی
(B) زندگی
(C) سنجیدگی
(D) سادگی

indiresult.in whatsapp - 9352018749

F

52. 'معیوب' لفظ کا متضاد کیا ہے؟

- (A) عمدہ
(B) عیب دار
(C) بیکار
(D) عداوت

53. 'احترام' لفظ کا مترادف ہے

- (A) جرم
(B) عزت
(C) دشمن
(D) حجرہ

54. "لوہا منوانا" کیا ہے؟

- (A) ضرب المثل
(B) روزمرہ
(C) محاورہ
(D) کہاوت

55. "مسور" کے معنی ہیں

- (A) جو بہت غمگین ہو
(B) جس پر جادو کیا گیا ہو
(C) جو بہت نازک ہو
(D) جو بہت ناراض ہو

56. ذیل میں کون 'سابقے' کی مثال ہے؟

- (A) نظر بند
(B) پینک پوش
(C) بامرؤت
(D) دل شکن

57. ذیل میں مترادفات کی مثال ہے:

- (A) عزم و عظیم
(B) عیش و آرام
(C) رزم و بزم
(D) نفرت و محبت

58. وہ لفظ جو کسی کام کے کرنے والے کو ظاہر کرے کہلاتا ہے

- (A) مفعول
(B) فاعل
(C) ضمیر
(D) اسم

59. 'رسالہ' کی جمع ہے

- (A) رسول
(B) رسالت
(C) رسائل
(D) رسل

indiresult.in whatsapp - 9352018749

60. 'خیر' کا متضاد ہے

- (A) خر
(B) خرگوش
(C) شریف
(D) شر

indiresult.in whatsapp - 9352018749

खण्ड - II

भाषा - I

सिंधी



कुल 30 सुवाल आहिनी
सभेई सुवाल करण जरूरी आहिनी ।

हेठियो टुकरो ध्यान सां पढी डिनल सुवालनि जा जवाब लिखो (31-35) ।

मुल्क में संस्कृतीअ जो प्रदर्शनु पूरीअ रीति कलाकार कराए सधे थो इहो ही कारण आहे जो जडहिं बि को देश चाहे थो त बियनि देशनि खे असांजी संस्कृतीअ जो पतो पवे तडहिं कलाकारनि खे ही उहो कम सुपुर्दु कयो थो वजे ऐं उहे कलाकार पूरीअ माना में देश जा एलिची बणिजी पहिंजी कला द्वारा पहिंजे मुल्क जो मानु मथे कनि था । मुल्क जूँ झूनियूं रीतियूं रस्मूं कहिडियूं आहिनी देश जा किसान कहाणियूं कहिडी बनावत ते बीठल आहिनि, कौम जो अदबु कहिडे मयार जो आहे, जनता जा अकीदा ऐं विश्वास कहिडा आहिनी, जनता खे रागु यानि मौसीकी संगीत में लताफत शामिल आहे, माणहुनि जी पोशाक कहिडी आहे हुनि जी रहिणी कहिणी कहिडी आहे वगैरह वगैरह इन्हनि सभिनी गाल्हियुनि ते कलाकार स्थूल या सूख्यम कला द्वारा रोशनी विझी पहिंजे देश जी सभ्यता संस्कृतीअ ते रोशनी विझे थो ।

31. मथियें टुकर जो उनवान आहे ।

(A) कला ऐं कलाकार

(B) फरिश्ता

(C) अगुवान

(D) सन्त महात्मा

32. लताफत अखर जी माना आहे -

(A) आनन्द

(B) दुख

(C) क्रोध

(D) लुचाई

33. मुल्क में _____ जो प्रदर्शन पूरीअ तरह कलाकार कराए सधे थो ।

(A) ईश्वर

(B) संस्कृति

(C) काइनात

(D) वहिदत

34. दातार जी सांगी माना वारो लफज आहे ।

(A) परमात्मा

(B) इन्सान

(C) हैवान

(D) दैत

35. मानु अखर जो जिदु आहे ।

(A) अपमानु

(B) इज्जत

(C) आबरु

(D) सन्मानु

indiresult.in whatsapp - 9352018749

36. काठेर ऐं हजमु निबेरो करण लाइ कंहि वटि विया

(A) सेनापतीअ वटि

(B) मुखीअ वटि

(C) राजा वटि

(D) वज्जीर वटि

F

(26)



37. छन्ड फूक अखर जी सही माना आहे -

(A) सफाई

(B) गंदगी

(C) किनि किचिरो

(D) इन्हनि मां को बि न

38. भरत तुहिंजो भागु खुलियो आहे ही अखर कंहि कंहिखे चया ।

(A) राम भरत खे

(B) लछमण भरत खे

(C) कैकयीअ भरत खे

(D) दशरथ भरत खे

39. अन्नदातामां कूड न गाल्हाए रहियो आहियां जुमिलो कंहि कंहिखे चयो ?

(A) अन्नदाता आसकरण खे

(B) आसकरण अन्नदाता खे

(C) अन्नदाता आसकरण जे पुट खे

(D) मथियनि मां को बि न

40. सिन्धु नदीअ जो जनमु किथां थियो

(A) मानसरोवर

(B) झेलम

(C) सतलज

(D) बियास

41. सजे साल में मुन्दू थींदियूं आहिनि -

(A) छः

(B) पंज

(C) चार

(D) अठ

42. श्री राम शबरीअ जी भगतीअ जो बुधी लछमण समेत संदसि _____ में आयो ।

(A) घर में

(B) कुटिया में

(C) झूपिड़ीअ में

(D) झंगल में

indiresult.in whatsapp - 9352018749

43. आनन्द भवन जो जिकर कहिडे पाठ में कयल आहे -

(A) इन्दिरा जी राद

(B) घर जी सफाई

(C) सची शेवा

(D) नम्रता

44. "बुधीअ जो बलु कहाणीअ में जिकर कयल आहे

(A) बिन छोकरनि जो

(B) बिन मतारनि ढगुनि जो

(C) बनि हारियुनि जो

(D) बनि मेंहुनि जो

ST-2

45. सुरेश खे इनाम मिलियो

(27)

F



- (A) क्लास में पहिरियो नम्बर अचण करें
- (B) रांदियुनि जे चटाभेटीअ में पहिरियो इनाम हासिल करण करे
- (C) निबन्ध चटाभेटीअ में पहिरियो नम्बर अचण करें
- (D) संगीत चटाभेटीअ में पहिरियो नम्बर अचण करे

46. सिन्धी शाइरनि में महाकविअ जो दर्जो कहिडे शाइर खे मिलियल आहे -

- (A) हून्दराज दुखायल
- (B) हरी दिलगीर
- (C) नारायण श्याम
- (D) किशनचन्द बेवस

47. ब्रार खे कम्प्यूटर बाबत ज्ञाण ड्रियण जो कारगार तरीको आहे

- (A) कम्प्यूटर लैब में वठी वजणु
- (B) किताबनि मार्फत कम्प्यूटर जी ज्ञाण ड्रियणु
- (C) चार्ट मार्फत कम्प्यूटर जी ज्ञाण ड्रियणु
- (D) मथियनि मां को बि न

48. वेदान्ती कवि आहे -

- (A) बेवस
- (B) दुखायल
- (C) सचल
- (D) सामी

49. चून्डीन्डे बेर वजी पिया खखिडे चविणीअ जी माना आहे -

- (A) घणी सियाणप करणु अजाई आहे
- (B) घणी सियाणप करणु सुठी आहे
- (C) घणी सियाणप फायदे वारी आहे
- (D) मथियनि मां को बि न

indiresult.in whatsapp - 9352018749

50. आज्रमाए खे आज्रमाए _____ (हिन पहाके खे पूरो कयो ।)

- (A) सो धूडि मुंह में पाए
- (B) सो खड्ड में किरे
- (C) सो छाई पाए
- (D) सो खूह में किरे



हेठियें टुकरे खे घ्यान सां पढी डिनल सुवालनि (51-55) जा जवाब लिखो ।

ईश्वर जी सृष्टीअ में मानख देही खां बि वधीक श्रेष्ठ पद थी सधे थो ऐं हून्दो बि । इऐं न हुजे त पोइ किथां आया देवता ऐं फरिश्ता अप्सराऊं ऐं हूरुं, इन्दर लोक ऐं सतों आसमान ? ही जे नियापा था अचनि मुअलनि जे रूह वटां से बि किथां त ईन्दा हून्दा ? सभु ठगी या चश्म बन्दी त न हून्दी ! सूंह में ऐं शक्तीअ में, समिझ में ऐं फुड़ताईअ में, पहुच में ऐं पद में, इन्सान खां अकीचार जीव गोइ खणी वेन्दा हून्दा, पर मानख देहीअ खे जो वरु मिल्यलु आहे, पुत्र जो ऐं पाप जो, प्रेम जो ऐं द्वेष जो बन्धन जो ऐं मुक्तीअ जो, जो हिन खे देवी देवताउन फरिश्तन ऐं मलाइकानि खां घणो मथे नेऐ ईश्वर सां हिकु थो करे छडे ऐं या त ईश्वर जो नूर थो उतिस चमकाए ।

“आदम को खुदा मत कहो आदम खुदा नहीं
लेकिन खुदा के नूर से आदम जुदा नहीं।”

51. 'मानख' अखर जी माना आहे ।

(A) इन्सान	(B) हैवान
(C) फरिश्तो	(D) दैत
52. 'अकीचार' जो जिद आहे ।

(A) वधीक	(B) थोरा
(C) बेअन्त	(D) झझों
53. 'इन्सान खे, चिमकाए थो' -

(A) ईश्वर जो नूर	(B) ईश्वर जी दुश्मनी
(C) ईश्वर जी नफरत	(D) ईश्वर जी सूंह
54. मानख देहीअ खे _____ मिल्यल आहे ।

(A) पारातो	(B) पिट
(C) आसीस	(D) वरु
55. हेठियनि अखरनि में कहिडो अखरू मेल खाईन्दइ न आहे

(A) देवता	(B) फ़िरिश्ता
(C) जानवर	(D) अपसराऊं
56. 'शीहुं शिकार कन्दो आहे' में कहिडो इस्म कमु आन्दो वियो आहे ?

(A) इस्म जाति	(B) इस्म खासि
(C) इस्म जिन्स	(D) इस्म आम
57. जमीर छा खे चइबो आहे ?

(A) जेको शब्द कंहिजी विशेषता बुधाए	(B) जेको शब्द कम करण जो अहसास डियारे
(C) जेको शब्द इस्म बदिरां कमु अंचे ।	(D) जंहि शब्द सां दिल जी हालत जी जाण पवे ।
58. सिन्धी अरबी लिपीअ जी आईवेटा में कुल खर आहिनी ।

(A) 48	(B) 52
(C) 50	(D) 54
59. गीता होशीयार छोकिरी आहे में सिफत कहिडी आहे ?

(A) गीता	(B) होशियार
(C) छोकिरी	(D) आहे
60. इहो ज़मान जंहिं मां गुज़रियल वक्त जी खबर पवे तंहिं खे चइबो आहे ।

(A) ज़मान हाल	(B) ज़मान माजी
(C) ज़मान मुस्तकबल	(D) इन्हनि मां कुझ बि न

indiresult.in whatsapp - 9352018749

ਖੰਡ- II

ਭਾਸ਼ਾ- I

ਪੰਜਾਬੀ



ਇਸ ਖੰਡ ਵਿੱਚ ਕੁੱਲ 30 ਪ੍ਰਸ਼ਨ ਹਨ ।

ਸਾਰੇ ਪ੍ਰਸ਼ਨ ਜ਼ਰੂਰੀ ਹਨ ।

31. ਵਿਸ਼ੇਸ਼ਣ ਕਿੰਨੀ ਪ੍ਰਕਾਰ ਦੇ ਹੁੰਦੇ ਹਨ ?
 (A) ਤਿੰਨ
 (B) ਚਾਰ
 (C) ਪੰਜ
 (D) ਦੋ
32. 'ਕੀ ਕੁੜੀਏ ! ਕੋਈ ਕੰਮ ਦੀ ਗੱਲ ਕਰ ।' ਵਾਕ ਵਿਸਮਿਕ ਦੀ ਕਿਹੜੀ ਕਿਸਮ ਹੈ ?
 (A) ਸੰਬੋਧਨੀ
 (B) ਪ੍ਰਸ਼ਨ-ਵਾਚਕ
 (C) ਸਤਿਕਾਰ-ਵਾਚਕ
 (D) ਅਸੀਸ-ਵਾਚਕ
33. ਇੱਕ ਚੰਗਾ ਅਧਿਆਪਕ ਉਹ ਹੁੰਦਾ ਹੈ ਜੋ
 (A) ਇਹ ਕਹੇ ਕਿ ਮੈਂ ਸਭ ਕੁੱਝ ਨਹੀਂ ਜਾਣਦਾ ।
 (B) ਕਵਲ ਆਪਣੀ ਤਨਖਾਹ ਵਧਾਉਣ ਲਈ ਸੰਘਰਸ਼ ਕਰਦਾ ਰਹੇ ।
 (C) ਮੁਸ਼ਕਿਲ ਵਸਤੂ ਸਾਮੱਗਰੀ ਨੂੰ ਵਿਦਿਆਰਥੀਆਂ ਲਈ ਆਸਾਨ ਬਣਾਉਂਦਾ ਹੈ ।
 (D) ਆਪਣੇ ਗਿਆਨ ਦਾ ਭੰਡਾਰ ਕਦੇ ਨਹੀਂ ਵਧਾਉਂਦਾ ।
34. ਜੇਕਰ ਤੁਹਾਡੀ ਜਮਾਤ ਵਿਚ ਬਹੁਤੇ ਵਿਦਿਆਰਥੀ ਕਮਜ਼ੋਰ ਹਨ ਤਾਂ ਤੁਹਾਨੂੰ ਚਾਹੀਦਾ ਹੈ ਕਿ ਤੁਸੀਂ _____
 (A) ਹੁਸ਼ਿਆਰ ਵਿਦਿਆਰਥੀਆਂ ਵੱਲ ਵੱਧ ਧਿਆਨ ਨਾ ਦਿਉ
 (B) ਆਪਣੇ ਅਧਿਆਪਨ ਦੀ ਗਤੀ ਤੇਜ਼ ਰੱਖੋ ਵਿਦਿਆਰਥੀਆਂ ਦੀ ਸੂਝ-ਬੂਝ ਦਾ ਪੱਧਰ ਵਧੇ ਜਾਂ ਨਾ ਵਧੇ
 (C) ਆਪਣੇ ਅਧਿਆਪਨ ਦੀ ਗਤੀ ਧੀਮੀ ਰੱਖੋ
 (D) ਆਪਣੇ ਅਧਿਆਪਨ ਦੀ ਗਤੀ ਧੀਮੀ ਰੱਖਦੇ ਹੋਏ ਹੁਸ਼ਿਆਰ ਬੱਚਿਆਂ ਦੀ ਕੁੱਝ ਵਾਧੂ ਅਗਵਾਈ ਕਰੋ
35. ਭਾਸ਼ਾ ਦਾ ਇੱਕ ਅਧਿਆਪਕ ਜੋ ਆਪਣੇ ਵਿਦਿਆਰਥੀਆਂ ਦਾ ਧਿਆਨ ਨਹੀਂ ਖਿੱਚ ਸਕਦਾ, ਉਸਨੂੰ ਚਾਹੀਦਾ ਹੈ ਕਿ ਉਹ _____
 (A) ਆਪਣੀ ਅਧਿਆਪਨ, ਵਿਧੀ ਦਾ ਮੁਲਾਂਕਨ ਕਰਕੇ ਉਸ ਵਿਚ ਸੁਧਾਰ ਕਰੇ
 (B) ਆਪਣੇ ਅਹੁਦੇ ਤੋਂ ਅਸਤੀਫਾ ਦੇ ਦੇਵੇ
 (C) ਆਪਣੇ ਵਿਦਿਆਰਥੀਆਂ ਵਿੱਚ ਨੁਕਸ ਕੱਢੇ
 (D) ਹਦਾਇਤਾਂ ਦੇਣੀਆਂ ਸ਼ੁਰੂ ਕਰੇ
36. ਹੇਠ ਲਿਖਿਆਂ ਵਿੱਚੋਂ ਕਿਹੜਾ ਠੀਕ ਹੈ ?
 (A) ਵਿਆਕਰਨ ਦੀ ਪੁਸਤਕ ਨੂੰ ਵਿਆਕਰਨ ਸਿੱਖਿਆ ਦਾ ਆਧਾਰ ਬਣਾਇਆ ਜਾਂਦਾ ਹੈ ।
 (B) ਵਿਆਕਰਨ ਦੀ ਪੁਸਤਕ ਵਿਚ ਕੇਵਲ ਪਰਿਭਾਸ਼ਾਵਾਂ ਹੀ ਹੁੰਦੀਆਂ ਹਨ ।
 (C) ਵਿਆਕਰਨ ਦੀ ਪੁਸਤਕ ਵਿਚ ਕੇਵਲ ਨਿਯਮ ਹੀ ਹੁੰਦੇ ਹਨ ।
 (D) ਵਿਆਕਰਨ ਦੀ ਪੁਸਤਕ ਵਿਚ ਉਦਾਹਰਨਾਂ ਨਹੀਂ ਹੁੰਦੀਆਂ ।
37. ਭਾਸ਼ਾ ਉਚਾਰਨ ਠੀਕ ਕਰਨ ਲਈ ਕਿਹੜਾ ਸਾਧਨ ਵਧੇਰੇ ਲਾਭਦਾਇਕ ਹੋ ਸਕਦਾ ਹੈ ?
 (A) ਟੇਪ ਰਿਕਾਰਡਰ
 (B) ਟੈਲੀਵਿਜ਼ਨ
 (C) ਰੇਡੀਓ
 (D) ਨਕਸ਼ਾ

indiresult.in whatsapp - 9352018749

38. ਹੇਠ ਲਿਖਿਆਂ ਵਿੱਚੋਂ ਅਸ਼ਾਬਦਿਕ ਸਾਧਨ ਚੁਣੋ
(A) ਸ਼ਬਦ-ਚਿੱਤਰ
(C) ਮਾਡਲ

- (B) ਤੁਲਣਾ
(D) ਰੂਪਕ



39. 'ਅਭਿਨੈ ਪ੍ਰਣਾਲੀ' ਦਾ ਸੰਬੰਧ ਕਿਸ ਨਾਲ ਹੈ ?

- (A) ਨਾਟਕ ਸਿੱਖਿਆ
(C) ਵਿਆਕਰਨ ਸਿੱਖਿਆ

- (B) ਵਾਰਤਕ ਸਿੱਖਿਆ
(D) ਆਲੋਚਨਾ

40. ਬੱਚਾ ਮਾਤ-ਭਾਸ਼ਾ ਕਿੱਥੋਂ ਸਿੱਖਦਾ ਹੈ ?

- (A) ਬਾਜ਼ਾਰ ਵਿੱਚੋਂ
(C) ਡਾਕਟਰ ਕੋਲੋਂ

- (B) ਮੇਲੇ ਵਿੱਚੋਂ
(D) ਮਾਂ ਤੋਂ

ਹੇਠ ਲਿਖੇ ਪੈਰੇ ਨੂੰ ਪੜ੍ਹ ਕੇ ਸਵਾਲ ਨੰਬਰ 41 ਤੋਂ 45 ਤੱਕ ਦੇ ਉੱਤਰ ਦਿਉ।

ਸਾਡੇ ਸਕੂਲਾਂ ਵਿਚ ਪੁਸਤਕਾਲਿਆਂ ਦੀ ਮੌਜੂਦਾ ਹਾਲਤ ਸੰਤੋਖ ਜਨਕ ਨਹੀਂ ਹੈ। ਹਰ ਪ੍ਰਬੰਧਕ ਤੇ ਸਿੱਖਿਆ-ਅਧਿਕਾਰੀ ਇਸ ਗੱਲ ਨਾਲ ਸਹਿਮਤ ਹੈ ਕਿ ਹਰੇਕ ਸਕੂਲ ਵਿਚ ਪੁਸਤਕਾਲਾ ਜ਼ਰੂਰ ਹੋਣਾ ਚਾਹੀਦਾ ਹੈ। ਫਿਰ ਵੀ ਉਹ ਇਸ ਦੇ ਯੋਗ ਪ੍ਰਬੰਧ ਵੱਲ ਧਿਆਨ ਨਹੀਂ ਦਿੰਦੇ। ਬਹੁਤ ਸਾਰੇ ਸਕੂਲਾਂ ਵਿਚ ਤਾਂ ਪੁਸਤਕਾਲੇ ਹੋਰੀ ਨਹੀਂ। ਅਜਿਹੇ ਸਕੂਲਾਂ ਦੇ ਪ੍ਰਬੰਧਕ, ਧਨ ਦੀ ਘਾਟ ਜਾਂ ਸਥਾਨ ਦੀ ਘਾਟ ਦਾ ਬਹਾਨਾ ਬਣਾ ਕੇ, ਇਸ ਤੋਂ ਬਚਣ ਦੀ ਕੋਸ਼ਿਸ਼ ਕਰਦੇ ਹਨ। ਇਹ ਠੀਕ ਨਹੀਂ ਹੈ। ਸਕੂਲ ਵਿਚ ਪੁਸਤਕਾਲੇ ਦੀ ਮਹੱਤਤਾ ਨੂੰ ਸਮਝਦੇ ਹੋਏ, ਉਸ ਲਈ ਧਨ ਤੇ ਸਥਾਨ, ਦੋਹਾਂ ਦਾ ਪ੍ਰਬੰਧ ਕਰਨਾ ਚਾਹੀਦਾ ਹੈ। ਜੇਕਰ ਅਸੀਂ ਸਿੱਖਿਆ ਦੇ ਖੇਤਰ ਵਿਚ ਸਮਾਜ ਤੇ ਰਾਸ਼ਟਰ ਦੀ ਸੇਵਾ ਕਰਨੀ ਚਾਹੁੰਦੇ ਹਾਂ ਤਾਂ ਸਾਨੂੰ ਹਰ ਸਕੂਲ ਵਿਚ ਪੁਸਤਕਾਲੇ ਦੀ ਸਥਾਪਨਾ ਲਈ ਲੋੜੀਂਦੇ ਪ੍ਰਬੰਧ ਕਰਨੇ ਪੈਣਗੇ।

41. 'ਸਕੂਲ' ਸ਼ਬਦ ਕਿਹੜਾ ਨਾਂਵ ਹੈ ?

- (A) ਜਾਤੀ-ਵਾਚਕ
(C) ਭਾਵ-ਵਾਚਕ

- (B) ਨਿੱਜ-ਵਾਚਕ
(D) ਪਦਾਰਥ-ਵਾਚਕ

42. 'ਹਰੇਕ ਸਕੂਲ ਵਿਚ ਇਕ ਪੁਸਤਕਾਲਾ ਜ਼ਰੂਰ ਹੋਣਾ ਚਾਹੀਦਾ ਹੈ' ਵਾਕ ਕਾਰਕ ਦਾ ਕਿਹੜਾ ਪ੍ਰਕਾਰ ਹੈ ?

- (A) ਅਪਾਦਾਨ ਕਾਰਕ
(C) ਅਧਿਕਰਨ ਕਾਰਕ

- (B) ਕਰਮ ਕਾਰਕ
(D) ਸੰਪਰਦਾਨ ਕਾਰਕ

43. ਉਪਰੋਕਤ ਪੈਰੇ ਦਾ ਢੁੱਕਵਾਂ ਸਿਰਲੇਖ ਕਿਹੜਾ ਹੋ ਸਕਦਾ ਹੈ ?

- (A) ਸਕੂਲ
(C) ਪ੍ਰਬੰਧ

- (B) ਪੁਸਤਕਾਲਿਆ
(D) ਰਾਸ਼ਟਰ

44. ਉਪਰੋਕਤ ਪੈਰੇ ਵਿਚ ਪੁਸਤਕਾਲੇ ਦੀ ਸਥਾਪਨਾ ਦਾ ਜ਼ੋਰ ਕਿਸ ਥਾਂ ਉੱਪਰ ਕਰਨ ਲਈ ਕਿੱਤਾ ਗਿਆ ਹੈ ?

- (A) ਸਕੂਲ
(C) ਸ਼ਹਿਰ

- (B) ਪਿੰਡ
(D) ਮੁਹੱਲਾ

indiresult.in whatsapp - 9352018749

45. 'ਸੰਤੋਖਜਨਕ' ਸ਼ਬਦ ਕੀ ਹੈ ?

- (A) ਅਗੇਤਰ
(C) ਵਿਰੋਧਾਤਮਕ

- (B) ਨਾਕਾਰਾਤਮਕ
(D) ਪਿਛੇਤਰ



ਹੇਠ ਲਿਖੇ ਪੈਰੇ ਨੂੰ ਪੜ੍ਹ ਕੇ ਸਵਾਲ ਨੰਬਰ 46 ਤੋਂ 50 ਤੱਕ ਦੇ ਉੱਤਰ ਦਿਉ :

ਪ੍ਰਦੂਸ਼ਣ ਅੱਜ ਦੇ ਯੁਗ ਦੀ ਸਭ ਤੋਂ ਵੱਡੀ ਸਮੱਸਿਆ ਹੈ। ਜਦੋਂ ਤੱਕ ਅਬਾਦੀ ਘੱਟ ਸੀ ਅਤੇ ਕੁਦਰਤੀ ਸੋਮੇ ਬਹੁਤ ਸਨ ਉਦੋਂ ਤੱਕ ਪ੍ਰਦੂਸ਼ਣ ਦੀ ਕੋਈ ਸਮੱਸਿਆ ਨਹੀਂ ਸੀ। ਵਧਦੀ ਅਬਾਦੀ ਦੀਆਂ ਲੋੜਾਂ ਪੂਰੀਆਂ ਕਰਨ ਲਈ ਕੁਦਰਤੀ ਸਾਧਨਾਂ ਦੀ ਵਰਤੋਂ ਵੀ ਵਧ ਗਈ। ਲੋੜਾਂ ਦੀ ਪੂਰਤੀ ਲਈ ਵੱਡੇ-ਵੱਡੇ ਕਾਰਖਾਨੇ ਲਾਏ ਗਏ। ਇਹਨਾਂ ਤੋਂ ਪੈਦਾ ਹੋਣ ਵਾਲੇ ਬੇਅੰਤ ਧੂਏਂ ਅਤੇ ਹੋਰ ਰਹਿੰਦ-ਖੂੰਹਦ ਨਾਲ ਵਾਤਾਵਰਨ ਪਲੀਤ ਹੋਣ ਲੱਗਿਆ। ਦੂਜੇ ਪਾਸੇ ਆਪਣੀਆਂ ਲੋੜਾਂ ਦੀ ਪੂਰਤੀ ਲਈ ਮਨੁੱਖਾਂ ਨੇ ਜੰਗਲਾਂ ਨੂੰ ਕੱਟਣਾ ਸ਼ੁਰੂ ਕਰ ਦਿੱਤਾ। ਹਵਾ ਨੂੰ ਸਾਫ਼ ਕਰਨ ਵਾਲੇ ਰੁਖਾਂ ਦੀ ਗਿਣਤੀ ਲਗਾਤਾਰ ਘੱਟ ਹੁੰਦੀ ਗਈ ਨਤੀਜੇ ਵਜੋਂ ਸਮੁੱਚੇ ਵਾਤਾਵਰਨ ਵਿੱਚ ਇਕ ਅਸੰਤੁਲਨ ਪੈਦਾ ਹੋ ਗਿਆ। ਇਸ ਨਾਲ ਪ੍ਰਕਿਰਤਿਕ ਵਾਤਾਵਰਨ ਵਿਚ ਬਹੁਤ ਸਾਰੇ ਅਣਚਾਹੇ ਕਾਰਕ ਆ ਗਏ ਜਿਹਨਾਂ ਕਾਰਕ ਵਾਤਾਵਰਨ ਪ੍ਰਦੂਸ਼ਿਤ ਹੋਣ ਲੱਗਿਆ। ਪ੍ਰਦੂਸ਼ਣ ਪੈਦਾ ਕਰਨ ਵਾਲੇ ਇਹਨਾਂ ਕਾਰਕਾਂ ਨੂੰ ਪ੍ਰਦੂਸ਼ਕ ਕਿਹਾ ਜਾਂਦਾ ਹੈ। ਪਾਣੀਵਿਚ ਵਧਦੀ ਯੂਰਨੀਅਮ ਦੀ ਜ਼ਿਆਦਾ ਮਾਤਰਾ ਕੈਂਸਰਵਰਗੀਆਂ ਬਿਮਾਰੀਆਂ ਨੂੰ ਸੱਦਾ ਦੇ ਰਹੀ ਹੈ।

46. ਉਪਰੋਕਤ ਪੈਰੇ ਦਾ ਉਚਿਤ ਸਿਰਲੇਖ ਲਿਖੋ।

- | | |
|------------------------|-----------------|
| (A) ਵਾਤਾਵਰਨ | (B) ਰਹਿੰਦ-ਖੂੰਹਦ |
| (C) ਪ੍ਰਦੂਸ਼ਣ ਦੀ ਸਮੱਸਿਆ | (D) ਵਧਦੀ ਅਬਾਦੀ |

47. ਪਾਣੀ ਵਿਚ ਯੂਰੇਨੀਅਮ ਦੀ ਜ਼ਿਆਦਾ ਮਾਤਰਾ ਕਿਹੜੀ ਬਿਮਾਰੀ ਨੂੰ ਸੱਦਾ ਦੇ ਰਹੀ ਹੈ ?

- | | |
|-----------|-----------------|
| (A) ਹੈਜ਼ਾ | (B) ਮਿਆਦੀ ਬੁਖਾਰ |
| (C) ਕੈਂਸਰ | (D) ਦਸਤ |

48. ਪਾਣੀ 'ਚ ਪ੍ਰਦੂਸ਼ਣ ਦੀ ਸਥਿਤੀ _____ ਹੈ। ਖਾਲੀ ਥਾਂ ਭਰੋ

- | | |
|------------------|-----------|
| (A) ਠੀਕ | (B) ਭਿਆਨਕ |
| (C) ਸਤੁੰਸ਼ਟੀ ਜਨਕ | (D) ਜਾਇਜ਼ |

49. 'ਰਹਿੰਦ-ਖੂੰਹਦ' ਕੀ ਹੈ ?

- | | |
|------------|----------------|
| (A) ਅਗੇਤਰ | (B) ਪਿਛੇਤਰ |
| (C) ਅਲੰਕਾਰ | (D) ਸਮਾਸੀ ਸ਼ਬਦ |

indiresult.in whatsapp - 9352018749

50. 'ਕੱਟਣਾ' ਸ਼ਬਦ ਦਾ ਵਿਰੋਧੀ ਸ਼ਬਦ ਲਿਖੋ।

- | | |
|------------|-----------|
| (A) ਜੋੜਨਾ | (B) ਤੋੜਨਾ |
| (C) ਉਤਾਰਨਾ | (D) ਲਹੁਣਾ |

51. ਪਹਿਲਾ 'ਕਿੰਡਰ ਗਾਰਟਨ' ਕਿਸ ਨੇ ਸ਼ੁਰੂ ਕੀਤਾ ਸੀ ?
(A) ਬੈਂਜਾਮਿਨ ਫਰੈਂਕਲਿਨ
(C) ਅਰਸਤੂ
(B) ਵਿਲੀਅਮ ਜੇਮਜ਼
(D) ਫਰੈਡਰਿਕ ਫਰੋਬਲ
52. ਹੇਠ ਲਿਖਿਆਂ ਵਿੱਚੋਂ 'ਰਚਿਤ' ਸ਼ਬਦ ਕਿਹੜਾ ਹੈ ?
(A) ਚੰਗਾ
(C) ਮਾੜਾ
(B) ਗੁਰਮੁਖ
(D) ਨਮਕ
53. ਇਨ੍ਹਾਂ ਵਿੱਚੋਂ ਤਦਭਵ ਸ਼ਬਦ ਚੁਣੋ :
(A) ਸਕੂਲ
(C) ਲੱਛਮੀ
(B) ਗਲਾਸ
(D) ਰੇਲ
54. ਹੇਠ ਲਿਖਿਆਂ ਵਿੱਚੋਂ ਤਤਸਮ ਸ਼ਬਦ ਕਿਹੜਾ ਹੈ ?
(A) ਸਲਾਦ
(C) ਪੁੱਤਰ
(B) ਸਾਈਕਲ
(D) ਅਲਮਾਰੀ
55. ਇਨ੍ਹਾਂ ਵਿਚ ਸੁੱਧ ਸ਼ਬਦ ਕਿਹੜਾ ਹੈ ?
(A) ਸ਼ਹਿਰ
(C) ਸ਼ੈਰ
(B) ਸ਼ੈਰ
(D) ਸ਼ਹਰ
56. 'ਵਾਲ ਵਿੰਗਾ ਨਾ ਹੋਣਾ' ਮੁਹਾਵਰੇ ਦਾ ਅਰਥ ਹੈ ।
(A) ਔਖਾ ਸਮਾਂ ਕੱਟਣਾ
(C) ਜਰਾ ਵੀ ਨੁਕਸਾਨ ਨਾ ਹੋਣਾ
(B) ਗੁੱਸਾ ਨਾ ਕਰਨਾ
(D) ਕੰਮ ਕਰਨ ਨੂੰ ਮਨ ਨਾ ਕਰਨਾ
57. ਹੇਠ ਲਿਖਿਆਂ ਵਿੱਚੋਂ ਅਗਤੇਰ ਵਾਲਾ ਸ਼ਬਦ ਚੁਣੋ :
(A) ਚੌਕੀਦਾਰ
(C) ਸ਼ਰਮਨਾਕ
(B) ਸੁਰਮੇਦਾਨੀ
(D) ਮਹਾਤਮਾ
58. ਜਦੋਂ ਕਿਸੇ ਨੂੰ ਕੀਤੇ ਗੁਨਾਹ ਦੀ ਸਜ਼ਾ ਤੁਰੰਤ ਮਿਲ ਜਾਵੇ ਤਾਂ ਕਿਹੜੀ ਅਖਾਣ ਵਰਤੀ ਜਾਂਦੀ ਹੈ ?
(A) ਪਹਿਲੀ ਬੋਹਣੀ ਸਦਾਹੀ ਸੋਹਣੀ
(C) ਪਹਿਲੇ ਸ਼ਾਹ ਪਿਛੇ ਬਾਦਸ਼ਾਹ
(B) ਪਹਿਲੀ ਚੋਰੀ ਪਹਿਲਾ ਹੀ ਫਾਹਾ
(D) ਪਹਿਲਾਂ ਆਪਣਾ ਫੇਰ ਪਰਾਇਆ
59. ਜਿਹੜੇ ਸ਼ਬਦ ਤੋਂ ਕਿਸੇ ਤੋਲੇ ਜਾਂ ਮਿਣੇ ਜਾਂ ਸਕਣ ਵਾਲੇ ਪਦਾਰਥ ਦਾ ਗਿਆਨ ਹੋਵੇ, ਉਸ ਨੂੰ ਕਿਹੜਾ ਨਾਂਵ ਕਿਹਾ ਜਾਂਦਾ ਹੈ ?
(A) ਭਾਵ ਵਾਚਕ ਨਾਂਵ
(C) ਸਮੂਹ ਵਾਚਕ ਨਾਂਵ
(B) ਨਿੱਜ ਵਾਚਕ ਨਾਂਵ
(D) ਪਦਾਰਥ ਵਾਚਕ ਨਾਂਵ
60. 'ਅਧਿਆਪਕ ਪੜ੍ਹਾ ਰਿਹਾ ਹੈ' ਵਾਕ ਵਿਚ ਨਾਂਵ ਕਿਹੜਾ ਹੈ ?
(A) ਅਧਿਆਪਕ
(C) ਪੜ੍ਹਾ
(B) ਹੈ
(D) ਰਿਹਾ

indiresult.in whatsapp - 9352018749

ખંડ - II

ભાષા - I

ગુજરાતી



આ ખંડમાં કુલ 30 પ્રશ્નો છે.
દરેક પ્રશ્નનો જવાબ આપવો ફરજિયાત છે.

31. નીચેનામાંથી વાક્યનો કયો પ્રકાર રચનાને આધારે ઓળખાય છે ?
(A) સંયુક્ત વાક્ય (B) નિવેદન વાક્ય
(C) આજ્ઞાર્થ વાક્ય (D) પ્રશ્ન વાક્ય
32. હુકમનો ભાવ દર્શાવતું વાક્ય કયા પ્રકારનું વાક્ય કહેવાય ?
(A) વિધિ વાક્ય (B) પ્રશ્ન વાક્ય
(C) આજ્ઞાર્થ વાક્ય (D) ઉદ્દેશ વાક્ય
33. નીચેનામાંથી કયો શબ્દ બે વાક્યને જોડવા માટે વપરાતો નથી ?
(A) છતાં (B) વગેરે
(C) એટલે (D) કારણ કે
34. નીચેનામાંથી કયો રૂઢિપ્રયોગ અલગ પડે છે ?
(A) રાઈનો પર્વત કરવો (B) હૈયું કઠણ કરવું
(C) કાગનો વાઘ કરવો (D) રજનું ગજ કરવું
35. 'મોટા એટલા મોટા'ની વિરોધી કહેવત કઈ છે ?
(A) બોલે તેના બોર વેચાય.
(B) મોટાને માન, નાનાને ચણ.
(C) છોરું કછોરું થાય, માવતર કમાવતર ના થાય.
(D) ઘરડાં ગાડાં વાળે
36. નીચેનામાંથી કઈ બાબત લેખિત અભિવ્યક્તિની ભૂલ નથી ?
(A) અનુસ્વારની ભૂલો
(B) શિથિલ વાક્યરચના
(C) પરિચ્છેદનો અભાવ
(D) વિવિધ પ્રકારના વાક્યોનો ઉપયોગ

indiresult.in whatsapp - 9352018749



37. 'પિરામિડ' શબ્દ સમજાવવા માટેની સૌથી વધુ યોગ્ય પ્રયુક્તિ કઈ છે ?
(A) મોડેલ બતાવવું (B) ચિત્ર બતાવવું
(C) વર્ણન કરવું (D) વાક્ય પ્રયોગ કરીને
38. કવિતા એ આંખથી નહિ, પણ _____ થી પામવાની છે.
(A) નાક (B) કાન
(C) હોઠ (D) જીભ
39. નીચેનામાંથી કઈ પદ્ધતિ શિક્ષકકેન્દ્રી છે ?
(A) સ્વાધ્યાય (B) જૂથ
(C) પ્રદર્શન (D) વ્યાખ્યાન
40. ત્રણ માસનું બાળક નીચેનામાંથી કઈ પ્રવૃત્તિ કરી શકે ?
(A) વિવિધ પ્રકારના ધ્વનિઓ ઉચ્ચારે (B) સાદી સૂચનાઓ અનુસરે
(C) સ્મિત કરે (D) તોતડું ઉચ્ચારણ કરે
41. શ્રવણ કૌશલ્ય માટે નીચેનામાંથી કઈ બાબત સાચી છે ?
(A) વક્તાના વિચારો સમજવા. (B) લેખકના વિચારો સમજવા.
(C) પોતાના વિચારો વ્યક્ત કરવા. (D) પ્રાર્થનાસભામાં વિચારો રજૂ કરવા.
42. ગુજરાતી ભાષાના શિક્ષકમાં નીચેનામાંથી કયું લક્ષણ હોવું જ જોઈએ ?
(A) તીવ્ર બુદ્ધિ (B) સુંદર હસ્તાક્ષર
(C) સુંદર કાવ્યગાન (D) સુંદર અભિવ્યક્તિ
43. નીચેનામાંથી કઈ ક્રિયાના અભાવે બાળક શુદ્ધ ઉચ્ચાર કરી શકે નહીં ?
(A) ઉંઘવાની (B) બોલવાની
(C) સાંભળવાની (D) હસવાની
44. નીચેનામાંથી કયુ સાધન દક્ષ્ય-શ્રાવ્ય સાધન છે ?
(A) ફ્લેશ કાર્ડ (B) રેડિયો
(C) સ્માર્ટ ફોન (D) ટેલિવિઝન
45. કોઈ કઠિન શબ્દ કે વાક્યખંડનું વિવરણ કરવા શેનો ઉપયોગ કરશો ?
(A) કોંસ (B) લોપચિહ્ન
(C) કાકપદ (D) અવતરણ-ચિહ્ન
46. મૂલ્યાંકન દ્વારા શેની સિદ્ધિનું માપન થવું જોઈએ ?
(A) વિષયવસ્તુ (B) શૈક્ષણિક હેતુ
(C) વિદ્યાર્થીની બુદ્ધિ (D) વિદ્યાર્થીની યાદશક્તિ

ST-2

(35)

47. પ્રશ્નપત્રની રચનાના પાયામાં નીચેનામાંથી કયું પરિભાણ નથી ?
(A) પ્રશ્નોના પ્રકાર
(B) હેતુઓ
(C) વિષયવસ્તુ
(D) અભ્યાસક્રમ
48. નીચેનામાંથી કયા પ્રશ્નોની રચના સૌથી સરળ છે ?
(A) સંબંધ ઘટાયક
(B) બહુવિકલ્પ
(C) જોડકાં ગોઠવો
(D) ખાલી જગ્યા પૂરો
49. કથન કૌશલ્યના માપન માટે કયા સાધનનો ઉપયોગ કરશો ?
(A) રેડિયો
(B) એકમ કસોટી
(C) કમમાપદંડ
(D) સતત કસોટી
50. નિદાન પ્રક્રિયામાં સૌપ્રથમ કઈ બાબત આવશે ?
(A) ભૂલ ક્યાં થાય છે ?
(B) ભૂલ કોણ કરે છે ?
(C) ભૂલ શા માટે થાય છે ?
(D) ભૂલ ક્યારે કરે છે ?

નીચે આપેલ ગદ્યાંશને આધારે નીચેના 51 થી 55 ક્રમાંકના પ્રશ્નોના જવાબ આપો :

દીકરીને નવોઢા બનાવી સાસરે વળાવવાનો પ્રસંગ કરુણમંગલ પ્રસંગ છે. આંસુ સાથે આનંદનો પ્રસંગ છે. આ પ્રસંગે દરેક બાપની આંખમાંથી ગંગાજમના વહે છે. પથ્થરદિલ બાપ પણ આ કરુણમંગલ પ્રસંગે આંકંઠ કરીને મીણની માફક પીગળી જતો હોય છે. આવો પ્રસંગ રામાયણ કે ગીતા કરતા સહેજ પણ ઓછો પવિત્ર નથી. આવા પ્રસંગે આંસુરૂપે પડતું દરેક ટીપું ગંગાના પવિત્ર જળ જેટલું જ પવિત્ર ગણાય. આવું દરેક આંસુ અમૃત જળ કહેવાય. જેને વહેવડાવવાનો મોકો ભાગ્યશાળી વ્યક્તિને જ મળે; અને એ ભાગ્યશાળી વ્યક્તિ એટલે દીકરીનો બાપ. દીકરી એ તો બાપનું આરોગ્ય છે.

51. 'નવોઢા' શબ્દની સંધિ છૂટી પાડો.
(A) ન + વોઢા
(B) નવ + ઢા
(C) નવ + ઊઢાં
(D) નવ + ઓઢા
52. 'પથ્થરદિલ'નું વિરોધી શું થાય ?
(A) ગુસ્સાવાળું
(B) કરુણાથી ભરેલું
(C) કઠિનતાથી ભરેલું
(D) કાંકરાથી ભરેલું
53. 'એ ભાગ્યશાળી વ્યક્તિ એટલે દીકરીનો બાપ' વાક્યમાં કયો શબ્દ સર્વનામ સૂચવે છે ?
(A) એ
(B) વ્યક્તિ
(C) એટલે
(D) બાપ

F

(36)



54. નીચેનામાંથી કયો શબ્દ સામાસિક શબ્દ નથી ?

(A) કરુણમંગલ

(B) ભાગ્યશાળી

(C) ગંગાજમના

(D) રામાયણ

55. 'આકંઠ'માં લાગેલો 'આ' પ્રત્યય શું સૂચવે છે ?

(A) દુઃખ

(B) આનંદ

(C) ઓછું

(D) વધારે

નીચેના ગદ્યાંશને આધારે પ્રશ્ન નં. 56 થી 60ના જવાબ આપો :

કોઈકની દીકરી લગ્ન કરીને વહુ બનીને જ્યારે સાસરીમાં આવે છે, ત્યારે આવતાની સાથે જ તેને ઘરકામમાં જોતરી દેવામાં આવે છે. સારું જમવાનું બનાવે છે એમ કહીને ગૌરવ લેતી સાસુમાને વહુના કલા-કૌશલ્યો કે અન્ય આવડત, રસ, જ્ઞાન વગેરે વિશેની જાણકારી મેળવવાનું જરૂરી લાગતું નથી. ઘરમાં શું ખાવું, શું લાવવું, ક્યાં જવું, નોકરી કરવી કે નહીં વગેરે સાસરિયાએ જ વિચારવાનું. દીકરીમાંથી વહુ બનતા જ જાણે એક વ્યક્તિત્વનો નાશ થઈ જાય છે અને જે નવું વ્યક્તિત્વ ઊભું થાય છે તે બાપડું અને બિચારું બની જાય છે.

56. 'સારું જમવાનું બનાવે છે.' આ વાક્ય કયા કાળમાં છે ?

(A) વર્તમાન

(B) ભૂતકાળ

(C) ભવિષ્યકાળ

(D) પૂર્ણભૂતકાળ

57. 'એમ કહી ગૌરવ લેતી સાસુમા'માં 'સાસુ' શબ્દ કયા વચનમાં છે ?

(A) એકવચન

(B) બહુવચન

(C) માનાર્થે એકવચન

(D) માનાર્થે બહુવચન

58. બાપડું અને બિચારું બની જાય છે. - માં રેખાંકિત શબ્દનો અર્થ શું થાય ?

(A) દયાવાન

(B) દયનીય

(C) શોભીલું

(D) બાપ વિનાનું

59. વ્યક્તિત્વ ઊભું થાય છે. - માં વ્યક્તિત્વ એ કયા લિંગનો શબ્દ છે ?

(A) સ્ત્રીલિંગ

(B) પુલિંગ

(C) નપુંસકલિંગ

(D) બધા જ લિંગ

indiresult.in whatsapp - 9352018749

60. તેને ઘરકામમાં જોતરી દેવામાં આવે છે. - વાક્યમાં કર્તાનું વચન બદલો.

(A) તેને ઘરકામમાં જોતરી દેવામાં આવ્યા છે.

(B) તેને ઘરકામમાં બહુ જોતરી દેવામાં આવ્યા છે.

(C) તેને ઘણાં ઘરકામમાં જોતરી દેવામાં આવ્યા છે.

(D) તેમને ઘરકામમાં જોતરી દેવામાં આવ્યા છે.

इस खण्ड में कुल 30 प्रश्न हैं।
सभी प्रश्न अनिवार्य हैं।

61. किस शिक्षाशास्त्री के अनुसार स्कूल एक बाग है, अध्यापक एक माली है और बच्चे पौधे के समान हैं ?
 (A) फॉबेल (B) मान्टेसरी
 (C) मॉरीसन (D) बेलार्ड
62. लिखित सामग्री को मन ही मन बिना आवाज किए चुपचांप पढ़ना कहलाता है
 (A) सस्वर वाचन (B) अनुकरण वाचन
 (C) मौन वाचन (D) समवेत वाचन
63. पठन शिक्षण की दृष्टि से गद्य पाठों के प्रकार हैं :
 (A) दो (B) तीन
 (C) चार (D) पाँच
64. कविता शिक्षण की किस प्रणाली के अन्तर्गत कविता को समझाने के लिए वैसी ही या उसकी विरोधी दूसरी कविता को प्रस्तुत करके उसका तुलनात्मक अध्ययन कराया जाता है ?
 (A) समान कविता प्रणाली (B) अर्थबोध कविता प्रणाली
 (C) समीक्षा प्रणाली (D) तुलना प्रणाली
65. खेल विधि को प्रचलित करने का श्रेय है
 (A) रायबर्न को (B) हैनरी कोल्डवेल कुक को
 (C) मॉरीसन को (D) थॉम्स एम. रस्क को
66. व्याकरण शिक्षण की किस प्रणाली को विकृत रूप में सुग्गा प्रणाली भी कहते हैं ?
 (A) अब्याकृति प्रणाली (B) सहयोग प्रणाली
 (C) पाठ्यपुस्तक प्रणाली (D) निगमन प्रणाली
67. "इस विधि में मातृभाषा के माध्यम से किसी नवीन भाषा को पढ़ाया जाता है।" यह कथन कौन सी विधि के सन्दर्भ में कहा गया है ? indiresult.in whatsapp - 9352018749
 (A) गठन विधि (B) प्रत्यक्ष विधि
 (C) वेस्ट की विधि (D) परोक्ष विधि
68. "जिस प्रकार चित्रकार के लिए तूलिका और फलक वांछनीय है, ठीक उसी प्रकार अथवा उससे भी कुछ अधिक अध्यापक के लिए श्यामपट्ट तथा खड़िया के टुकड़े का महत्त्व है। ये दोनों वस्तुएँ सफल अध्यापक की सतत संगिनी हैं।"
 उपर्युक्त कथन निम्नलिखित में से किसका है ?
 (A) पं. सीताराम चतुर्वेदी (B) एम.पी. मफात
 (C) ई.बी. वेस्ले (D) रायबर्न

F

(38)

69. कविता शिक्षण की प्रश्नोत्तर प्रणाली को और किस नाम से जाना जाता है ?
 (A) व्याख्या प्रणाली (B) खण्डान्वय प्रणाली
 (C) शब्दार्थकथन प्रणाली (D) व्यास प्रणाली
70. भाषा की दृष्टि से रचना के कितने रूप हैं ?
 (A) दो (B) तीन
 (C) चार (D) पाँच
71. "भाषा में निदानात्मक परीक्षण वह परीक्षण है जिसके द्वारा अनुसन्धानकर्ता छात्र के भाषागत दोषों को खोजता है, जो अपने स्कूल के विषय में सामान्य प्रगति नहीं कर पाते।" उपर्युक्त परिभाषा किसके अनुसार है ?
 (A) बायती (B) शोनेल
 (C) क्रोनबैक (D) एस.एस. रावत
72. "लिखाई का कार्य पढ़ाई के कार्य से पूर्व शुरू होना चाहिए, क्योंकि लिखाई, पढ़ाई की अपेक्षा सरल है।" लेखन शिक्षण के सन्दर्भ में यह मत व्यक्त किया है
 (A) श्रीमती मॉण्टेसरी ने (B) डॉ. आत्मानन्द मिश्र ने
 (C) मिस पार्कहर्स्ट ने (D) कुक ने
73. किसी बड़ी वस्तु के छोटे नमूने को कहते हैं
 (A) प्रतिमूर्ति (B) चित्र
 (C) वास्तविक पदार्थ (D) ग्रामोफोन
74. निम्नलिखित में से उपन्यास शिक्षण का उद्देश्य नहीं है :
 (A) छात्रों को स्वस्थ मनोरंजन की ओर उन्मुख करना।
 (B) छात्रों को द्रुतगति से मौन वाचन का अभ्यास कराना।
 (C) अभिनय में निपुणता प्रदान करना।
 (D) भाषा एवं शैली के प्रचलित रूपों से परिचित कराना।
75. निम्नलिखित में से रचना शिक्षण की विधि नहीं है :
 (A) प्रवचन विधि (B) निर्देशन विधि
 (C) प्रश्नोत्तर विधि (D) भाषा संसर्ग विधि

अपठित गद्यांश : निम्नलिखित गद्यांश के आधार पर प्रश्न संख्या 76 से 80 तक के उत्तर दीजिए :

"मानव के पास समस्त जगत को देखने-परखने के दो नजरिए हैं एक आशावादी, दूसरा निराशावादी। इसे सकारात्मक और नकारात्मक दृष्टि भी कहते हैं। जो आशावादी या सकारात्मक मार्ग पर चलते हैं, वे सदैव आनन्द की अनुभूति प्राप्त करते हैं तथा निराशावादी या नकारात्मक दृष्टि वाले दुःख के सागर में डूबे रहते हैं और सदा अपने आपको प्रस्थापित करने के लिए तर्क किया करते हैं। वे भूल जाते हैं कि तर्क और कुतर्क से ज्ञान का नाश होता है एवं जीवन में विकृति उत्पन्न होती है। आशावादी तर्क नहीं करता, फलस्वरूप वह आन्तरिक आनन्द की प्रतीति करता है। वह मानता है कि आत्मिक आनन्द कभी प्रहार या काटने की प्रक्रिया में नहीं है। इसीलिए जगत में सदा आशावाद ही पनपा है, उसने ही महान व्यक्तियों का सृजन किया है। निराशावाद या नकारात्मकता की नींव पर कभी किसी जीवन प्रासाद का निर्माण नहीं हुआ।

indiresult.in whatsapp - 9352018749

76. 'जगत' शब्द में लिंग है -

- (A) पुल्लिंग (B) नपुंसकलिंग
 (C) स्त्रीलिंग (D) इनमें से कोई नहीं

ST-2

F

77. 'विकृति' में उपसर्ग है -

- (A) 'ई' उपसर्ग,
(C) 'इ' उपसर्ग

(39)



- (B) 'वि' उपसर्ग
(D) 'विक' उपसर्ग

78. 'इक' प्रत्यय है -

- (A) प्रत्येक
(C) अर्जित

- (B) अनेक
(D) आत्मिक

79. 'वे' सर्वनाम है -

- (A) अन्यपुरुष-पुरुषवाचक
(C) निजवाचक

- (B) उत्तमपुरुष-पुरुषवाचक
(D) सम्बन्धवाचक

80. निम्न में क्रिया शब्द है :

- (A) आपको
(C) करता

- (B) आन्तरिक
(D) जगत

अपठित पद्यांश - निम्नलिखित पद्यांश के आधार पर प्रश्न संख्या 81 से 85 तक के उत्तर दीजिए :

युद्ध, निरन्तर युद्ध विश्व है,	1
युद्धों की ही एक कहानी ।	2
शान्ति ! कहाँ है शान्ति ?	3
यहाँ तो नित रिपुओं से लड़ना है	4
नित्य उलझना समरांगण में	5
सीना ताने अड़ना है	6
भोले-भाले सीधे-सादे	7
नहीं यहाँ पर जीने पाते	8
जो लड़ते, आगे बढ़ते हैं	9
वे ही जीवन-गाना गाते	10
नहीं मिली यह शान्त बैठने	11
को हमको अनमोल जवानी	12
युद्ध, निरन्तर युद्ध विश्व है	13
युद्धों की ही एक कहानी ।	14

81. पद्यांश की भाषा है -

- (A) प्रसादगुण युक्त
(C) माधुर्यगुण युक्त

indiresult.in whatsapp - 9352018749

- (B) शृंगारिकता युक्त
(D) ओजगुण युक्त



- F
82. कवि के अनुसार इस युद्धरत दुनिया में जी नहीं पाते हैं -
(A) भोले-भाले व सीधे-सादे लोग (B) चतुर एवं चालाक लोग
(C) साहसी व बहादुर लोग (D) पूँजीपति व ताकतवर लोग
83. 'शान्ति ! कहाँ है' - में कवि का भाव है -
(A) क्रोध का (B) शृंगार का
(C) विस्मय का (D) वीप्सा का
84. पद्यांश में सामासिक चिह्न युक्त चरण है -
(A) पहला व दूसरा (B) पाँचवाँ व छठा
(C) सातवाँ व दसवाँ (D) ग्यारहवाँ व बारहवाँ
85. कवि विश्व को युद्धों की ही एक कहानी मानता है -
(A) क्योंकि इसमें युद्ध सतत रूप से चल रहे हैं। (B) व्यापार निरन्तर बढ़ता जा रहा है।
(C) गांधी जैसे लोग दुनिया में दुर्लभ हैं। (D) विचार संकीर्ण हो गए हैं।
86. 'सारस की तरह लम्बी गरदन बड़ी अजीब लगती है' में विशेषण पदबन्ध है -
(A) है (B) लगती
(C) सारस की तरह लम्बी (D) गरदन
87. 'इस हाथ से देना उस हाथ से लेना' लोकोक्ति का अर्थ है -
(A) तुरंत फल पा जाना (B) तुरंत चले जाना
(C) तुरंत पहुँच जाना (D) जल्दी-जल्दी बोलना
88. "मैं कलम से किताब लिखता हूँ।" में कारक का भेद है -
(A) कर्म कारक (B) करण कारक
(C) अपादान कारक (D) सम्बन्ध कारक
89. 'राम घर तक गया।' में अव्यय है -
(A) समुच्चयबोधक (B) सम्बन्धबोधक
(C) विस्मयादिबोधक (D) क्रियाविशेषण
90. "बर्फ पड़ते देख हमने एक धर्मशाला में शरण ली।" वाक्य है -
(A) संयुक्त वाक्य (B) मिश्र वाक्य
(C) सरल वाक्य (D) जटिल वाक्य

indiresult.in whatsapp - 9352018749

There are 30 questions in all in this Section.
All questions are compulsory.

61. Identify the word in which the end sound is different from the other words.
(A) Concept
(C) Sect
(B) Percept
(D) Conceit
62. Pick out the correct transcription of the word 'generic'.
(A) - /znrik
(C) /dginrik
(B) /genrik
(D) /dza'nerik
63. Taking into account the principles of language teaching
(A) Teaching can be difficult
(B) Desired goal of teaching English language can be achieved
(C) Only linguistic habits can be developed
(D) Only learning of English as a second language will be enhanced
64. Communicative Approach to English Language enables the teacher to;
(A) Exploit Sound psycholinguistic principles
(B) Exploit sound educational principles
(C) Exploit sound psycholinguistic and educational principles
(D) None of the above
65. In Communicative Approach to teaching the teacher must know why it is
(A) Better to tolerate errors in students' attempt to express their selves
(B) Not to allow students' to express their selves
(C) Not to tolerate errors in students' attempt to express their selves
(D) Better to note down the errors
66. One of the language disorders is found when;
(A) learner is missing the class
(B) learner is speaking in class
(C) learner speaks in short and fragmented phrases
(D) learner speaks the full sentences
67. Language disorder means when a child has
(A) Difficulty in understanding the meaning
(B) Difficulty in expressing his/her thought
(C) Trouble producing some sounds accurately
(D) Either or both (A) & (B)
68. Articulation error occurs due to
(A) Formed speech habit
(B) Slurring over and clipping sounds
(C) Learner's intelligence
(D) Learner give importance to stress & intonation
69. Remedial teaching involves
(A) Improvement of learning skill
(C) Either (A) and/or (B)
(B) Rectifying a particular problem area
(D) Neither (A) nor (B)
70. Communicative approach to Evaluation stresses on;
(A) Content relevancy & Vocabulary
(C) Both (A) & (B)
(B) Fluency & Flexibility
(D) Neither (A) nor (B)

indiresult.in whatsapp - 9352018749

- F
71. Recent scheme of evaluation outlined by CBSC is
 (A) Comprehensive & Continuous Evaluation
 (B) Continuous & Comprehensive Evaluation
 (C) Continuous & Communicative Evaluation
 (D) Communicative & Continuous Evaluation
72. Remedial teaching should be carried out after identification of
 (A) Text and test
 (B) Text and learning
 (C) Malady on language test and its causes
 (D) Merits of teacher
73. Remedial program is designed keeping in mind
 (A) Each student's strength
 (B) Each student's weakness
 (C) Each student's strength and weakness
 (D) None of the above
74. Remedial teaching is a
 (A) Preparation of teaching
 (B) Pre-teaching program
 (C) Systematic process
 (D) Random process
75. The basic requirement of a language proficiencies test is that it must be
 (A) Reliable
 (B) Complex
 (C) Ambiguous
 (D) Simple

**Passage :**

In spite of rigorous precautions against accidents, many people are injured every year in factories and elsewhere. In addition, some people are born with physical disabilities. They are either blind or deaf or in some way deformed from birth. Upto quite recent times, little planned action was taken to fit handicapped people for employment. A number of charitable organizations tried to help them in cases of hardship; but few seriously held the idea that these people might still have abilities in other directions.

76. Which one of the following is the most appropriate title for the passage ?
 (A) Rehabilitation of the physically challenged
 (B) Physical disabilities.
 (C) Accidents
 (D) Planned action
77. In the above paragraph, 'In addition' indicates
 (A) Emphasis
 (B) Addition
 (C) Sequence
 (D) Alternative
78. Either those children or my own son _____ picked all the flowers.
 (A) have
 (B) has
 (C) is
 (D) are
79. In the above passage the author wants to convey
 (A) many people in the world suffer from physical disabilities.
 (B) precautions are not taken against accidents.
 (C) people who are physically challenged are fit for employment.
 (D) physically challenged people have no scope.
80. Noisy children are a real headache. Two aspirins will make a headache go away. Therefore, two aspirins will make noisy children go away.
 Above lines contain
 (A) The fallacy of equivocation
 (B) The fallacy of false analogy
 (C) The fallacy of hasty generalization
 (D) The fallacy of composition

81. Extract : (43)

Your love and pity doth the
impression fill
Which vulgar scandal stamp'd upon
my brow;
For what care I who calls me well
or ill,
So you o'ev-green my bad, my good allow ?

The rhyme scheme of the extract is

- (A) abab
(C) abba
(B) aabb
(D) abca

82. 'One proven way to beat an enemy is find his Achilles heel'. What does finding Achilles heel mean ?

- (A) Amulet
(C) Strong point
(B) Weak spot
(D) Secret strategy

83. The Wolf with its belly stitched full of big pebbles;
Nibelung wolves barbed like black pine forest
Against a red sky, over blue snow ...

Which figure of speech is used in the above extract ?

- (A) Metaphor
(C) Alliteration
(B) Simile
(D) Assonance

84. Which one of the following is sometimes called 'vocalic rhyme' ?

- (A) Assonance
(C) Alliteration
(B) Personification
(D) Rhyme

85. Which figure of speech is common in tongue-twisters, jingles and non-sense verse ?

- (A) Alliteration
(C) Rhyme
(B) Simile
(D) Metaphor

86. It's a beautiful day. I _____ have brought this umbrella.

- (A) mustn't
(C) shouldn't
(B) needn't
(D) couldn't

87. You should _____ your phone call with an email or a letter.

- (A) follow on
(C) take on
(B) follow up
(D) show on

88. "What time shall we go shopping?" "Let's see how the weather looks and _____." Insert the correct idiom.

- (A) raining cats and dogs
(C) turn a blind eye
(B) play it by ear
(D) call it a day

89. Sonnets usually are in

- (A) free verse
(C) iambic trimeter
(B) iambic pentameters
(D) verso tronco

90. A person who writes a play is

- (A) playwright
(C) playwriter
(B) playwright
(D) playwrite

P.T.O.

खण्ड - III

भाषा - II

संस्कृतम्



indiresult.in whatsapp - 9352018749

अत्र त्रिंशत् प्रश्नाः सन्ति ।

सर्वे प्रश्नाः समाधेयाः ।

61. संस्कृताध्यापनाय भण्डारकरमतानुसारं का पद्धतिः उपकारिकाऽभवत् ?
 (A) वार्तालापपद्धतिः (B) परम्परागतपद्धतिः
 (C) व्याकरणानुवादपद्धतिः (D) पाठ्यपुस्तकपद्धतिः
62. कस्यां पद्धतौ शिक्षणं सर्वं मौखिकमासीत् ?
 (A) परम्परागतपद्धतौ (B) भण्डारकरपद्धतौ
 (C) पाठ्यपुस्तकपद्धतौ (D) निर्वाधपद्धतौ
63. भाषाध्ययनार्थम् अन्तिमप्रयत्नो भवति
 (A) भाषणम् (B) लेखनम्
 (C) वाचनम् (D) श्रवणम्
64. संस्कृतम् अस्ति
 (A) विश्लेषणात्मकभाषा (B) संरचनात्मकभाषा
 (C) विमर्शनात्मकभाषा (D) संश्लेषणात्मकभाषा
65. श्यामफलकस्याधिकाधिकोपयोगनिमित्तं परामर्शः कस्मिन् सिद्धान्ते अस्ति ?
 (A) अभ्यासस्य सिद्धान्ते (B) सक्रियतायाः सिद्धान्ते
 (C) रुचेः सिद्धान्ते (D) मौखिककार्यस्य सिद्धान्ते
66. वाग्-रूपं भावप्रकटनम् इत्युक्ते किम् ?
 (A) भाषणम् (B) लेखनम्
 (C) पठनम् (D) श्रवणम्
67. "लौकिकानां हि साधूनामर्थं वागनुवर्तते" इत्यादिकं पद्यं कुतः गृहीतम् ?
 (A) अभिज्ञानशाकुन्तलात् (B) उत्तररामचरितात्
 (C) मृच्छकटिकात् (D) मद्राक्षसात्
68. छात्राः श्रवणापेक्षया पठनेन अधिकं ज्ञानं समुपार्जयन्ति इति परामर्शः विद्यते
 (A) पठनकौशले (B) भाषणकौशले
 (C) श्रवणकौशले (D) लेखनकौशले

indiresult.in whatsapp - 9352018749

69. "आकाशवाणी" इति किं प्रकारकं साधनम् अस्ति ?
- (A) दृश्यसाधनम् (B) श्रव्यसाधनम्
(C) श्रव्यदृश्यसाधनम् (D) क्रियासाधनम्
70. पाठ्यपुस्तकनिर्माणे आन्तरिकपक्षस्य सिद्धान्तः भवति
- (A) रोचकता (B) सोद्देश्यता
(C) व्यावहारिकता (D) पूर्वोक्ताः त्रयः अपि
71. रिक्तस्थानपूरणम्, सत्यासत्यनिर्णयः, बहुसमाधानप्रश्नाश्च इत्येते प्रकाराः कस्याः परीक्षायाः सन्ति ?
- (A) शलाकापरीक्षायाः (B) वस्तुनिष्ठपरीक्षायाः
(C) निबन्धरूपपरीक्षायाः (D) अन्त्याक्षरीपरीक्षायाः
72. शिक्षाक्षेत्रे 'उपचार' इति शब्दस्य कोऽर्थः ?
- (A) अधिगमनम् (B) अवबोधनम्
(C) सर्वविधदोषाणां निराकरणम् (D) सम्प्रेषणम्
73. स्वातन्त्र्यात्परम् आचार्यनरेन्द्रदेवसमितिः बहुविधमूल्याङ्कननिमित्तं सर्वप्रथमं कदा अनुशंसितवती ?
- (A) 1948 तमे वर्षे (B) 1947 तमे वर्षे
(C) 1949 तमे वर्षे (D) 1950 तमे वर्षे
74. शैक्षिक-अनुसन्धानप्रशिक्षणपरिषदा कतमे वर्षे आन्तरिकमूल्याङ्कनस्योपरि बलं दत्तम् ?
- (A) 1965 तमे (B) 1947 तमे
(C) 1975 तमे (D) 1967 तमे
75. राष्ट्रियशिक्षानीतिकार्ययोजना कदा संगठिता अभवत् ?
- (A) 1948 तमे वर्षे (B) 1950 तमे वर्षे
(C) 1966 तमे वर्षे (D) 1968 तमे वर्षे

अधोलिखितम् अपठितं गद्यांशम् आधारीकृत्य निम्नाङ्किताः प्रश्नाः (76-80) समाधेयाः -

अयं कविकुलगुरुः कदा कतमश्च जनपदमलङ्कृतवान् स्वजन्मनेति विवादास्पदमद्यापि । तथापि अस्य ग्रन्थानां सूक्ष्मपरीक्षणेनेदं वक्तुं शक्यते यदेष महाकविः स्वजनुषा काश्मीरभुवमलङ्कार । अस्य कविवरस्य मेघदूते उज्जयिनीवर्णनेन कुमारसम्भवे च हिमालयवर्णनेन ज्ञायते यदयं प्रौढे वयसि उज्जयिनीं गतो भवेत्, तत्र च महीभुजो विक्रमाङ्कस्य सभायां प्रतिष्ठां लेभे, तरुणे च वयसि काश्मीरानेवाधिजगाहे ।

76. "महीभुजो" इति पदे का विभक्तिः ? indiresult.in whatsapp - 9352018749

- (A) तृतीया (B) चतुर्थी
(C) षष्ठी (D) सप्तमी

F indiresult.in whatsapp - 9352018749 (46)



77. "महाकविः" इत्यत्र कः समासः ?
 (A) बहुव्रीहिः (B) कर्मधारयः
 (C) अव्ययीभावः (D) द्वन्द्वः
78. "वक्तुम्" इत्यत्र कः प्रत्ययः ?
 (A) क्त्वा (B) तुम्
 (C) क्तुम् (D) तुमुन्
79. "अद्यापि" इति पदस्य सन्धिविच्छेदं कुरुत
 (A) अदि + आपि (B) अद् + यापि
 (C) अद्य + अपि (D) अद्या + अपि
80. "भवेत्" इत्यत्र कः लकारः प्रयुक्तः ?
 (A) लिट् लकारः (B) विधिलिङ्लकारः
 (C) लट् लकारः (D) लुङ् लकारः

अधोलिखितम् अपठितं पद्यांशमवलम्ब्य निम्नलिखिताः प्रश्नाः (81-85) समाधेयाः -

केयूराणि न भूषयन्ति पुरुषं हारा न चन्द्रोत्ज्ज्वलाः
 न स्नानं न विलेपनं न कुसुमं नालङ्कृताः मूर्धजाः ।
 वाण्येका समलङ्करोति पुरुषं या संस्कृता धार्यते
 क्षीयन्ते खलु भूषणानि सततं वाग्भूषणं भूषणम् ॥

81. पद्येऽस्मिन् प्रयुक्तस्य छन्दसः नाम लिखत
 (A) शिखरिणी (B) शार्दूलविक्रीडितम्
 (C) वसन्ततिलका (D) मन्दाक्रान्ता
82. "भूषयन्ति" इत्यत्र कः लकारः प्रयुक्तः ?
 (A) लृट्लकारः (B) लङ्लकारः
 (C) लट्लकारः (D) लोट्लकारः
83. "वाण्येका" इत्यत्र कः सन्धिः ?
 (A) गुणसन्धिः (B) वृद्धिसन्धिः
 (C) दीर्घसन्धिः (D) यणसन्धिः

indiresult.in whatsapp - 9352018749

ST-2

84. "स्नानम्" इत्यत्र कः प्रत्ययः ? (47)
- (A) शतृ
(B) ल्युट्
(C) क्त
(D) शानच्
85. "केयूराणि" इत्यत्र किं लिङ्गम् ?
- (A) पुलिङ्गम्
(B) स्त्रीलिङ्गम्
(C) नपुंसकलिङ्गम्
(D) सर्वलिङ्गम्
86. "वह गुरु से प्रश्न पूछता है" इत्यस्य वाक्यस्य संस्कृतेन अनुवादं कुरुत
- (A) सः गुरुं प्रश्नं पृच्छति ।
(B) सः गुरुः प्रश्नं पृच्छति ।
(C) सः गुरवे प्रश्नं पृच्छति ।
(D) सः गुरौ प्रश्नं पृच्छति ।
87. "मया फलानि खाद्यन्ते" इत्यस्य वाच्यपरिवर्तनं कुरुत
- (A) अहं फलानि खाद्यन्ते ।
(B) अहं फलानि खादामि ।
(C) मया फलानि खाद्यते ।
(D) मया फलं खाद्यते ।
88. "च" इति वर्णस्य उच्चारणस्थानं किम् ?
- (A) कण्ठः
(B) दन्तः
(C) तालु
(D) जिह्वा
89. "सः तस्य अनुगच्छति" इति वाक्यमिदं संशोधयत
- (A) सः तेन अनुगच्छति ।
(B) सः तस्मै अनुगच्छति ।
(C) सः तस्मात् अनुगच्छति ।
(D) सः तम् अनुगच्छति ।
90. "सत्सङ्गतिः..... किं न करोति पुंसाम्" इत्यत्र रिक्तस्थानं पूरयित्वा सूक्तिमिमां निर्धारयत ।
- (A) भाषय
(B) कथय
(C) वदत
(D) गदत

66. 'اُردو' کی معنی ہے؟
(A) ۹۱
(C) ۹۲

(D) ۹۳
(B) ۹۴

65. 'اُردو' کی معنی ہے؟
(A) ۹۱
(C) ۹۲

(D) :-
(B) :

64. 'اُردو' کی معنی ہے؟
(A) ۹۱
(C) ۹۲

(D) ۹۳
(B) ۹۴

63. 'اُردو' کی معنی ہے؟
(A) ۹۱
(C) ۹۲

(D) ۹۳
(B) ۹۴

62. 'اُردو' کی معنی ہے؟
(A) ۹۱
(C) ۹۲

(D) ۹۳
(B) ۹۴

61. 'اُردو' کی معنی ہے؟
(A) ۹۱
(C) ۹۲

(D) ۹۳
(B) ۹۴

اس سیکشن میں تین سو (30) سوالات ہیں۔ ہر سوال کے جواب میں ایک یا دو الفاظ لکھیں۔ ہر سوال کے جواب میں ایک یا دو الفاظ لکھیں۔

- (D) عورتوں کا ادب
- (B) عورتوں کا مقام



- (C) عورتوں کا وضع
- (A) عورتوں کی تعلیم

71. مذکورہ بالا علم کا عنوان کیا ہے؟

ہے۔ وہ علم ہے جس میں عورتوں کی تعلیم، تربیت، پرورش، اور ان کے حقوق، ذمہ داریاں، اور ان کے لیے بہتر مستقبل کی تلاش شامل ہے۔

ہے۔ یہ علم ہے جو عورتوں کی تعلیم، تربیت، اور ان کے لیے بہتر مستقبل کی تلاش کو فروغ دیتا ہے۔

ہے۔ یہ علم ہے جو عورتوں کی تعلیم، تربیت، اور ان کے لیے بہتر مستقبل کی تلاش کو فروغ دیتا ہے۔

ہے۔ یہ علم ہے جو عورتوں کی تعلیم، تربیت، اور ان کے لیے بہتر مستقبل کی تلاش کو فروغ دیتا ہے۔

ہے۔ یہ علم ہے جو عورتوں کی تعلیم، تربیت، اور ان کے لیے بہتر مستقبل کی تلاش کو فروغ دیتا ہے۔

درج ذیل اقتباس کو پڑھ کر دے، گئے مسائل (75 تا 71) کے جوابات دیجئے:

- (C) دل آویزی
- (A) ایقان

70. اہم ترین علم کون سا ہے؟

- (D) عورتوں کا ادب
- (B) عورتوں کا مقام

- (C) عورتوں کا وضع
- (A) عورتوں کی تعلیم

69. مذکورہ بالا علم کون سا ہے؟

- (D) عورتوں کا ادب
- (B) عورتوں کا مقام

- (C) عورتوں کا وضع
- (A) عورتوں کی تعلیم

68. اہم ترین علم کون سا ہے؟

- (D) عورتوں کا ادب
- (B) عورتوں کا مقام

- (C) عورتوں کا وضع
- (A) عورتوں کی تعلیم

67. اہم ترین علم کون سا ہے؟

- (D) عورتوں کا ادب
- (B) عورتوں کا مقام



indiresult.in whatsapp - 9352018749

72. 'عشرت' لفظ کا متضاد کیا ہے؟

- (A) غم
(B) مسرت
(C) نصرت
(D) شرافت

73. 'عفت' لفظ کے کیا معنی ہیں؟

- (A) حجاب
(B) عزت
(C) کرامت
(D) ثروت

74. 'طینت' لفظ کا مترادف کیا ہے؟

- (A) ضرورت
(B) دولت
(C) فضیحت
(D) عادت

75. مذکورہ بالا لفظ کے اشعار میں توانی ہیں

- (A) تصویر - تدبیر
(B) سلامت، عبارت
(C) بیمار، نادار
(D) تم سے ہے

مندرجہ ذیل اقتباس کو پڑھ کر دیے گئے سوالات (76 تا 80) کے جواب دیجئے:

انسان کے لیے غذا بہت ضروری ہے۔ انسانی غذا کی خاص چیزیں گیہوں، چاول، چنا، سبزیاں، پھل، انڈا، دودھ، کھی، مچھلی، گوشت وغیرہ ہیں۔ "تندرست رہنے کے لیے ضروری ہے کہ انسان اچھی غذا کھائے۔ اس سے جسم اور ہڈیوں کو طاقت ملتی ہے۔ ساگ اور ترکاریاں بدن میں حرارت بڑھاتی ہیں۔ حرارت سے کھانا ہضم ہوتا ہے۔ ہری سبزیاں صحت کے لیے بہت مفید ہیں۔ دودھ نہایت عمدہ غذا ہے۔ اس میں وہ تمام چیزیں موجود ہیں جو صحت کے لیے ضروری ہیں۔" بچے، جوان، بوڑھے، تندرست اور بیمار سب کے لیے دودھ فائدے مند ہے۔

indiresult.in whatsapp - 9352018749

76. درج بالا اقتباس میں کس چیز کی اہمیت پر زور دیا گیا ہے؟

- (A) اچھا مزاج
(B) اچھی باتیں
(C) اچھی غذا
(D) اچھا معیار

77. "حرارت" کا مترادف ہے

- (A) مدت
(B) حدت
(C) قلت
(D) دقت

78. 'تندرست' کا متضاد لفظ ہے

- (A) علیل (B) جلیل (C) کفیل (D) دلیل

79. 'غذا' کی جمع ہے

- (A) ہاضمہ (B) اغذیہ (C) غذائی (D) غذائیت

80. ساگ اور ترکاریوں سے بدن میں کیا پیدا ہوتی ہے؟

- (A) سردی (B) نرمی (C) گرمی (D) برہمی

81. اردو کس زبان کا لفظ ہے؟

- (A) عربی (B) فارسی (C) ہندی (D) ترکی

82. صحیح املا کی نشاندہی کیجئے۔

- (A) حاذق (B) حاضق (C) ہازق (D) حاضک

83. اردو میں کون سا رسم خط مستعمل ہے؟

- (A) خط دیوانی (B) خط نسخ (C) خط شکستہ (D) خط نستعلیق

indiresult.in whatsapp - 9352018749

84. غزل میں مطلع کے بعد آنے والے مطلع کو کیا کہا جاتا ہے؟

- (A) حسن مطلع (B) خالص مطلع (C) فاضل مطلع (D) بیت الغزل

85. کس کے بغیر غزل کہنا ممکن نہیں ہے؟

- (A) ردیف
(B) قافیہ
(C) مقطع
(D) تشبیہ

86. بے خطر کود پڑا آتشِ نرود میں عشق عقل ہے مجھ تماشا لپ بامِ ابھی

اس شعر میں کون سی صنعت استعمال کی گئی ہے؟

- (A) مجاز
(B) تشبیہ
(C) تلمیح
(D) حسنِ تعلیل

87. ذیل میں کس لفظ کی املا درست ہے؟

- (A) وضعِ قطاع
(B) وضاعِ قطاع
(C) وضعِ قطع
(D) وضعه قطعہ

88. طلبہ کو نئی معلومات حاصل کرنے کے لیے ذہنی طور پر آمادہ کرتا ہے، کہلاتا ہے

- (A) موضوع
(B) تمہید
(C) سوال و جواب
(D) تعلیم

89. کس کا مقصد بچوں کو ایک معیار تک پہنچانا ہوتا ہے؟

- (A) اجتماعی تعلیم
(B) اخلاقی تعلیم
(C) نفسیاتی تعلیم
(D) ذہنی تعلیم

indiresult.in whatsapp - 9352018749

90. ابتدائی منزل پر تدریسِ زبان کے بنیادی مقاصد ہیں

- (A) دیکھنا، رشنا اور بول کر یاد کرنا
(B) سبق کو بخوبی یاد کرنا
(C) بولنا، پڑھنا، لکھنا اور سمجھنا سکھانا
(D) تصاویر کو عکسی کاغذ کی مدد سے اتارنا

खण्ड - III

भाषा - II

सिंधी



indiresult.in whatsapp - 9352018749

कुल 30 सुवाल आहिनी

सभेई सुवाल व ण जस्ती आहिनी

examrajasthan.com

हेठियो टुकर ध्यान सां पढ़। इनल सुवालान जा जवाब लिजो।

दादा वासवाणीअं जे हिर्दे में सभिनी धर्मनि लाइ गहिरो प्रेम हो, हू धर्म खे बाहिरियो डेखाउ न मर्जीदो हो, धर्म फकति मथा टेकण में कोन्हे, नकी रूगो गीत गाइण ऐ शास्त्र पाठ में, सचो धर्म अथव दया में, धर्म अथव पवित्रता में धर्म अथव निविड़त में, धर्म अथव शेवा में ! इनकरे धर्म बाबत गाल्हायो घटि, पालन वधीक करियो।

दादा वासवाणी जे हिर्दे में न रूगो इन्सान जाति लाइ प्रेम हो पर पसुनि, पखियुनि लाइ पिणि दया भावु हो इनकरे संदसि जनम, डीहुं सजीअ दुनिया में वेशू डीहुं करे मल्हायो वेंदो आहे। संदसि शेवा जो लगायल बूटो अजु वधी वणु थियो आहे संदसि रूहानी वारिसु बणिजी दादा जशनु दुनिया जे कुंड कुड़िछ में वजी प्रभु प्रेम ऐ शेवा जो संदेश पहुचाए रहियो आहे। संदसि संहप में साधू वासवाणि मिशन द्वारां तइलीम ऐ दीन दुखियनि जी शेवा अनेक सारांहजोगा कम हली रहिया आहिन।

61. दादा टी.एल वासवाणीअ जो रूहानी वारिसु आहे -
 (A) दादा जशन वासवाणी (B) राम पंजवाणी
 (C) दयाल आशा (D) किशनचन्द बेवस
62. साधु वासवाणी मिशन द्वारा _____
 डिनी वेन्दी हुई
 (A) तइलीम (B) धनु
 (C) कपिड़ा (D) सीदो
63. सजी दुनिया में संदसि _____ जनमु डीहुं _____ डीहुं करे मल्हायो वजे थो।
 (A) मौज मस्तीअ जो डीहुं (B) वेशू डीहुं
 (C) ग्राइण वजाइण जो डीहुं (D) घुमण फिरण जो डीहुं
64. निवड़त अखर जी माना आहे -
 (A) वड़ाई (B) हठ
 (C) घमण्ड (D) नम्रता
65. "संहप" जो कहिड़ो अखर मेल खाईन्दइ न आहे।
 (A) मार्ग दर्शनु (B) रहनुमाई
 (C) रहबरी (D) सुन्दरता

indiresult.in whatsapp - 9352018749

F

(54)

66. हिन वक्त दुनिया अन्दर कहिडो युग हली रहियो आहे -
(A) पत्थर युग (B) हुनरी युग
(C) मशीन युग (D) कम्प्यूटर युग
67. घर जी सफाई सबक में किरदारनि जा नाला आहिनि
(A) सीता, गीता (B) रामू, श्यामू
(C) अनीता, बबीता (D) माला, मालती
68. "भलाईअ जो फलु" कहाणीअ में जिक्र थियल आहे -
(A) काठेर ऐं चीतो (B) काठेर ऐं शीह
(C) हाथी ऐं काठेर (D) रिछु ऐं काठेर
69. _____ जी मुन्द सभिनी मुंदनि जी राणी आहे
(A) उन्हारे जी मुन्द (B) सियारे जी मुन्द
(C) बहार जी मुन्द (D) बरसात जी मुन्द
70. राष्ट्रीय सिन्धी भाषा विकास परिषद जो मुख्यालय आहे -
(A) बढोदा (B) दिल्ली
(C) जयपुर (D) अहमदाबाद
71. सिन्धियुनि में चिभिड़ जो वाहिपो धीन्दो आहे ।
(A) होलीअ ते (B) डियारीअ ते
(C) शिवरात्रीअ ते (D) थधिडीअ ते
72. वीरू, हेमू कालाणीअ जो जनमु थियो
(A) 23 मार्च 1923 (B) 13 मार्च 1920
(C) 25 फरवरी 1885 (D) 26 जनवरी 1950
73. सिन्धी सिन्धू भारती दरसी किताब दर्जा अठो जो प्रकाशक आहे
(A) महाराष्ट्र राज्य पाठ्य पुस्तक मण्डल (B) गुजरात राज्य पाठ्य पुस्तक मण्डल
(C) राजस्थान राज्य पाठ्य पुस्तक मण्डल (D) मध्य प्रदेश राज्य पाठ्य पुस्तक मण्डल
74. फकीर लक्ष्मी देवीअ खे कहिडी प्रार्थना कन्दो हो
(A) धनु डे (B) कपिड़ा डे
(C) सोनु डे (D) आसीस डे
75. गोवर्धन भारती रहवासी हो
(A) महाराष्ट्र (B) गुजरात
(C) राजस्थान (D) मध्य प्रदेश

हेठी कविता ध्यान सां पढी (76-80) ताई डिनल सुवालनि जा जवाब लिखो ।

1. अवलि भेरे भजु सचल बंद ख्यालात जा,
तहिं पुगणु वजु, हुला जे हैरत में,
2. अदबु अथी ओट ओटि त अगाहोथिए,
मारि नगारे चोट, आशिक अनाअलहक जी
3. दीनु कुफ दिलि दामु, डिजि मिडियोई मौज में,
तिहां पोइ हुकाम, हरि जा सचा तुहिंजो
4. जे मजिनि था आदमी, से न मत्रां मां,
सचू आहियां आं, जो बान्हों बिए जो न थियां,
5. हिकु सफरु साइत, बियो सफर साल
पहिरियों ता राहत, पोयों ता पोइ रहियो
6. पाण पढिज पाण बिहिज, पाण ही सजिदो कजि,
बोल न बियो भांइजि, काफरु मोमिनु हिकु थियो ।



76. अनाअलहक जो अर्थ आहे
(A) मां खुद खुदा आहियां, (B) मां इन्सान आहियां
(C) मां धर्मात्मा आहियां (D) मां दुश्मन आहियां
77. तिहां पोइ _____ हर जा सचा तुहिंजो
(A) हुकाम (B) संदेश
(C) राजु (D) कारोबार
78. साइत अखर जो ज़िद आहे -
(A) डीहुं (B) हफ्तो
(C) महिनो (D) साल
79. ही कलाम कहिडे कविअं जा आहिनी -
(A) शाह अब्दुल लतीफ (B) सचल सरमस्त
(C) किशनचन्द बेवस (D) हून्दराज दुखायल
80. बान्हों अखर जी माना आहे -
(A) गुलाम (B) फकीर
(C) शंहशाह (D) राजा
81. साहित्य जे दरसी किताबनि में कहिडी उपभाषा लिखियल आहे -
(A) सरेली (B) कछी
(C) विचोली (D) थरेली

(56)



ST-2

82. सिन्धीअ जा पहिंजा कहिड़ा चूसणा उच्चार आहिन -
(A) ब, ग, ड, ज (B) फ, ज, ख, ग
(C) ज, ख, त, श (D) य, र, ल, व
83. "हू तुंहिजो किताब आहे" में कहिड़ो ज़मीरु कमु आन्दल आहे -
(A) ज़मीर इशारो (B) ज़मीर गाइब
(C) ज़मीर हाज़िर (D) मथियनि मां को बि न
84. हेठियो पहाको पूरो करियो ।
डुबरे डोर खे _____ घणां
(A) डेभू (B) पोपट
(C) मछर (D) विछूं
85. साहु मुठि में अचण इस्तलाह जी माना आहे -
(A) खुश थियण, (B) घबिराइजी वजण,
(C) मरी वजण, (D) मथियनि मां को बि न
86. घोड़ी, बिल्ली, गीता, डेल, छोकरी, कहिड़ी जिन्स आहिन -
(A) जिन्स आम (B) जिन्स मोनिस
(C) जिन्स मुज़कर (D) जिन्स बेजान
87. सुर्ख अखर सां मेल खाईन्दइ लफज़ न आहे -
(A) लाल (B) गाड़िहो
(C) रतो (D) साओ
88. डुबिरो जो ज़िदु आहे
(A) कमज़ोर (B) नाज़ुक
(C) मतारो (D) होशियार
89. छोकरो जो अदद जमउ आहे -
(A) छोकरा (B) छोकरी
(C) छोकरियुनि (D) छोकरो
90. गीता टी.वी. डिसे थी जुमिलो आहे -
(A) ज़मान हाल (B) ज़मान मांज़ी
(C) ज़मान मुस्तकबल (D) इन्हनि मां को बि न

ਖੰਡ- III

ਭਾਸ਼ਾ- II

ਪੰਜਾਬੀ



ਇਸ ਖੰਡ ਵਿੱਚ ਕੁੱਲ 30 ਪ੍ਰਸ਼ਨ ਹਨ ।

ਸਾਰੇ ਪ੍ਰਸ਼ਨ ਜ਼ਰੂਰੀ ਹਨ ।

indiresult.in whatsapp - 9352018749

61. ਪੰਜਾਬੀ ਪੜ੍ਹਾਉਣ ਵਾਲੇ ਅਧਿਆਪਕ ਨੂੰ ਹੋਣਾ ਚਾਹੀਦਾ ਹੈ _____
- (A) ਸਿਰਫ਼ ਅੰਗਰੇਜ਼ੀ ਭਾਸ਼ਾ ਦਾ ਗਿਆਨ (B) ਕੇਵਲ ਮਲਵਈ ਭਾਸ਼ਾ ਦਾ ਗਿਆਨ
(C) ਪੰਜਾਬੀ ਭਾਸ਼ਾ ਤੇ ਸਾਹਿਤ ਦਾ ਗਿਆਨ (D) ਕੇਵਲ ਮਾਝੀ ਭਾਸ਼ਾ ਦਾ ਗਿਆਨ
62. ਪੰਜਾਬੀ ਭਾਸ਼ਾ ਦਾ ਅਧਿਆਪਕ ਆਪਣੇ ਲੈਕਚਰ ਨੂੰ ਪ੍ਰਭਾਵਸ਼ਾਲੀ ਕਿਵੇਂ ਬਣਾ ਸਕਦਾ ਹੈ ?
- (A) ਸ਼ਬਦ ਸ਼ਕਤੀਆਂ ਰਾਹੀਂ (B) ਕੇਵਲ ਫ਼ਿਲਮੀ ਗਾਣੇ ਗਾ ਕੇ
(C) ਕੇਵਲ ਅਭਿਨੈ ਕਰਕੇ (D) ਕੇਵਲ ਨੱਚ-ਟੱਪ ਕੇ
63. ਪੰਜਾਬੀ ਦੇ ਅਧਿਆਪਕ ਦੀਆਂ ਵਿਅਕਤੀਗਤ ਵਿਸ਼ੇਸ਼ਤਾਵਾਂ ਵਿਚ ਕਿਹੜੀ ਇਕ ਨੂੰ ਛੱਡ ਕੇ ਬਾਕੀ ਸਾਰੀਆਂ ਯੋਗਤਾਵਾਂ ਸ਼ਾਮਲ ਹਨ ?
- (A) ਉਹ ਅਧਿਆਪਨ ਦੇ ਪੇਸ਼ੇ ਦਾ ਮਾਹਿਰ ਹੋਵੇ ।
(B) ਉਹ ਪੱਖਪਾਤ-ਰਹਿਤ ਤੇ ਸੁਹਿਰਦ ਵਿਅਕਤੀ ਹੋਵੇ ।
(C) ਉਹ ਇਕ ਚੰਗਾ ਸੰਗਠਨ ਕਰਤਾ, ਗਾਈਡ ਤੇ ਨਿਰਦੇਸ਼ਕ ਹੋਵੇ ।
(D) ਜਮਾਤਾਂ ਨੂੰ ਟਾਲ-ਮਟੋਲ ਕਰਨ ਦਾ ਆਦਿ ਹੋਵੇ ।
64. "ਕਿਸੇ ਵੀ ਸਿੱਖਿਆ ਪ੍ਰੋਗਰਾਮ ਦਾ ਆਧਾਰ ਚੰਗਾ ਅਧਿਆਪਨ ਹੈ ਅਤੇ ਦੇਖਣ-ਸੁਣਨ ਦੇ ਸਾਧਨ ਇਸ ਆਧਾਰ ਦਾ ਜ਼ਰੂਰੀ ਅੰਗ ਹਨ ।" ਕਥਨ ਕਿਸ ਵਿਦਵਾਨ ਦਾ ਹੈ ?
- (A) ਪੀ.ਜੇ. ਰੂਲਾਨ (B) ਈ.ਸੀ. ਡੈਂਟ
(C) ਈ.ਬੀ. ਵੈਸਲੇ (D) ਡਬਲਿਊ ਕਾਇਲ
65. ਭਾਸ਼ਾ ਪ੍ਰਯੋਗਸ਼ਾਲਾ ਦਾ ਸਭ ਤੋਂ ਪਹਿਲਾ ਨਿਰਮਾਣ ਕਦੋਂ ਤੇ ਕਿੱਥੇ ਹੋਇਆ ?
- (A) 1932 ਈ'ਚ ਭਾਰਤ ਵਿਚ (B) 1760 ਈ'ਚ ਬੰਗਲਾਦੇਸ਼ ਵਿਚ
(C) 1860 ਈ'ਚ ਪਾਕਿਸਤਾਨ ਵਿਚ (D) 1960 ਈ'ਚ ਵਿਚ ਅਮਰੀਕਾ 'ਚ
66. ਪੰਜਾਬੀ ਭਾਸ਼ਾ ਦਾ ਪਰੀਖਿਆ ਪੱਤਰ ਤਿਆਰ ਕਰਨ ਸਮੇਂ ਹੇਠ ਲਿਖੀਆਂ ਵਿਚੋਂ ਕਿਹੜੀ ਇੱਕ ਨੂੰ ਛੱਡ ਕੇ ਬਾਕੀ ਤਿੰਨ ਗੱਲਾਂ ਦਾ ਧਿਆਨ ਰੱਖਣਾ ਚਾਹੀਦਾ ਹੈ ? indiresult.in whatsapp - 9352018749
- (A) ਪ੍ਰਸ਼ਨਾਂ ਦੀ ਦੁਹਰਾਈ ਨਹੀਂ ਹੋਣੀ ਚਾਹੀਦੀ ।
(B) ਸਵਾਲ ਸਿਲੇਬਸ ਤੋਂ ਬਾਹਰੋਂ ਹੋਣੇ ਚਾਹੀਦੇ ਹਨ ।
(C) ਪਰੀਖਿਆ ਦਾ ਸਮਾਂ ਤੇ ਕੁੱਲ ਅੰਕਾਂ ਦਾ ਵੇਰਵਾ ਦਿੱਤਾ ਜਾਵੇ ।
(D) ਪ੍ਰਸ਼ਨਾਂ ਵਿਚ ਅਜਿਹੇ ਸੰਕੇਤ, ਚਿੰਨ੍ਹ ਆਦਿ ਨਾ ਦਿੱਤੇ ਜਾਣ ਜਿਨ੍ਹਾਂ ਨੂੰ ਬੱਚੇ ਸਮਝ ਨਾ ਸਕਣ ।
67. "ਅਜਿਹਾ ਬੋਲ ਜੋ ਬਿਨਾਂ ਕਿਸੇ ਦੂਜੇ ਬੋਲ ਦੀ ਸਹਾਇਤਾ ਦੇ, ਪੂਰੇ ਅਰਥ ਦੇਵੇ, ਵਾਕ ਹੈ ।" ਇਹ ਕਥਨ ਕਿਹੜੇ ਵਿਦਵਾਨ ਦਾ ਹੈ ?
- (A) ਡਾ. ਹਰਕੀਤਰ ਸਿੰਘ (B) ਬਲੂਮ ਫ਼ੀਲਡ
(C) ਮਿਲੀਅਟ (D) ਪਤੰਜਲੀ
68. 'ਤਰਤੀਬ, ਮੇਲ ਤੇ ਅਧਿਕਾਰ' ਕਿਸ ਦੇ ਤਿੰਨ ਮੁੱਖ ਭਾਗ ਹਨ ?
- (A) ਸਮਾਸ (B) ਯੋਜਕ
(C) ਵਾਕ ਰਚਨਾ (D) ਅਰਥ



69. 'ਉਸ ਨੇ ਘਰ ਜਾ ਕੇ ਰੋਟੀ ਖਾਧੀ' ਵਾਕ ਦਾ ਸੰਯੁਕਤ ਵਾਕ ਬਣਾਉ।
- (A) ਘਰ ਜਾ ਕੇ ਉਸ ਨੇ ਰੋਟੀ ਖਾਧੀ (B) ਉਹ ਘਰ ਗਿਆ ਤੇ ਉਸ ਨੇ ਰੋਟੀ ਖਾਧੀ
(C) ਉਸ ਨੇ ਘਰ ਜਾ ਕੇ ਰੋਟੀ, ਨਹੀਂ ਖਾਧੀ (D) ਰੋਟੀ ਉਸ ਨੇ ਘਰ ਜਾ ਕੇ ਖਾਧੀ
70. ਜਦੋਂ ਕਿਸੇ ਉੱਪਰ ਦੋਸ਼ ਲਾਉਣਾ ਹੋਵੇ ਤਾਂ ਕਿਹੜਾ ਮੁਹਾਵਰਾ ਵਰਤਿਆ ਜਾਂਦਾ ਹੈ ?
- (A) ਪਾਪੜ ਵੇਲਣੇ (B) ਉਂਗਲ ਕਰਨਾ
(C) ਲੋਈ ਲਹੁਣੀ (D) ਵਾਸਤੇ ਪਾਉਣਾ

ਹੇਠ ਲਿਖੇ ਪੈਰ੍ਹੇ ਨੂੰ ਪੜ੍ਹ ਕੇ ਸਵਾਲ ਨੰਬਰ 71 ਤੋਂ 75 ਤੱਕ ਦੇ ਉੱਤਰ ਦਿਉ :

ਪਿੰਡਾਂ ਵਿਚ ਸਹਾਇਕ ਕਿੱਤਿਆਂ ਜਿਵੇਂ ਮੱਝਾਂ, ਮੁਰਗੀਆਂ, ਸੂਰ, ਸ਼ਹਿਦ ਦੀਆਂ ਮੱਖੀਆਂ ਆਦਿ ਪਾਲਣ ਲਈ ਲੋੜੀਂਦੀ ਸਿੱਖਿਆ ਅਤੇ ਕਰਜ਼ਿਆ ਦੀਆਂ ਸਹੂਲਤਾਂ ਦਿੱਤੀਆਂ ਜਾ ਰਹੀਆਂ ਹਨ। ਪਰ ਇਹ ਮਹਿਸੂਸ ਕੀਤਾ ਜਾ ਰਿਹਾ ਹੈ ਕਿ ਜਦੋਂ ਤੀਕ ਨੌਜਵਾਨਾਂ ਵਿਚ ਨੌਕਰੀਆਂ ਪਿੱਛੇ ਭੱਜਣ ਦੀ ਥਾਂ ਆਪਣੇ ਹੱਥੀਂ ਕੰਮ ਕਰਨ ਦੀ ਇੱਛਾ ਪੈਦਾ ਨਹੀਂ ਹੁੰਦੀ ਤਦ ਤੱਕ ਇਸ ਸਮੱਸਿਆ ਦਾ ਕੋਈ ਠੋਸ ਹੱਲ ਨਹੀਂ ਹੋ ਸਕਦਾ। ਜੇ ਦਫ਼ਤਰੀ ਨੌਕਰੀਆਂ ਨਾਲੋਂ ਕਾਰਖਾਨਿਆਂ, ਖੇਤਾਂ ਅਤੇ ਉਪਜਾਊ ਕਿੱਤਿਆਂ ਵਿਚ ਲੱਗਣ ਨਾਲ ਆਰਥਿਕ ਲਾਭ ਵਧੇਰੇ ਹੋਵੇ ਤਾਂ ਹੱਥੀ ਕੰਮ ਕਰਨ ਦੀ ਸੰਭਾਵਨਾ ਹੋਰ ਵੀ ਮਜ਼ਬੂਤ ਹੋਵੇਗੀ। ਸਮੁੱਚੇ ਤੌਰ 'ਤੇ ਸਾਡੇ ਵਿੱਦਿਅਕ ਢਾਂਚੇ ਨੂੰ ਗੁਝਲਦਾਰ ਦੀਆਂ ਲੋੜਾਂ ਅਨੁਸਾਰ ਹੋਰ ਬਦਲਣ ਦੀ ਲੋੜ ਹੈ। ਆਰਥਿਕ ਢਾਂਚੇ ਨੂੰ ਵੀ ਹੋਰ ਵਧੇਰੇ ਮਜ਼ਬੂਤ ਕਰਨ ਦੀ ਲੋੜ ਹੈ। ਭਾਵੇਂ ਇਹ ਗੁਝਲਦਾਰ ਮਸਲਾ ਹੈ ਕਿਉਂਕਿ ਜਦੋਂ ਵੱਧ ਤੋਂ ਵੱਧ ਦੇਸ-ਵਾਸੀ ਠੀਕ ਰੁਜ਼ਗਾਰ 'ਤੇ ਲੱਗੇ ਹੋਣਗੇ ਤਾਂ ਦੇਸ਼ ਦੀ ਆਰਥਿਕਤਾ ਆਪਣੇ-ਆਪ ਮਜ਼ਬੂਤ ਹੋਵੇਗੀ। ਦੂਜੇ ਪਾਸੇ ਜਦੋਂ ਤੱਕ ਆਰਥਿਕ ਢਾਂਚਾ ਪੂਰੀ ਤਰ੍ਹਾਂ ਠੀਕ ਨਹੀਂ ਹੁੰਦਾ ਉਦੋਂ ਤੱਕ ਸਭ ਨੂੰ ਰੁਜ਼ਗਾਰ ਕਿਵੇਂ ਮਿਲ ਸਕਦਾ ਹੈ ? ਕਿਵੇਂ ਵੀ ਹੋਵੇ ਇਹ ਸਮੱਸਿਆ ਜ਼ਰੂਰ ਹੱਲ ਕੀਤੀ ਜਾਣੀ ਚਾਹੀਦੀ ਹੈ। ਰੁਜ਼ਗਾਰ ਮਨੁੱਖ ਲਈ ਬਹੁਤ ਜ਼ਰੂਰੀ ਹੈ। ਇਸ ਤੋਂ ਬਿਨਾਂ ਉਸ ਦੀ ਸ਼ਖਸੀਅਤ ਦਾ ਠੀਕ ਵਿਕਾਸ ਨਹੀਂ ਹੋ ਸਕਦਾ ਅਤੇ ਨਾ ਹੀ ਉਹ ਸਮਾਜ ਦੇ ਵਿਕਾਸ ਵਿਚ ਕੋਈ ਯੋਗਦਾਨ ਪਾ ਸਕਦਾ ਹੈ।

71. ਉਪਰੋਕਤ ਪੈਰ੍ਹੇ ਵਿਚ ਕਿਹੜੇ ਸਹਾਇਕ ਧੰਦੇ ਅਪਨਾਉਣ ਉੱਤੇ ਜ਼ੋਰ ਦਿੱਤਾ ਗਿਆ ਹੈ ?
- (A) ਮੱਝਾਂ, ਮੁਰਗੀਆਂ, ਸੂਰ, ਸ਼ਹਿਦ ਦੀਆਂ ਮੱਖੀਆਂ ਪਾਲਣ ਉੱਤੇ
(B) ਕੇਵਲ ਸੂਰ ਪਾਲਣ ਉੱਤੇ
(C) ਕੇਵਲ ਸ਼ਹਿਦ ਦੀਆਂ ਮੱਖੀਆਂ ਪਾਲਣ ਉੱਤੇ
(D) ਕੇਵਲ ਮੁਰਗੀਆਂ ਪਾਲਣ ਉੱਤੇ
72. ਉਪਰੋਕਤ ਪੈਰ੍ਹੇ ਦਾ ਢੁੱਕਵਾਂ ਸਿਰਲੇਖ ਕਿਹੜਾ ਹੋ ਸਕਦਾ ਹੈ ?
- (A) ਬੇਰੁਜ਼ਗਾਰੀ ਦੀ ਸਮੱਸਿਆ
(B) ਵਿਕਾਸ
(C) ਵਿਦਿਅਕ ਸੰਸਥਾਵਾਂ
(D) ਆਰਥਿਕ ਢਾਂਚਾ

indiresult.in whatsapp - 9352018749

73. ਹੇਠ ਲਿਖਿਆਂ ਵਿੱਚੋਂ ਪਿਛੇਤਰ ਵਾਲਾ ਸ਼ਬਦ ਚੁਣੋ :
- (A) ਕਰਜ਼ਿਆਂ (B) ਮੁਰਗੀਆਂ
(C) ਮੁਰਤਾਂ (D) ਗੁਝਲਦਾਰ
74. 'ਆਰਥਿਕ ਢਾਂਚੇ ਨੂੰ ਵਧੇਰੇ ਮਜ਼ਬੂਤ ਕਰਨ ਦੀ ਲੋੜ ਹੈ।' ਵਾਕ ਨੂੰ ਭਵਿੱਖ ਕਾਲ ਵਿਚ
- (A) ਆਰਥਿਕ ਢਾਂਚੇ ਨੂੰ ਵਧੇਰੇ ਮਜ਼ਬੂਤ ਕਰਨ ਦੀ ਲੋੜ ਸੀ।
(B) ਆਰਥਿਕ ਢਾਂਚੇ ਨੂੰ ਵਧੇਰੇ ਮਜ਼ਬੂਤ ਕਰਨ ਦੀ ਲੋੜ ਹੋ ਸਕਦੀ ਹੈ।
(C) ਆਰਥਿਕ ਢਾਂਚੇ ਨੂੰ ਵਧੇਰੇ ਮਜ਼ਬੂਤ ਕਰਨ ਦੀ ਲੋੜ ਹੋਵੇਗੀ।
(D) ਆਰਥਿਕ ਢਾਂਚੇ ਨੂੰ ਵਧੇਰੇ ਮਜ਼ਬੂਤ ਕਰਨ ਦੀ ਲੋੜ ਪੈ ਸਕਦੀ ਹੈ।
75. ਉਪਰੋਕਤ ਪੈਰ੍ਹੇ ਵਿਚ 'ਪਾਲਣ' ਸ਼ਬਦ ਕੀ ਹੈ ?
- (A) ਵਿਸ਼ੇਸ਼ਣ (B) ਪੜਨਾਵ
(C) ਨਾਂਵ (D) ਕਿਰਿਆ

ਹੇਠ ਲਿਖੇ ਕਾਵਿ-ਟੋਟੇ ਨੂੰ ਪੜ੍ਹ ਕੇ ਸਵਾਲ ਨੰਬਰ 76 ਤੋਂ 80 ਤੱਕ ਦੇ ਉੱਤਰ ਦਿਉ:

ਕੁੱਝ ਰੁੱਖ ਮੈਨੂੰ, ਪੁੱਤ ਲਗਦੇ ਨੇ

ਕੁੱਝ ਰੁੱਖ ਲਗਦੇ ਮਾਵਾਂ

ਕੁੱਝ ਰੁੱਖ ਨੂੰਹਾਂ ਧੀਆਂ ਲਗਦੇ

ਕੁੱਝ ਰੁੱਖ ਵਾਂਹਾ ਭਗਵਾਂ

ਕੁੱਝ ਰੁੱਖ ਮੇਰੇ ਬਾਬੇ ਵਾਕਣ

ਪੱਤਰ ਟਾਵਾਂ ਟਾਵਾਂ

ਕੁੱਝ ਰੁੱਖ ਮੇਰੀ ਦਾਦੀ ਵਰਗੇ

ਚੂਰੀ ਪਾਵਣ ਕਾਵਾਂ

ਕੁੱਝ ਰੁੱਖ ਯਾਰਾਂ ਵਰਗੇ ਲਗਦੇ

ਚੁੰਮਾਂ ਤੇ ਗਲ ਲਾਵਾਂ

ਇਕ ਮੇਰੀ ਮਹਿਬੂਬਾ ਵਾਕਣ

ਮਿੱਠਾ ਅਤੇ ਦੁਖਾਵਾਂ

ਕੁੱਝ ਰੁੱਖ ਮੇਰਾ ਦਿਲ ਕਰਦਾ ਏ

ਮੋਢੇ ਚੁੱਕ ਖਿਡਾਵਾਂ

ਕੁੱਝ ਰੁੱਖ ਮੇਰਾ ਦਿਲ ਕਰਦਾ ਏ

ਚੁੰਮਾਂ ਤੇ ਮਰ ਜਾਵਾਂ ।

ਕੁੱਝ ਰੁੱਖ ਜਦ ਵੀ ਰਲ ਕੇ ਝੂਮਣ

ਤੇਜ ਵਹਾਣ ਜਦ ਵਾਵਾਂ



76. ਉਪਰੋਕਤ ਕਵਿਤਾ ਵਿਚ ਕਵੀ ਰੁੱਖ ਰਾਹੀਂ ਕਿਸ ਦੇ ਪ੍ਰਤੀਕ ਸਿਰਜਦਾ ਹੈ ?
 (A) ਕਾਵਾਂ ਦੇ (B) ਰਿਸ਼ਤਿਆਂ ਦੇ
 (C) ਖੇਡਣ ਕੁੱਦਣ ਦੇ (D) ਦੁਸ਼ਮਣੀ ਦੇ
77. 'ਕੋੜਾ' ਸ਼ਬਦ ਦਾ ਵਿਰੋਧੀ ਸ਼ਬਦ ਦੱਸੋ
 (A) ਮਿੱਠਾ (B) ਖੱਟਾ
 (C) ਬਕਬਕਾ (D) ਕੁਸੈਲਾ
78. ਇਸ ਕਵਿਤਾ ਵਿਚ ਕਿਹੜੀ ਵਿਧੀ ਅਪਣਾਈ ਗਈ ਹੈ ?
 (A) ਨਫ਼ਰਤ ਦੀ (B) ਵਿਰੋਧ ਦੀ
 (C) ਹੈਰਾਨੀ ਦੀ (D) ਦੁਹਰਾ ਦੀ
79. 'ਕੋਈ ਕੋਈ' ਸ਼ਬਦ ਦਾ ਸਮਾਨਅਰਥੀ ਸ਼ਬਦ ਚੁਣੋ
 (A) ਵੱਧ ਤੋਂ ਵੱਧ (B) ਬਹੁਤ ਜ਼ਿਆਦਾ
 (C) ਬਹੁਤ ਸਾਰੇ (D) ਟਾਵਾਂ ਟਾਵਾਂ
80. ਉਪਰੋਕਤ ਕਾਵਿ-ਟੋਟੇ ਅਨੁਸਾਰ ਤੇਜ਼ ਹਵਾਵਾਂ ਦੇ ਵਹਾਣ ਨਾਲ ਕੀ ਹੁੰਦਾ ਹੈ ?
 (A) ਚੂਰੀ ਖਿੰਡ ਜਾਂਦੀ ਹੈ (B) ਬਾਬਾ ਰਾਹ ਭੁੱਲ ਜਾਂਦਾ ਹੈ
 (C) ਰੁੱਖ ਹਲਕੇ ਝੂਮਣ ਲਗਦੇ ਹਨ (D) ਮਾਂ ਦੀਆਂ ਅੱਖਾਂ ਹੁੰਦੇ ਦਾਲ ਚੁੰਧਿਆ ਜਾਂਦੀਆਂ ਹਨ
81. ਹੇਠ ਲਿਖਿਆਂ ਵਿੱਚੋਂ ਸ਼ੁੱਧ ਸ਼ਬਦ ਚੁਣੋ
 (A) ਨਹਿਰ (B) ਨੈਹਰ
 (C) ਨੈਰ (D) ਨਹਰ

(60)



82. ਇਨ੍ਹਾਂ ਵਿੱਚੋਂ ਸਹੀ ਸਮਾਸੀ ਸ਼ਬਦ ਚੁਣੋ :
- (A) ਹੱਕ ਹਰਾਮ (B) ਹੱਕ-ਹਾਕਮ
(C) ਹੱਕ-ਹਲਾਲ (D) ਹੱਕ ਕਮਾਈ
83. ਹੇਠ ਲਿਖਿਆਂ ਵਿੱਚੋਂ ਅਗੇਤਰ ਸ਼ਬਦ ਲੱਭੋ :
- (A) ਖਾਕਦਾਨ (B) ਬਾਕਮਾਲ
(C) ਕਲਗੀਧਰ (D) ਚਾਲਬਾਜ਼
84. ਕਿਹੜੇ ਵਾਕ ਵਿੱਚ 'ਵਾਰ' ਸ਼ਬਦ ਦੇ ਇਕ ਤੋਂ ਬਹੁਤੇ ਅਰਥ ਨਿਕਲਦੇ ਹਨ ?
- (A) ਅੱਜ ਐਤਵਾਰ ਹੈ ।
(B) ਉਹ ਵਾਰ ਨੂੰ ਕੁੱਝ ਨਹੀਂ ਸਮਝਦਾ ।
(C) ਉਹ ਵਾਰ-ਵਾਰ ਰੋ ਰਿਹਾ ਹੈ ।
(D) ਅੱਜ ਦੇ ਵਾਰ ਸਿੰਘਾਂ ਨੇ ਦੁਸ਼ਮਣਾਂ ਉੱਤੇ ਵਾਰ ਕਰਕੇ ਆਪਣੀਆਂ ਜਾਨਾਂ ਵਾਰ ਦਿੱਤੀਆਂ ।
85. 'ਕੁੜੱਤਣ' ਸ਼ਬਦ ਕੀ ਹੈ ?
- (A) ਇਕੱਠ-ਵਾਚਕ ਨਾਂਵ (B) ਵਸਤੂ-ਵਾਚਕ ਨਾਂਵ
(C) ਭਾਵ-ਵਾਚਕ ਨਾਂਵ (D) ਖਾਸ-ਨਾਂਵ
86. 'ਜਿਹੜੇ ਮਿਹਨਤ ਕਰਦੇ ਹਨ, ਉਹ ਸਫਲ ਹੁੰਦੇ ਹਨ' ਵਾਕ ਵਿੱਚ 'ਜਿਹੜੇ' ਸ਼ਬਦ ਕੀ ਹੈ ?
- (A) ਸੰਬੰਧ ਵਾਚਕ ਪੜਨਾਂਵ (B) ਪ੍ਰਸ਼ਨ ਵਾਚਕ ਪੜਨਾਂਵ
(C) ਨਿੱਜ-ਵਾਚਕ ਪੜਨਾਂਵ (D) ਅਨਿਸ਼ਚੇ ਪੜਨਾਂਵ
87. 'ਸੁਣੋ ਜੀ ! ਇਸ ਦੀ ਪੁਕਾਰ ਸੁਣੋ ।' ਵਾਕ ਕਿਹੜਾ ਵਿਸਮਿਕ ਹੈ ?
- (A) ਹੈਰਾਨੀ-ਵਾਚਕ ਵਿਸਮਿਕ (B) ਸੂਚਨਾ-ਵਾਚਕ ਵਿਸਮਿਕ
(C) ਅਸੀਮ-ਵਾਚਕ ਵਿਸਮਿਕ (D) ਫਿਟਕਾਰ-ਵਾਚਕ ਵਿਸਮਿਕ
88. 'ਕੁੱਕੜ' ਸ਼ਬਦ ਦਾ ਇਸਤਰੀ-ਲਿੰਗ ਚੁਣੋ :
- (A) ਮੁਰਗਾ (B) ਬਤਖ
(C) ਮੋਰਨੀ (D) ਕੁੱਕੜੀ
89. ਸਿੱਖਿਆ ਪ੍ਰਕਿਰਿਆ ਦੇ ਤਿੰਨ ਪ੍ਰਮੁੱਖ ਅੰਗ ਹਨ :
- (A) ਉਦੇਸ਼, ਸਿੱਖਿਆ, ਮਲਾਂਕਨ
(B) ਸਕੂਲ, ਸਰਕਾਰ, ਫਿਰਕਾ
(C) ਅਧਿਆਪਨ, ਪ੍ਰਕਿਰਿਆ, ਮੁਲਾਂਕਨ
(D) ਉਦੇਸ਼, ਅਧਿਅਨ ਤੇ ਅਧਿਆਪਨ ਦੀਆਂ ਪ੍ਰਸਥਿਤੀਆਂ ਅਗੇ ਸਿੱਖਿਆਰਥੀ
90. ਇਕ ਅਧਿਆਪਕ ਕੋਲ ਕੀ ਹੋਣਾ ਜ਼ਰੂਰੀ ਹੈ ?
- (A) ਸ਼ੁਕੀਨੀ ਲਾਉਣ ਦਾ ਢੰਗ (B) ਬਾਲਮ ਨੋਵਿਗਿਆਨ ਦਾ ਗਿਆਨ
(C) ਸਜਾ ਦੇਣ ਦਾ ਹੁਨਰ (D) ਬੱਚਿਆਂ ਨੂੰ ਨਿਰਉਤਸ਼ਾਹਤ ਕਰਨ ਦਾ ਹੁਨਰ

ખંડ - III

ભાષા - II

ગુજરાતી



indiresult.in whatsapp - 9352018749

આ ખંડમાં કુલ 30 પ્રશ્નો છે.

દરેક પ્રશ્નનો જવાબ આપવો ફરજિયાત છે.

61. નીચેનામાંથી કયો સામાન્ય હેતુ ખોટો છે ?
 (A) વિદ્યાર્થી શ્રવણ દ્વારા અર્થગ્રહણ કરે.
 (B) વિદ્યાર્થી કથન દ્વારા અર્થગ્રહણ કરે.
 (C) વિદ્યાર્થી વાંચન દ્વારા અર્થગ્રહણ કરે.
 (D) વિદ્યાર્થી લેખન દ્વારા અભિવ્યક્તિ કરે.
62. નીચેનામાંથી કયું સ્વાધ્યાય ઉત્તમ ગણાય ?
 (A) પ્રશ્નોના ઉત્તર લખવા આપવા.
 (B) પ્રશ્નોના ઉત્તર મોઢે કરવા આપવા.
 (C) ખાલી જગ્યા પૂરવા આપવી.
 (D) ચોક્કસ સ્થળની મુલાકાત લેવાનું કહેવું.
63. નીચેનામાંથી પાઠ આયોજન માટેના કયા સોપાનો સાચા ક્રમમાં છે ?
 (A) હેતુકથન - વિષયાભિમુખ - મૂલ્યાંકન
 (B) વિષયાભિમુખ - મૂલ્યાંકન - વિષયનિરૂપણ
 (C) વિષયનિરૂપણ - મૂલ્યાંકન - સ્વાધ્યાય
 (D) વિષયનિરૂપણ - વિષયાભિમુખ - સ્વાધ્યાય
64. વક્તૃત્વ સ્પર્ધાના આયોજનથી કયા કૌશલ્યોનો વિકાસ થશે ?
 (A) શ્રવણ-વાંચન
 (B) શ્રવણ-કથન
 (C) કથન-લેખન
 (D) કથન-વાંચન
65. બાળકમાં ભાષા શીખવાની શરૂઆત ક્યાંથી થાય છે ?
 (A) ઘરથી
 (B) શાળાથી
 (C) હોસ્પિટલથી
 (D) મહોલ્લાથી
66. નીચેનામાંથી કયા કૌશલ્ય અભિવ્યક્તિના છે ?
 (A) શ્રવણ-લેખન
 (B) વાંચન-કથન
 (C) લેખન-કથન
 (D) વાંચન-શ્રવણ
67. શિક્ષણની પ્રક્રિયાનું પ્રસ્થાનબિંદુ શું હોવું જોઈએ ?
 (A) શિક્ષકના વિચારો
 (B) લેખકનો પરિચય
 (C) વિષયવસ્તુ
 (D) શૈક્ષણિક હેતુઓ
68. નીચેનામાંથી કયો શિક્ષક સૌથી શ્રેષ્ઠ ગણાય ?
 (A) સારા હાવભાવ કરે.
 (B) કાવ્યગાન સુંદર કરે.
 (C) ખોતે વધુ બોલે.
 (D) વિદ્યાર્થીને બોલવાની તક વધુ આપે.

indiresult.in whatsapp - 9352018749

69. શબ્દકોશ એ કયા પ્રકારનું શૈક્ષણિક સાધન કહેવાય ?
- (A) દશ્ય (B) શ્રાવ્ય
(C) દશ્ય-શ્રાવ્ય (D) અસ્પૃશ્ય
70. નીચેનામાંથી કયુ વિધાન સાચું છે ?
- (A) પાઠ્યપુસ્તક એ સાધન છે, સાધ્ય નથી. (B) પાઠ્યપુસ્તક એ સાધન નથી, સાધ્ય છે.
(C) પાઠ્યપુસ્તક એ સાધન કે સાધ્ય બન્ને નથી. (D) બાળકોને પાઠ્યપુસ્તક જેટલું જ શીખવાડવું જોઈએ.
71. મૂલ્યાંકન કસોટી માટે નીચેનામાંથી કયું લક્ષણ સારું ગણાશે ?
- (A) કસોટી ઉપયોગ કરવામાં સરળ હોવી જોઈએ. (B) કસોટી સરળ હોવી જોઈએ.
(C) કસોટી કઠિન હોવી જોઈએ. (D) કસોટી અઘરી હોવી જોઈએ.
72. કયા પ્રકારના પ્રશ્નોની વિશ્વસનીયતા સૌથી ઊંચી જોવા મળે છે ?
- (A) નિબંધ (B) ટૂંક જવાબી
(C) અનાત્મલક્ષી (D) મૌખિક પ્રકારના
73. નીચેનામાંથી લેખન શૈલી માટે કયું લક્ષણ વધુ યોગ્ય નથી ?
- (A) સારા હસ્તાક્ષર (B) લાંબા વાક્યો
(C) વ્યાકરણની ભૂલો વિનાનું (D) રસિક
74. ધોરણ-8ની એક છોકરી કેટલાક અક્ષરોનો શુદ્ધ ઉચ્ચાર કરી શકતી નથી. તેને સુધારવા માટે નીચેનામાંથી શું કરાવશો ?
- (A) સારી વાર્તાઓ વંચાવીશું. (B) ગીતો ગવડાવીશું.
(C) તેનું બોલેલું રેકર્ડ કરી તેને સંભળાવીશું. (D) તેને વારંવાર મોટેથી બોલવાનું કહીશું.
75. તમને નડતી વર્ગખંડ શિક્ષણની સમસ્યાને હલ કરવા નીચેનામાંથી કયો રસ્તો ઉત્તમ છે ?
- (A) આચાર્યનું માર્ગદર્શન (B) ક્રિયાત્મક સંશોધન
(C) બાળકો સાથે ચર્ચા (D) વાલીનો સહયોગ

નીચેના ગદ્યાંશને આધારે પ્રશ્ન ક્રમાંક 76 થી 80ના ઉત્તર આપો :

દરેક વ્યક્તિની તમન્ના હોય છે કે તેનો અને તેના કુટુંબ તેમજ સમાજનો અવિરત વિકાસ થાય. આ માટે તેણે ચિંતા અને ચિંતન કરવું જરૂરી છે. એક સૂક્તિ છે કે, માત્ર વિચાર કે ઈચ્છા કરવાથી વિકાસ ન થાય. વ્યક્તિએ પોતાના કાર્ય અને વિચારો થકી નક્કી કરેલ ધ્યેય તરફ આગળ વધવાનું છે. આ માટે તેણે જરૂરી જ્ઞાન, કૌશલ્યો મેળવીને સતત ચિંતન કરવું પડે. વ્યક્તિએ વિવિધ સ્રોત દ્વારા જ્ઞાન અને માહિતી મેળવવી પડે. આ માટે તેણે અન્ય વ્યક્તિ સાથે વાત પણ કરવી પડે. જેમાં કેટલાક સફળ થાય છે, પણ આજના વોટ્સએપ, ફેસબુક અને ટી.વી.ના જમાનામાં ક્યાં કોઈને મળવાનો ટાઈમ છે ? આવા સંજોગોમાં વ્યક્તિ અન્યની સાથે નહિ પણ પોતાની જાત સાથે વાત કરે તે ખૂબ જ ઈચ્છનીય છે, જે જ્ઞાનનું બારણું બની જશે.

indiresult.in whatsapp - 9352018749

76. નીચેનામાંથી કયો શબ્દ તત્સમ શબ્દ છે ?
- (A) તમન્ના (B) ઈચ્છનીય
(C) બારણું (D) ફેસબુક



77. 'સૂક્તિ' શબ્દની સંધિ છૂટી પાડો. (63)
- (A) સુ + ઉક્તિ
(B) સૂ + ઉક્તિ
(C) સુ + ઉક્તિ
(D) સૂ + ઉક્તિ
78. જેમાં કેટલાક સફળ થાય છે. વાક્યમાં 'કેટલાક' એ કેવા પ્રકારનું સર્વનામ છે ?
- (A) દર્શક
(B) સ્વવાચક
(C) સાપેક્ષ
(D) અનિશ્ચિત
79. 'જે જ્ઞાનનું બારણું બની જશે.' વાક્ય કયા કાળમાં છે ?
- (A) વર્તમાન
(B) ભૂતકાળ
(C) ભવિષ્ય
(D) પૂર્ણકાળ
80. 'સતત ચિંતન કરવું પડે'માં વિશેષણ કયું પદ છે ?
- (A) સતત
(B) ચિંતન
(C) કરવું
(D) પડે

નીચે આપેલ પદ્યાંશને આધારે પ્રશ્ન ક્રમાંક 81 થી 85ના જવાબ આપો :

રંગભરી સંધ્યાનો સંગ;

સૃષ્ટિનો છલકે ઉછરંગ;

એક પાંખ ગિરિએ ને બીજી વાદળમાં,

આંખોમાં ઊભરે ઉમંગ

ઊડે ગરુડ રંગ ચંચુએ ચૂગતા,

રમતા અનંતને ઉછંગ,

રંગભરી સંધ્યાને સંગ

81. કાવ્યની પ્રથમ બે પંક્તિમાં કયા અલંકારનો ઉપયોગ થયો છે ?
- (A) ઉપમા
(B) વ્યાજસ્તુતિ
(C) અંત્યાનુપ્રાસ
(D) અનન્વય

indiresult.in whatsapp - 9352018749

82. કાવ્યમાં મુખ્ય કોની વાત કરવામાં આવી છે ?
- (A) સંધ્યા
(B) સૃષ્ટિ
(C) ગરુડ
(D) વાદળ





83. 'गिरि' अटले शुं ?

(A) पर्वत

(B) गिरनार

(C) आकाश

(D) गजराज

84. 'उछरंग' शब्दनो अर्थ काव्यने आधारे आपो.

(A) उभराववुं

(B) कल्पना

(C) संगाय

(D) आनंद

85. आ काव्यने क्यु शीर्षक वधु योज्य गाणाय ?

(A) रमता अनंतने

(B) ठिके गरुड

(C) रंगभरी संध्या

(D) छलके उछरंग

86. नीचेनामांथी साथी वाक्यरचना धरावतुं वाक्य क्युं छे ?

(A) में आ नवलकथाना प्रत्येक भाग वांख्या छे.

(B) भारा करतां महेशानो भोभाईल नवो छे.

(C) तमारुं धर भारो विसामो हतुं.

(D) यथाशक्ति प्रभाणे दान करवुं जोईअे.

87. 'भने अेक खास पाणी आपो.' वाक्य कया प्रकारनुं छे ?

(A) आज्ञार्थ

(B) निवेदन

(C) उद्गार

(D) संकुल

88. नीचेनामांथी कयो शब्दसमूह इडिप्रयोग छे ?

(A) नाक राभवुं

(B) अन्न अेवा ओडकार

(C) आप लला तो जग लला

(D) भणियाना भे भाग

indiresult.in whatsapp - 9352018749

89. नीचेनामांथी कया शब्दने प्रत्यय लागेलो छे ?

(A) गेरहाजर

(B) वणुकर

(C) पुरातन

(D) कभजोर

90. 'ते सुंदर हती तेथी सौ तेने जेवा आव्या' जाली जज्यामां योज्य विराभचिह्न भूको.

(A) !

(B) ,

(C) ;

(D) :

SECTION-IV / खण्ड - IV



In this Section, there are 2 sub-sections i.e. IV(a) Mathematics and Science and IV(b) Social Studies. Both the sub-sections consist of 60 Multiple choice Questions each. The candidate has to choose either IV(a) Mathematics and Science OR IV(b) Social Studies as selected in the Online Application Form and answer all the 60 questions.

इस खण्ड में दो उपखण्ड अर्थात् IV(a) गणित तथा विज्ञान एवं IV(b) सामाजिक अध्ययन हैं। दोनों उपखण्डों के प्रत्येक में 60 बहुविकल्पीय प्रश्न हैं।

परीक्षार्थी को IV(a) गणित तथा विज्ञान अथवा IV(b) सामाजिक अध्ययन, जिनका चयन ऑनलाइन आवेदन-पत्र में किया है, में से किसी एक उपखण्ड को चुनना है एवं सभी 60 प्रश्नों का उत्तर देना है।

SECTION-IV (a) / खण्ड - IV (a)

MATHEMATICS AND SCIENCE / गणित तथा विज्ञान

There are 60 questions in all in this section. The candidates who have selected this subject must answer all the questions.

इस खण्ड में कुल 60 प्रश्न हैं। जिन अभ्यर्थियों ने इस विषय का चयन किया है उन्हें सभी प्रश्न करना अनिवार्य हैं।

91. If ratio of the volumes of two cubes is 27 : 64, then what will be the ratio of their surface areas ?

(A) 3 : 4

(B) 4 : 3

(C) 9 : 16

(D) $3\sqrt{3} : 8$

यदि दो घनों के आयतनों का अनुपात 27 : 64 है, तो इनके पृष्ठों के क्षेत्रफलों का अनुपात क्या होगा ?

(A) 3 : 4

(B) 4 : 3

(C) 9 : 16

(D) $3\sqrt{3} : 8$

92. Area of curved surface of a cylindrical pole is 264 m^2 and its volume is 1848 m^3 . What is the height of the pole ? (use $\pi = \frac{22}{7}$)

(A) 4 m

(B) 3 m

(C) 5 m

(D) 6 m

एक बेलनाकार खंभे के वक्र पृष्ठ का क्षेत्रफल 264 वर्गमीटर है व इसका आयतन 1848 घनमीटर है। खंभे की ऊँचाई कितनी है ? ($\pi = \frac{22}{7}$ प्रयोग कीजिए।)

(A) 4 मीटर

(B) 3 मीटर

(C) 5 मीटर

(D) 6 मीटर

F indiresult.in whatsapp - 9352018749⁽⁶⁶⁾

93. 20 students of a class obtained following respective marks out of 100 marks in subject Mathematics :

54, 46, 24, 36, 84, 70, 16, 58, 6, 82, 44, 54, 32, 64, 8, 66, 52, 28, 16 and 30

Grouped frequency distribution table of above will be

(A)

S. No.	Class	Frequency
1	0-20	4
2	20-40	5
3	40-60	6
4	60-80	3
5	80-100	2

(B)

S. No.	Class	Frequency
1	0-20	4
2	20-40	6
3	40-60	5
4	60-80	3
5	80-100	2

(C)

S. No.	Class	Frequency
1	0-20	4
2	20-40	5
3	40-60	6
4	60-80	2
5	80-100	3

(D)

S. No.	Class	Frequency
1	0-20	3
2	20-40	5
3	40-60	6
4	60-80	4
5	80-100	2

एक कक्षा के 20 छात्रों ने गणित विषय में 100 अंकों में से क्रमशः निम्न अंक प्राप्त किये :

54, 46, 24, 36, 84, 70, 16, 58, 6, 82, 44, 54, 32, 64, 8, 66, 52, 28, 16 व 30

उपर्युक्त की वर्गीकृत बारंबारता सारणी होगी indiresult.in whatsapp - 9352018749

(A)

क्र.सं.	वर्ग	बारंबारता
1	0-20	4
2	20-40	5
3	40-60	6
4	60-80	3
5	80-100	2

(B)

क्र.सं.	वर्ग	बारंबारता
1	0-20	4
2	20-40	6
3	40-60	5
4	60-80	3
5	80-100	2

(C)

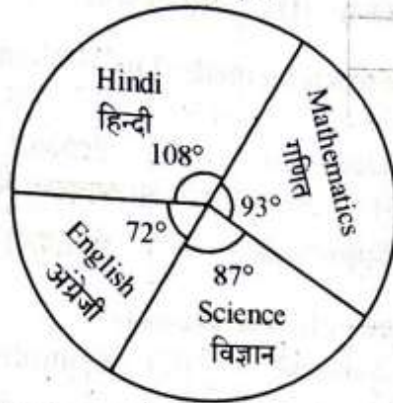
क्र.सं.	वर्ग	बारंबारता
1	0-20	4
2	20-40	5
3	40-60	6
4	60-80	2
5	80-100	3

(D)

क्र.सं.	वर्ग	बारंबारता
1	0-20	3
2	20-40	5
3	40-60	6
4	60-80	4
5	80-100	2

Note : Details of marks obtained by Seema in Hindi, English, Mathematics and Science subjects of examination of class 6 are shown in diagram given below. Sum of total marks questions (94 & 95) :

निर्देश : सीमा द्वारा कक्षा 6 की परीक्षा में हिन्दी, अंग्रेजी, गणित व विज्ञान विषयों में प्राप्त किये गये अंकों का विवरण नीचे दिये गये लेखाचित्र में दिया गया है। इन विषयों में सीमा द्वारा प्राप्त सभी अंकों का योग 480 है। सावधानी से पढ़कर निम्न प्रश्नों (94 एवं 95) के उत्तर दो :



94. How many marks obtained by Seema in Mathematics ?
 (A) 93 (B) 116 (C) 109 (D) 124
 सीमा ने गणित में कितने अंक प्राप्त किये ?
 (A) 93 (B) 116 (C) 109 (D) 124
95. How many marks obtained by Seema more in Hindi in comparison of English ?
 (A) 36 (B) 48 (C) 21 (D) 30
 सीमा ने हिन्दी में अंग्रेजी की तुलना में कितने अंक अधिक प्राप्त किये ?
 (A) 36 (B) 48 (C) 21 (D) 30
96. Out of following which is not the exact characteristics of objectives of Mathematics teaching in classroom.
 (A) should be related to life (B) should be in behavioural terms
 (C) should be testable (D) should be specific
 निम्नांकित में से कक्षा में गणित शिक्षण के उद्देश्यों की सटीक विशेषता नहीं है :
 (A) जीवन से संबंधित होने चाहिए। (B) व्यावहारिक पदों में होने चाहिए।
 (C) परीक्षण योग्य होने चाहिए। (D) विशिष्ट होने चाहिए।
97. If a student get same 42 marks out of 80 awarded by different examiners in a test of Mathematics, this shows which characteristics of evaluation out of following :
 (A) Objectivity (B) Validity
 (C) Reliability (D) Practicability
 यदि एक विद्यार्थी अलग-अलग परीक्षकों से गणित के परीक्षण में 80 में से 42 अंक समान रूप से प्राप्त करता है तब यह परीक्षण की निम्न में से कौन सी विशेषताएँ दर्शाता है ?
 (A) वस्तुनिष्ठता (B) वैधता
 (C) विश्वसनीयता (D) साध्यता

98. Out of following which is limitation of objective type questions ?
(A) Guessing
(B) Difficulty in construction
(C) Cannot measure complex process
(D) All of the above
निम्नलिखित में से वस्तुनिष्ठ प्रकार के प्रश्नों की सीमा है :
(A) अनुमान लगाना (B) निर्माण में कठिनाई
(C) जटिल प्रक्रियाओं को न माप सकना (D) उपरोक्त सभी
99. Out of following which of the teaching method in Mathematics is difficult to use in formal classroom situation ?
(A) Inductive (B) Deductive (C) Project (D) Analytic
निम्नांकित में से कौन सी शिक्षण विधि को औपचारिक कक्षा व्यवस्था में प्रयोग करना कठिन है ?
(A) आगमनात्मक (B) निगमनात्मक (C) प्रायोजना (D) विश्लेषणात्मक
100. Out of the following, Language of Mathematics is
(A) Symbolic (B) National (C) Complex (D) Vedic
निम्नलिखित में से गणित की भाषा है :
(A) संकेतात्मक (B) राष्ट्रीय (C) जटिल (D) वैदिक
101. Out of the following, Mathematics in a strict sense is a
(A) Concrete Science (B) Abstract Science
(C) Physical Science (D) Relative Science
निम्न में से सही मायनों में गणित है :
(A) मूर्त विज्ञान (B) अमूर्त विज्ञान
(C) भौतिकीय विज्ञान (D) सापेक्षिक विज्ञान
102. Out of the following which is not the characteristic of reasoning in Mathematics ?
(A) Accuracy (B) Certainty of result
(C) Originality (D) Subjectivity
गणित की तार्किकता की विशेषता निम्नांकित में से नहीं है :
(A) शुद्धता (B) परिणाम की निश्चितता
(C) मौलिकता (D) विषय-निष्ठता
103. Out of the following, what is most important characteristic of oral work in Mathematics for school students
(A) It develops mental process (B) It saves time
(C) Not require paper pencil (D) Able to solve questions orally
निम्नलिखित में से विद्यालय के विद्यार्थियों के लिए गणित में मौखिक कार्य की सर्वाधिक महत्वपूर्ण विशेषता हैं :
indiresult.in whatsapp - 9352018749
(A) ये मानसिक प्रक्रियाओं का विकास करती है।
(B) ये समय बचाती है।
(C) पेपर-पेन्सिल की आवश्यकता नहीं है।
(D) मौखिक रूप से प्रश्नों को हल करने योग्य बनाती है।

104. Out of the following which gadget of Information and communication technology is particularly most useful for teaching graphs and geometry ?

- (A) LCD-Projector (B) Slide Projector
(C) Interactive White Board (D) Television

निम्नलिखित में से कौन सा सूचना एवं दूरसंचार तकनीकी उपकरण विशिष्ट तौर पर ग्राफ तथा ज्यामिति शिक्षण में सर्वाधिक उपयोगी है ?

- (A) एल.सी.डी. प्रोजेक्टर (B) स्लाइड प्रोजेक्टर
(C) अन्तः क्रियात्मक श्वेत पट्ट (D) टेलीविजन

105. The synthetical method should be used to teach geometry in school after following

- (A) Induction (B) Synthesis
(C) Analysis (D) Deduction

विद्यालय में ज्यामिति पढ़ाने के लिए संश्लेषणात्मक विधि का प्रयोग निम्नांकित के पश्चात् किया जाना चाहिए :

- (A) आगमन (B) संश्लेषण
(C) विश्लेषण (D) निगमन

106. Value of $\sqrt{-\sqrt{3} + \sqrt{84 + 18\sqrt{3}}}$ is

- (A) $\sqrt{3}$ (B) 3
(C) $-\sqrt{3}$ (D) 0

$\sqrt{-\sqrt{3} + \sqrt{84 + 18\sqrt{3}}}$ का मान है

- (A) $\sqrt{3}$ (B) 3
(C) $-\sqrt{3}$ (D) 0

107. If $(4^{97} - 4^{96} + 4^{95}) = k \cdot 4^{95}$, then what is the value of k ?

- (A) 16 (B) 64
(C) 13 (D) 4

यदि $(4^{97} - 4^{96} + 4^{95}) = k \cdot 4^{95}$ हो, तो k का क्या मान है ?

- (A) 16 (B) 64
(C) 13 (D) 4

108. $5a^2 + 15a - 6b - 2ab =$

- (A) $(5a + 2b)(a + 3)$ (B) $(5a + 2b)(a - 3)$
(C) $(5a - 2b)(a - 3)$ (D) $(5a - 2b)(a + 3)$

$5a^2 + 15a - 6b - 2ab =$

- (A) $(5a + 2b)(a + 3)$ (B) $(5a + 2b)(a - 3)$
(C) $(5a - 2b)(a - 3)$ (D) $(5a - 2b)(a + 3)$

109. What is the value of $\frac{1}{\sqrt[3]{\frac{8}{1000}}} + \sqrt[3]{\frac{192}{3}}$?



- (A) 9 (B) 3
(C) 27 (D) 5

$\frac{1}{\sqrt[3]{\frac{8}{1000}}} + \sqrt[3]{\frac{192}{3}}$ का क्या मान है ?

- (A) 9 (B) 3
(C) 27 (D) 5

110. If $2x - 3y = 79$, $x + 6y = 47$, then what will be the value of $(x - y)$?

- (A) 40 (B) 32
(C) 38 (D) 42

यदि $2x - 3y = 79$, $x + 6y = 47$ हो, तो $(x - y)$ का मान क्या होगा ?

- (A) 40 (B) 32
(C) 38 (D) 42

111. $(3x + 5)^2 - 60x$ is equal to

- (A) $(3x + 10)^2$ (B) $(3x - 5)^2$
(C) $(3x + 12)^2$ (D) $(3x - 12)^2$

$(3x + 5)^2 - 60x$ निम्न में से किसके बराबर है ?

- (A) $(3x + 10)^2$ (B) $(3x - 5)^2$
(C) $(3x + 12)^2$ (D) $(3x - 12)^2$

112. What percentage of 80 is 80 ?

- (A) 64% (B) 80%
(C) 90% (D) 100%

80 का कितना प्रतिशत 80 है ?

- (A) 64% (B) 80%
(C) 90% (D) 100%

indiresult.in whatsapp - 9352018749

113. A T.V. seller sold two T.V. at the rate of ₹ 9,600. Out of them, he obtained 20% profit on one T.V. and 20% loss on another T.V. How much profit or loss percentage is obtained in whole transaction ?

- (A) 10% profit (B) 4% profit
(C) 4% loss (D) No profit no loss

एक टेलीविजन विक्रेता ने ₹ 9,600 की दर से दो टेलीविजन बेचे। उनमें से एक टेलीविजन पर 20% लाभ व दूसरे टेलीविजन पर 20% हानि हुई तो इस सौदे में कितने प्रतिशत लाभ अथवा हानि हुई ?

- (A) 10% लाभ (B) 4% लाभ
(C) 4% हानि (D) न लाभ न हानि

ST-2

(71)

F

114. In a field 6 workers complete a task in 16 days. If this task is to be completed in 4 days, then how many workers will be required ?

- (A) 20
(B) 18
(C) 24
(D) 28

एक क्षेत्र में एक लक्ष्य को 6 मजदूर 16 दिन में पूरा करते हैं। यदि यह लक्ष्य 4 दिन में पूरा करना हो, तो कितने मजदूर चाहिए ?

- (A) 20
(B) 18
(C) 24
(D) 28

115. If simple interest is ₹ 640 in 5 years at the rate of 8%, then what will be the principal amount ?

- (A) ₹ 1,280
(B) ₹ 1,600
(C) ₹ 3,200
(D) ₹ 2,400

यदि किसी धन का 8% की दर से 5 वर्ष में साधारण ब्याज ₹ 640 हो, तो मूलधन क्या होगा ?

- (A) ₹ 1,280
(B) ₹ 1,600
(C) ₹ 3,200
(D) ₹ 2,400

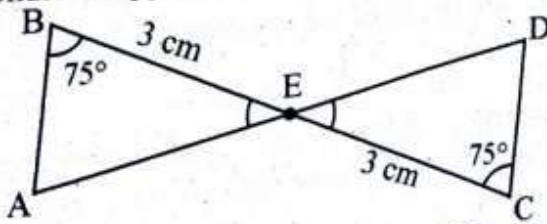
116. There is a target of increase in number of students in a University by 10% every year. If in year 2016 this number was 1500, then in year 2018 on completion of target how many students will be there in University ?

- (A) 1800
(B) 1815
(C) 1700
(D) 1915

एक विश्वविद्यालय में आने वाले विद्यार्थियों की संख्या में प्रतिवर्ष 10% वृद्धि का लक्ष्य रखा गया है। यदि वर्ष 2016 में यह संख्या 1500 थी तो वर्ष 2018 में लक्ष्य पूर्ति होने पर विश्वविद्यालय में कितने विद्यार्थी होंगे ?

- (A) 1800
(B) 1815
(C) 1700
(D) 1915

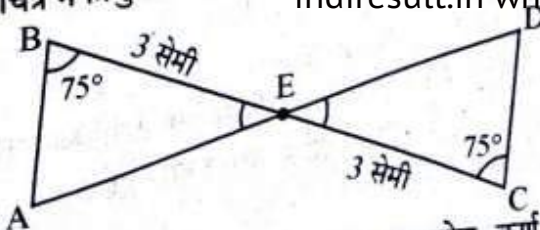
117. Which condition applies of congruence of triangles in the diagram given below ?



- (A) Side-Side-Side rule
(B) RHS rule
(C) Side-Angle-Side rule
(D) Angle-Side-Angle rule

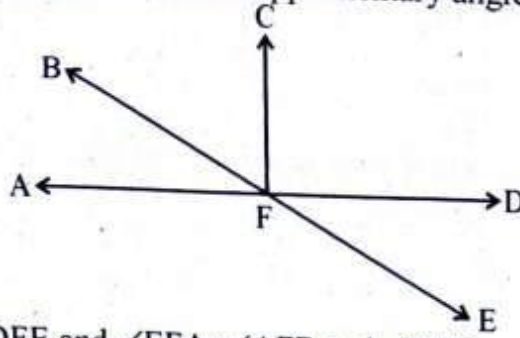
नीचे दिये गये चित्र में त्रिभुजों की सर्वांगसमता का कौन सा प्रतिबंध लागू होता है ?

indiresult.in whatsapp - 9352018749



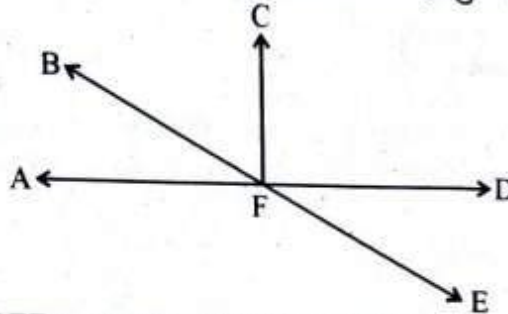
- (A) भुजा-भुजा-भुजा नियम
(B) समकोण-कर्ण-भुजा नियम
(C) भुजा-कोण-भुजा नियम
(D) कोण-भुजा-कोण नियम

118. Correct pairs of dissimilar supplementary angles in the following diagram are



- (A) $\angle DFE$ and $\angle EFA$; $\angle AFB$ and $\angle BFD$
 (B) $\angle DFE$ and $\angle AFB$; $\angle EFA$ and $\angle BFD$
 (C) $\angle BFD$ and $\angle EFA$; $\angle AFB$ and $\angle DFE$
 (D) $\angle AFC$ and $\angle DFC$; $\angle AFB$ and $\angle DFE$

नीचे दिये गये चित्र में असमान संपूरक कोणों के सही युग्म हैं :



- (A) $\angle DFE$ व $\angle EFA$; $\angle AFB$ व $\angle BFD$
 (B) $\angle DFE$ व $\angle AFB$; $\angle EFA$ व $\angle BFD$
 (C) $\angle BFD$ व $\angle EFA$; $\angle AFB$ व $\angle DFE$
 (D) $\angle AFC$ व $\angle DFC$; $\angle AFB$ व $\angle DFE$

119. Two parallel sides of a trapezium are 10 cm and 16 cm respectively. If area of the trapezium is 78 cm^2 , then what will be the height of the trapezium ?

- (A) 13 cm (B) 5 cm
 (C) 6 cm (D) 8 cm

एक समलंब चतुर्भुज की दो समान्तर भुजाएँ क्रमशः 10 सेमी व 16 सेमी हैं। यदि समलंब चतुर्भुज का क्षेत्रफल 78 वर्ग सेमी हो, तो उसकी ऊँचाई क्या होगी ?

- (A) 13 सेमी (B) 5 सेमी
 (C) 6 सेमी (D) 8 सेमी

120. What will be the circumference of half part of a circle, whose diameter is 56 cm ?

(use $\pi = \frac{22}{7}$)

indiresult.in whatsapp - 9352018749

- (A) 44 cm (B) 88 cm
 (C) 22 cm (D) 66 cm

56 सेमी व्यास वाले किसी वृत्त के आधे भाग की परिधि क्या होगी ? ($\pi = \frac{22}{7}$ प्रयोग कीजिए।)

- (A) 44 सेमी (B) 88 सेमी
 (C) 22 सेमी (D) 66 सेमी



121. Cristae are found in which cell organelle ?

- (A) Golgi bodies (B) Mitochondria
(C) Endoplasmic reticulum (D) Chloroplast

किस कोशिकांग में क्रिस्टी पाई जाती है ?

- (A) गॉल्जीकाय (B) माइटोकॉण्ड्रिया
(C) अन्तःप्रद्रव्यी जालिका (D) हरितलवक

122. Which is an insectivorous plant ?

- (A) Cuscuta (B) Utricularia (C) Monotropa (D) Orobancha

कीटाहारी पादप कौन सा है ?

- (A) कुस्कुटा (B) यूट्रीकुलेरिया (C) मोनोट्रोपा (D) ओरोबेन्की

123. Which is a red planet in Solar system ?

- (A) Mercury (B) Venus
(C) Mars (D) Saturn

सौरमण्डल में लाल ग्रह कौन सा है ?

- (A) बुध (B) शुक्र
(C) मंगल (D) शनि

124. DOTS is a short form of

- (A) Directly Observed Treatment, Short Course
(B) Directly Observed Treatment Scheme
(C) Distantly Observed Treatment Scheme
(D) Distantly Observed Treatment Schedule

DOTS, किसका लघु स्वरूप है ?

- (A) प्रत्यक्ष प्रेक्षित उपचार, लघु पथ (B) प्रत्यक्ष प्रेक्षित उपचार योजना
(C) दूरस्थ प्रेक्षित उपचार योजना (D) दूरस्थ प्रेक्षित उपचार कार्यक्रम

indiresult.in whatsapp - 9352018749

125. Which food group is richest in energy in terms of kCal per gram ?

- (A) Cereal, Millet and Pulses
(B) Vegetables and Fruits
(C) Milk and Milk products, Egg, Meat and Fishes
(D) Oil & Fats and Nuts & Oilseeds

कौन सा भोजन समूह, किलो कैलोरी प्रति ग्राम आधार पर, ऊर्जा प्रचुरतम है ?

- (A) अनाज, मिलेट एवं दालें
(B) सब्जियाँ एवं फल
(C) दूध एवं दुग्ध उत्पाद, अण्डा, माँस एवं मछलियाँ
(D) तेल व वसा एवं दृढ़फल व तिलहन

126. Which one of the following statement is correct with reference to Luteinizing Hormone (LH)?

- (A) It stimulates Leydig cells to produce testosterone.
- (B) It is a neurohormone.
- (C) It is secreted by Graafian follicles.
- (D) It does not show synergism with FSH.

ल्यूटीनकारी हार्मोन के संदर्भ में निम्न में से कौन सा कथन सही है ?

- (A) यह लीडिंग कोशिकाओं को टेस्टोस्टेरोन उत्पादन के लिए उद्दीपित करता है।
- (B) यह एक तंत्रिका हार्मोन है।
- (C) यह ग्राफी पुटक से स्रावित होता है।
- (D) यह FSH के साथ संकर्म नहीं दर्शाता है।

127. The strategy of alternation between sexual and asexual reproduction is known as

- (A) Polyembryony
- (B) Parthenogenesis
- (C) Heterogamy
- (D) Apomixis

लैंगिक एवं अलैंगिक जनन के बीच एकान्तरण की कार्यनीति कहलाती है

- (A) बहुभुणता
- (B) अनिषेकजनन
- (C) विषमयुग्मन
- (D) असंगतजनन

128. Objectives related to affective domain mainly concerned with

- (A) Knowledge
- (B) Application
- (C) Valuing
- (D) Comprehension

भावात्मक पक्ष से सम्बन्धित उद्देश्य मुख्य रूप से सम्बन्धित है

- (A) ज्ञान
- (B) अनुप्रयोग
- (C) अनुमूल्यन
- (D) बोध

129. Which one of the following is not a characteristic of a good test ?

- (A) Reliability
- (B) Planning
- (C) Objectivity
- (D) Discrimination

निम्नलिखित में से कौन सी विशेषता एक उत्तम परीक्षण की नहीं है ?

- (A) विश्वसनीयता
- (B) योजना
- (C) वस्तुनिष्ठता
- (D) विभेदकारिता

indiresult.in whatsapp - 9352018749

130. An example of projected teaching aid is

- (A) Bulletin board
- (B) Overhead projector
- (C) Chart
- (D) Model

प्रक्षेपी शिक्षण सामग्री का एक उदाहरण है

- (A) बुलेटिन बोर्ड
- (B) ओवरहेड प्रोजेक्टर
- (C) चार्ट
- (D) मॉडल

(75)

131. Out of the following which teaching method gives importance to the mental conclusion ?

- (A) Lecture-cum-Demonstration method
 (B) Lecture method
 (C) Problem solving method
 (D) Laboratory method

निम्नलिखित में से कौन सी शिक्षण विधि मानसिक निष्कर्षों को महत्व प्रदान करती है ?

- (A) व्याख्यानयुक्त प्रदर्शन विधि
 (B) व्याख्यान विधि
 (C) समस्या समाधान विधि
 (D) प्रयोगशाला विधि

132. Out of the following which comes under "Product of Science" ?

- (A) Scientific laws
 (B) Scientific attitude
 (C) Formulation of hypothesis
 (D) Experimentation

निम्नलिखित में से कौन सा विज्ञान के उत्पाद के अन्तर्गत आता है ?

- (A) वैज्ञानिक नियम
 (B) वैज्ञानिक अभिवृत्ति
 (C) परिकल्पना बनाना
 (D) प्रयोग करना

133. Out of the following which innovative teaching method covers all domains of objectives of teaching ?

- (A) Team teaching
 (B) Micro teaching
 (C) Brain storming
 (D) Programmed instruction

निम्नलिखित में से कौन सी नवाचारी शिक्षण विधि में शिक्षण के उद्देश्यों के सभी घटकों का समावेश होता है ?

- (A) दल शिक्षण
 (B) सूक्ष्म शिक्षण
 (C) मस्तिष्क उद्वेलन
 (D) अभिक्रमित अनुदेशन

134. Which type of teaching should be planned after diagnosing the learning difficulties of the students in science teaching ?

- (A) Micro teaching
 (B) Team teaching
 (C) Diagnostic teaching
 (D) Remedial teaching

विज्ञान शिक्षण में विद्यार्थियों की अधिगम कठिनाइयों के निदान के उपरान्त किस प्रकार के शिक्षण की व्यवस्था की जानी चाहिये ?

- (A) सूक्ष्म शिक्षण
 (B) दल शिक्षण
 (C) निदानात्मक शिक्षण
 (D) उपचारात्मक शिक्षण

indiresult.in whatsapp - 9352018749

135. A systematic process of determining the extent to which educational objectives are achieved by the pupils is known as

- (A) Training
 (B) Evaluation
 (C) Diagnosis
 (D) Experiments

एक क्रमबद्ध प्रक्रिया जो यह बताती है कि बालक ने किस सीमा तक शैक्षिक उद्देश्यों को प्राप्त किया है, कहलाती है

- (A) प्रशिक्षण
 (B) मूल्यांकन
 (C) निदान
 (D) प्रयोग

136. "Defining" Action verb is related with which behavioural objectives ?

- (A) Affective (B) Psychomotor
(C) Cognitive (D) Affective and Psychomotor

"परिभाषित करना" क्रियासूचक शब्द किस व्यवहारगत उद्देश्य से सम्बन्धित है ?

- (A) भावात्मक (B) मनोक्रियात्मक
(C) संज्ञानात्मक (D) भावात्मक एवं मनोक्रियात्मक

137. Out of the following frame of Linear Programmed Instruction, which of the following frame is exactly related with teaching-learning content ?

- (A) Teaching frame (B) Introductory frame
(C) Testing frame (D) Practice frame

रेखीय अभिक्रमित अनुदेशन के निम्नलिखित पद में से कौन सा पद निश्चित रूप से पढ़ाई जाने वाली विषयवस्तु से सम्बन्धित है ?

- (A) शिक्षण पद (B) प्रस्तावना पद
(C) परीक्षण पद (D) अभ्यास पद

138. An object of mass 0.75 kg is hanging from a string attached to roof. What will be the force applied by string on the object ?

- (A) 8.45 N (B) 7.35 N
(C) 6.85 N (D) 9.8 N

0.75 kg द्रव्यमान का एक पिण्ड छत से टंगी डोरी से लटका हुआ है। डोरी द्वारा पिण्ड पर कितना बल लगेगा ?

- (A) 8.45 N (B) 7.35 N
(C) 6.85 N (D) 9.8 N

indiresult.in whatsapp - 9352018749

139. Which of the following statement is true for an oscillating simple pendulum ?

- (A) Potential energy is minimum at maximum displacement position.
(B) Potential energy is maximum at maximum displacement position.
(C) Kinetic energy is minimum at equilibrium position.
(D) Potential energy is maximum at equilibrium position.

एक दोलन करते हुए सरल लोलक के लिये निम्न में से कौन सा कथन सत्य है ?

- (A) अधिकतम विस्थापन अवस्था में स्थितिज ऊर्जा न्यूनतम है।
(B) अधिकतम विस्थापन अवस्था में स्थितिज ऊर्जा अधिकतम है।
(C) माध्य अवस्था में गतिज ऊर्जा न्यूनतम है।
(D) माध्य अवस्था में स्थितिज ऊर्जा अधिकतम है।

140. Which of the following temperature is not possible? (77)

- (A) -8°F (B) -8°C
 (C) -8 k (D) -8°R
- निम्न में से कौन सा तापमान सम्भव नहीं है ?
- (A) -8°F (B) -8°C
 (C) -8 k (D) -8°R

141. 1 joule is equivalent to

- (A) 4.2 kCal (B) 4.2 Cal (C) $\frac{1}{4.2}$ kCal (D) $\frac{1}{4.2}$ Cal
- 1 जूल तुल्य होता है
- (A) 4.2 kCal (B) 4.2 Cal (C) $\frac{1}{4.2}$ kCal (D) $\frac{1}{4.2}$ Cal

142. What should be the minimum height of a plane mirror to get full image of an object of 2 m height ?

- (A) 1 m (B) 2 m (C) 4 m (D) 0.5 m

एक समतल दर्पण में 2 m ऊँचाई की वस्तु का पूर्ण प्रतिबिम्ब देखने के लिये दर्पण की न्यूनतम ऊँचाई कितनी होनी चाहिए ?

- (A) 1 m (B) 2 m (C) 4 m (D) 0.5 m

143. Sound transmission takes place as

- (A) Stationary transverse wave (B) Progressive transverse wave
 (C) Progressive longitudinal wave (D) Particle form

ध्वनि का संचरण होता है

- (A) अनुप्रस्थ अप्रगामी तरंग रूप में (B) अनुप्रस्थ प्रगामी तरंग रूप में
 (C) अनुदैर्घ्य प्रगामी तरंग रूप में (D) कण स्वरूप में

144. Which of the following is a Green-house gas ?

- (A) Nitrogen (B) Hydrogen
 (C) Oxygen (D) Nitrous Oxide

निम्नलिखित में से कौन सी हरित गृह गैस हैं ?

- (A) नाइट्रोजन (B) हाइड्रोजन
 (C) ऑक्सीजन (D) नाइट्रस ऑक्साइड

indiresult.in whatsapp - 9352018749

145. Chemical formula of Ammonium nitride is

- (A) NH_4N (B) $(\text{NH}_4)_2\text{N}_3$ (C) $(\text{NH}_4)_3\text{N}$ (D) $(\text{NH}_4)_3\text{N}_2$

अमोनियम नाइट्राइड का रासायनिक सूत्र है -

- (A) NH_4N (B) $(\text{NH}_4)_2\text{N}_3$ (C) $(\text{NH}_4)_3\text{N}$ (D) $(\text{NH}_4)_3\text{N}_2$

146. Monomers used to prepare artificial fibre Dacron is

- (A) Ethylene glycol and Acrylonitrile
- (B) Ethylene glycol and Vinyl Chloride
- (C) Ethylene glycol and Terephthalic Acid
- (D) Ethylene glycol and Acetonitrile



कृत्रिम रेशा डेक्रॉन बनाने में प्रयुक्त एकलक है

- (A) एथिलीन ग्लाइकॉल तथा ऐक्रिलोनाइट्राइल
- (B) एथिलीन ग्लाइकॉल तथा विनाइल क्लोराइड
- (C) एथिलीन ग्लाइकॉल तथा टेरिफ्थैलिक अम्ल
- (D) एथिलीन ग्लाइकॉल तथा ऐसीटोनाइट्राइल

147. Antacid substance used for the treatment of acidity in stomach is

- (A) Caustic soda
- (B) Caustic Potash
- (C) Milk of Magnesia
- (D) Lunar Caustic

आमाशय की अम्लता का उपचार करने के लिए प्रयुक्त प्रति अम्ल है

- (A) कॉस्टिक सोडा
- (B) कॉस्टिक पोटैश
- (C) मिल्क ऑफ मैग्नीशिया
- (D) लूनर कॉस्टिक

148. Coal containing maximum percentage of carbon is

- (A) Peat
- (B) Lignite
- (C) Bituminous
- (D) Anthracite

कोयला जिसमें कार्बन की सर्वाधिक प्रतिशतता हैं

- (A) पीट
- (B) लिग्नाइट
- (C) बिटुमेनी
- (D) ऐन्थ्रासाइट

149. Which of the following is an output device ?

- (A) Magnetic Ink Character Recognition (MICR)
- (B) Optical Character Recognition (OCR)
- (C) Optical Mark Reading (OMR)
- (D) Visual Display Unit (VDU)

निम्नलिखित में से कौन सा आउटपुट उपकरण हैं ?

- (A) मैग्नेटिक इंक करेक्टर रिकगनिशन (MICR)
- (B) ऑप्टिकल करेक्टर रिकगनिशन (OCR)
- (C) ऑप्टिकल मार्क रीडिंग (OMR)
- (D) विजुअल डिस्प्ले यूनिट (VDU)

indiresult.in whatsapp - 9352018749

150. Who discovered Penicillin ?

- (A) Edward Jenner
- (B) Robert Hooke
- (C) Robert Koch
- (D) Alexander Fleming

पेनिसिलिन की खोज किसने की ?

- (A) एडवर्ड जेनर
- (B) रॉबर्ट हुक
- (C) रॉबर्ट कोच
- (D) एलक्सेन्डर फ्लेमिंग

There are 60 questions in all in this section. The candidates who have selected this subject must answer all the questions.

इस खण्ड में कुल 60 प्रश्न हैं। जिन अभ्यर्थियों ने इस विषय का चयन किया है उन्हें सभी प्रश्न करना अनिवार्य है।

91. What does 'we the people of India' as mentioned in the preamble of the Constitution of India mean ?

- (A) Sovereignty lies with the Chief Justice of India
- (B) Sovereignty lies with the People of India
- (C) Sovereignty lies with the Political Parties of India
- (D) Sovereignty lies with the Speaker of the Lok Sabha

भारत के संविधान की प्रस्तावना में उल्लिखित 'हम भारत के लोग' से क्या तात्पर्य है ?

- (A) सम्प्रभुता भारत के मुख्य न्यायाधीश में निहित है।
- (B) सम्प्रभुता भारत के लोगों में निहित है।
- (C) सम्प्रभुता भारत के राजनीतिक दलों में निहित है।
- (D) सम्प्रभुता लोकसभा के अध्यक्ष में निहित है।

92. Under which Article of the Constitution of India untouchability was abolished ?

- (A) Article 16
- (B) Article 17
- (C) Article 18
- (D) Article 19

भारत के संविधान के किस अनुच्छेद के अन्तर्गत अस्पृश्यता को समाप्त किया गया है ?

- (A) अनुच्छेद 16
- (B) अनुच्छेद 17
- (C) अनुच्छेद 18
- (D) अनुच्छेद 19

93. In which part of the Constitution of India the Fundamental Duties are enshrined ?

- (A) Part V
- (B) Part II
- (C) Part IV A
- (D) Part VI

भारत के संविधान के किस भाग में मूल कर्तव्यों को सन्निहित किया गया है ?

- (A) भाग-V
- (B) भाग-II
- (C) भाग-IV-A
- (D) भाग-VI

94. Article 25 of the Constitution of India is related to
- (A) Freedom of Conscience and free profession, practice and propagation of religion.
 (B) No discrimination would be done on the ground of religion, race, caste, language or any of them.
 (C) Right to education.
 (D) Minority Institutions.

भारतीय संविधान का अनुच्छेद 25 सम्बन्धित है

- (A) अंतःकरण की स्वतंत्रता तथा किसी भी धर्म के पालन, अभ्यास और प्रचार की स्वतंत्रता
 (B) धर्म, मूलवंश, जाति, भाषा या इनमें से किसी के आधार पर कोई भेदभाव नहीं किया जायेगा।
 (C) शिक्षा का अधिकार
 (D) अल्पसंख्यक संस्थाएँ

95. Which of the following is not a constitutional provision related to Social justice ?

- (A) Reservation for SC and ST in Government jobs.
 (B) Reservation for SC and ST in Legislature.
 (C) Equal pay for equal work.
 (D) Prohibition of Child Labour.

निम्न में से सामाजिक न्याय से सम्बन्धित संवैधानिक प्रावधान नहीं है :

- (A) अनुसूचित जाति व अनुसूचित जनजाति हेतु सरकारी नौकरियों में आरक्षण
 (B) विधायिका में अनुसूचित जाति, जनजाति हेतु आरक्षण
 (C) समान कार्य हेतु समान वेतन
 (D) बाल श्रम निषेध

96. What is the Quorum required to run the proceedings of the Lok Sabha ?

- (A) $1/4^{\text{th}}$ of total members (B) $2/3^{\text{rd}}$ of total members
 (C) $1/3^{\text{rd}}$ of total members (D) $1/10^{\text{th}}$ of total members

लोकसभा की कार्यवाही के संचालन के लिए आवश्यक गणपूर्ति क्या है ?

- (A) कुल सदस्य संख्या का $1/4$ वाँ भाग (B) कुल सदस्य संख्या का $2/3$ वाँ भाग
 (C) कुल सदस्य संख्या का $1/3$ वाँ भाग (D) कुल सदस्य संख्या का $1/10$ वाँ भाग

indiresult.in whatsapp - 9352018749

97. Which Article of the Constitution of India provides for a Council of Ministers which shall aid the President in the exercise of his functions ?

- (A) Article 74 (B) Article 78
 (C) Article 79 (D) Article 80

भारत के संविधान के कौन से अनुच्छेद में एक मंत्रिपरिषद् का प्रावधान है जो कि राष्ट्रपति को उसके कार्यों के निर्वहन में सहायता प्रदान करेगा ?

- (A) अनुच्छेद 74 (B) अनुच्छेद 78
 (C) अनुच्छेद 79 (D) अनुच्छेद 80

98. Who appoints the State Election Commissioner ?
- (A) Chief Election Commissioner of India
(B) President of India
(C) Governor of the concerned State
(D) The Legislative Assembly of the State

राज्य चुनाव आयुक्त को कौन नियुक्त करता है ?

- (A) भारत के मुख्य निर्वाचन आयुक्त (B) भारत के राष्ट्रपति
(C) सम्बन्धित राज्य का राज्यपाल (D) राज्य की विधानसभा

99. Which of the following statements regarding the Supreme Court of India is not correct ?
- (A) The President of India can seek the advice of Supreme Court in the matters related to interpretation of the Constitution.
(B) It is binding upon the Supreme Court to advise the President.
(C) The President is not bound to accept the advice given by the Supreme Court.
(D) The Government can make the necessary amendments in the proposed legislation on the advice of the Supreme Court.

भारत के सर्वोच्च न्यायालय के सम्बन्ध में निम्न में से कौन सा कथन सही नहीं है ?

- (A) संविधान की व्याख्या से सम्बन्धित किसी मामले पर राष्ट्रपति सर्वोच्च न्यायालय से परामर्श माँग सकता है।
(B) राष्ट्रपति द्वारा माँगे जाने पर सर्वोच्च न्यायालय उन्हें परामर्श देने हेतु बाध्य है।
(C) राष्ट्रपति सर्वोच्च न्यायालय द्वारा दिये गये परामर्श को मानने हेतु बाध्य नहीं है।
(D) सर्वोच्च न्यायालय के परामर्श अनुसार सरकार प्रस्तावित विधेयक में आवश्यक संशोधन कर सकती है।

100. Electoral College for the election of the President of India consists of

- (A) only the elected members of Lok Sabha
(B) all members of Lok Sabha
(C) only the elected members of the Parliament of India and the Legislative Assemblies of the States.
(D) only the elected members of the Parliament of India and the Legislative Assemblies of the States and Union Territories of Delhi and Puducherry.

भारत के राष्ट्रपति के चुनाव के निर्वाचक मण्डल में शामिल है

- (A) केवल लोकसभा के निर्वाचित सदस्य
(B) लोकसभा के सभी सदस्य
(C) भारत की संसद तथा राज्यों की विधान-सभाओं के केवल निर्वाचित सदस्य
(D) भारत की संसद तथा राज्यों की विधान-सभाओं और दिल्ली और पुदुचेरी के संघ-शासित प्रदेशों के केवल निर्वाचित सदस्य

101. Longest river of Asia is

- (A) Hwang-Ho
(C) Mekong

एशिया की सबसे लम्बी नदी है

- (A) ह्वांग-हो

- (C) मेकांग

- (B) Yang-ti-si (Yangtze)
(D) Lena

- (B) यांग-ती-सी (यांगतजी)
(D) लीना

102. Kilimanjaro mountain lies in which country ?

- (A) Tanzania (B) Kenya
(C) Uganda (D) Rawanda



किलिमंजारो पर्वत किस देश में अवस्थित है ?

- (A) तंजानिया (B) केन्या
(C) युगांडा (D) रवांडा

103. The average temperature at stratopause is

- (A) 43 °C (B) - 50 °C
(C) 100 °C (D) 0 °C

समताप सीमा पर औसत तापमान रहता है

- (A) 43 °C (B) - 50 °C
(C) 100 °C (D) 0 °C

104. Basalt rock is an example of

- (A) Hypabyssal rock (B) Extrusive Igneous rock
(C) Plutonic rock (D) Metamorphic rock

बैसाल्ट शैल एक उदाहरण है

- (A) उपपातालीय शैल (B) बाह्य आग्नेय शैल
(C) पातालीय शैल (D) कायांतरित शैल

105. The average energy flow from one trophic level to another is

- (A) 15% (B) 5%
(C) 10% (D) 20%

एक पोषण स्तर से दूसरे पोषण स्तर तक औसत ऊर्जा का प्रवाह होता है

- (A) 15% (B) 5%
(C) 10% (D) 20%

106. Whose emissary was Magasthanese ?

- (A) Alexander (B) Bindusara
(C) Wilson I (D) Selucus

मैगस्थनीज किसका राजदूत था ?

- (A) सिकन्दर (B) बिन्दुसार
(C) विल्सन I (D) सेल्युकस

indiresult.in whatsapp - 9352018749

107. Who was not the Navaratna of Chandragupta II's court ?

- (A) Vañruchi (B) Varahmihir
(C) Dhanvantri (D) Fahiyān

कौन चन्द्रगुप्त द्वितीय की राजसभा में एक नवरत्न नहीं था ?

- (A) वररुचि (B) वराहमिहिर
(C) धनवन्तरि (D) फाह्यान



108. The name of Maharana Pratap's elephant was

- (A) Ram Prasad (B) Chetak
(C) Mardana (D) Veer Prasad

महाराणा प्रताप के हाथी का नाम था

- (A) रामप्रसाद (B) चेतक
(C) मरदाना (D) वीर प्रसाद

109. Social reformer Govind Guru was born in a

- (A) Pandit family (B) Farmer family
(C) Banjara family (D) Jamindar family

सामाजिक सुधारक गोविन्द गुरु का जन्म हुआ

- (A) पंडित परिवार में (B) किसान परिवार में
(C) बंजारा परिवार में (D) जमींदार परिवार में

110. Who wrote 'Chetawani Ra Chungatya' ?

- (A) Pratap Singh Barhath (B) Jorawar Singh Barhath
(C) Rao Gopal Singh (D) Kesari Singh Barhath

'चेतावनी रा चूंगट्या' किसने लिखें ?

- (A) प्रतापसिंह बारहठ (B) जोरावरसिंह बारहठ
(C) राव गोपालसिंह (D) केसरीसिंह बारहठ

111. Who arranged a scholarship for Veer Vinayak Damodar Sawarkar for his higher education in London ?

- (A) Shyamji Krishna Verma (B) Subhash Chandra Bose
(C) Ras Bihari Bose (D) Mohan Singh

लन्दन में वीर विनायक दामोदर सावरकर के लिए आगे अध्ययन हेतु छात्रवृत्ति की व्यवस्था किसने की थी ?

- (A) श्यामजी कृष्ण वर्मा (B) सुभाषचन्द्र बोस
(C) रासबिहारी बोस (D) मोहनसिंह

112. The capital of the Matsya Janpad was

- (A) Champa (B) Virat Nagar
(C) Kushinara (D) Gokulpura

मत्स्य जनपद की राजधानी थी indiresult.in whatsapp - 9352018749

- (A) चम्पा (B) विराटनगर
(C) कुशीनारा (D) गोकुलपुरा

113. 'Anand Temple' of Pegan Dynasty is located in

- (A) Pakistan (B) India
(C) Myanmar (D) China

पैगन वंश का आनन्द मंदिर यहाँ स्थित है

- (A) पाकिस्तान (B) भारत
(C) म्यांमार (D) चीन

114. Who won the battle of Tarain (1191 A.D.) ?

- (A) Arno Raj Chauhan (B) Mohammad Ghori
(C) Prithvi Raj Chauhan (D) Govind Raj Chauhan

तराईन का युद्ध (1191 ई.) किसने जीता ?

- (A) अर्णोराज चौहान (B) मुहम्मद गोरी
(C) पृथ्वीराज चौहान (D) गोविन्दराज चौहान

115. Which dance form of Rajasthan is included in intangible cultural heritage list of UNESCO in 2010 ?

- (A) Geendar (B) Kalbeliya
(C) Bhawai (D) Kachchi Ghodi

राजस्थान का कौन सा नृत्य रूप 2010 में यूनेस्को (UNESCO) की अमूर्त सांस्कृतिक धरोहर सूची में सम्मिलित किया गया है ?

- (A) गींदड़ (B) कालबेलिया
(C) भवाई (D) कच्छी घोड़ी

116. Who was the husband of Saint Meera Baai ?

- (A) Bhoj Raj (B) Ratan Singh
(C) Narpat Singh (D) Sangram Singh

संत मीराबाई के पति का नाम था

- (A) भोजराज (B) रतनसिंह
(C) नरपतसिंह (D) संग्रामसिंह

117. Painting School 'Bani-Thani' is related to

- (A) Satwant Prasad (B) Nagri Das
(C) Mrigawati (D) Shiv-Parvati

चित्रकला शैली 'बणी-ठणी' सम्बंधित है

- (A) सतवन्त प्रसाद (B) नागरीदास
(C) मृगावती (D) शिव-पार्वती

indiresult.in whatsapp - 9352018749

118. Who was related to Dadrewa village of Churu district ?

- (A) Pabuji (B) Gogaji
(C) Harbhuji (D) Devnarayanji

चुरू जिले के ददरेवा ग्राम से सम्बंधित हैं

- (A) पाबूजी (B) गोगाजी
(C) हरभूजी (D) देवनारायणजी

119. Who among the following sacrificed her life in Khejarali Movement ?

- (A) Padmini Devi
(C) Meena Devi
(B) Karma Devi
(D) Amrita Devi

खेजड़ली आंदोलन में अपने जीवन का बलिदान किसने किया ?

- (A) पद्मिनी देवी
(C) मीना देवी
(B) कर्मा देवी
(D) अमृता देवी



120. Who wrote 'Vande Mataram' in book 'Anand Math' ?

- (A) Bankim Chandra Chattarjee
(B) Vyomesh Chandra Banerjee
(C) Vipin Chandra Pal
(D) Ravindra Nath Tagore

पुस्तक 'आनंद मठ' में 'वन्दे मातरम्' किसने लिखा ?

- (A) बंकिमचंद्र चटर्जी
(C) विपिनचंद्र पाल
(B) व्योमेशचंद्र बनर्जी
(D) रवीन्द्रनाथ टैगोर

121. Which of the following place is not connected by National Highway No. 15 ?

- (A) Jaisalmer
(C) Hanumangarh
(B) Barmer
(D) Bikaner

निम्नलिखित में से कौन सा स्थान राष्ट्रीय राजमार्ग संख्या-15 द्वारा नहीं जुड़ा है ?

- (A) जैसलमेर
(C) हनुमानगढ़
(B) बाड़मेर
(D) बीकानेर

122. Which of the following is the largest man-made soft water lake in Rajasthan ?

- (A) Pichhola
(C) Fatehsagar
(B) Jaisamand
(D) Rajsamand

निम्नलिखित में से राजस्थान में मीठे पानी की सबसे बड़ी मानव निर्मित झील कौन सी है ?

- (A) पिछोला
(C) फतेहसागर
(B) जयसमंद
(D) राजसमंद

indiresult.in whatsapp - 9352018749

123. The devotees of Vishnu were known as

- (A) Nayanars
(C) Alwars
(B) Pashupatas
(D) Lingayats

विष्णु के भक्त कहलाते थे

- (A) नयनार
(C) अलवार
(B) पाशुपत
(D) लिंगायत

124. In which one of the following source mentioned the Sixteen Mahajanapadas in Ancient India is found ?

- (A) Anguttar Nikaya (B) Divyavadana
(C) Rigveda (D) Suttapitak

निम्नांकित में से किस स्रोत में प्राचीन भारत के सोलह महाजनपदों का उल्लेख है ?

- (A) अंगुत्तर निकाय (B) दिव्यावदान
(C) ऋग्वेद (D) सुत्तपिटक

125. The old name of the river Ravi was

- (A) Suvastu (B) Kubha
(C) Parushni (D) Dwashdwati

रावी नदी का प्राचीन नाम था

- (A) सुवास्तु (B) कुभा
(C) परुष्णी (D) द्वषद्वती

126. The capital of Shoorsen Janapada was

- (A) Mathura (B) Vrindavan
(C) Indraprastha (D) Kurukshetra

शूरसेन जनपद की राजधानी थी

- (A) मथुरा (B) वृन्दावन
(C) इन्द्रप्रस्थ (D) कुरुक्षेत्र

127. State 'Rajasthan' finally formed on

- (A) November 01, 1956 (B) May 15, 1949
(C) March 25, 1948 (D) January 26, 1950

राज्य 'राजस्थान' अपने परिपूर्ण रूप में इस तिथि को सामने आया

- (A) नवम्बर 01, 1956 (B) मई 15, 1949
(C) मार्च 25, 1948 (D) जनवरी 26, 1950

128. Social Studies is taught at

- (A) Secondary level (B) Senior Secondary level
(C) Graduation level (D) All of the above

सामाजिक अध्ययन का शिक्षण किया जाता है

- (A) माध्यमिक स्तर पर (B) उच्च माध्यमिक स्तर पर
(C) स्नातक स्तर पर (D) उपरोक्त सभी

indiresult.in whatsapp - 9352018749

129. Taxonomy of objectives in education is given by

- (A) John Dewey (B) Smith
(C) B.S. Bloom (D) I.K. Davis

शिक्षा में उद्देश्यों का वर्गीकरण दिया गया है

- (A) जॉन डेवी द्वारा (B) स्मिथ द्वारा
(C) बी.एस. ब्लूम द्वारा (D) आई. के. डेविस द्वारा

130. Area of curriculum includes
(A) Internal activities of a school (B) External activities of a school
(C) Both of them (D) None of them

- पाठ्यक्रम के क्षेत्र में शामिल है
(A) विद्यालय की आन्तरिक क्रियाएँ (B) विद्यालय की बाह्य क्रियाएँ
(C) उपरोक्त दोनों (D) उपरोक्त में से कोई नहीं

131. Social Studies text book should be according to
(A) the Author (B) the Student
(C) the Teacher (D) the Government

- सामाजिक अध्ययन की पाठ्यपुस्तक, अनुरूप होनी चाहिये
(A) लेखक के (B) विद्यार्थी के
(C) शिक्षक के (D) सरकार के

132. Social Studies teacher is telling the sequential process of election in classroom. She is using the technique of

- (A) Explanation (B) Narration
(C) Discussion (D) Questioning

सामाजिक अध्ययन की अध्यापिका कक्षा में चुनाव की क्रमिक प्रक्रिया बता रही है। वह जिस प्रविधि का प्रयोग कर रही है, वह है

- (A) व्याख्या (B) कथन
(C) परिचर्चा (D) प्रश्न पूछना

133. Social Studies teacher should give emphasis on
(A) giving information related to subject.
(B) developing thinking power of students towards social issues.
(C) preparing students for exams.
(D) language development of students.

- सामाजिक अध्ययन के शिक्षक को बल देना चाहिये
(A) विषय से संबंधित सूचना देने पर
(B) विद्यार्थियों की सामाजिक मुद्दों के प्रति चिन्तन शक्ति के विकास पर
(C) विद्यार्थियों को परीक्षा के लिए तैयार करने पर
(D) विद्यार्थियों के भाषा विकास पर

indiresult.in whatsapp - 9352018749

134. Visiting historical places is useful in Social Studies teaching for
(A) creating interest in subject.
(B) providing first hand information.
(C) better understanding of content.
(D) All of the above.

- सामाजिक अध्ययन शिक्षण में ऐतिहासिक स्थलों का भ्रमण उपयोगी है
(A) विषय के प्रति रुचि उत्पन्न करने में (B) प्रत्यक्ष सूचना प्रदान करने में
(C) विषयवस्तु की बेहतर समझ में (D) उपरोक्त सभी



135. Bloom's lesson plan is based on

- (A) Objectives (B) Content
(C) Presentation (D) All of the above

ब्लूम की पाठ योजना आधारित है

- (A) उद्देश्यों पर (B) विषयवस्तु पर
(C) प्रस्तुतिकरण पर (D) उपरोक्त सभी

136. The project is that purposeful work which is done with complete devotion in the social atmosphere. This statement is that of

- (A) Bloom (B) Crow and Crow
(C) John Dewey (D) Kilpatrick

प्रायोजना एक उद्देश्यपूर्ण कार्य है जो संलग्नता के साथ सामाजिक वातावरण में किया जाता है। यह कथन है

- (A) ब्लूम का (B) क्रो एण्ड क्रो का
(C) जॉन डेवी का (D) किलपैट्रिक का

137. In Social Studies which of the following test provides an opportunity to evaluate student's independent thinking ?

- (A) Objective type test (B) Essay type test
(C) Short answer type test (D) Very short answer type test

सामाजिक अध्ययन में निम्न में से कौन सी परीक्षा छात्रों के स्वतंत्र चिन्तन के मूल्यांकन का अवसर प्रदान करती है ?

- (A) वस्तुनिष्ठ प्रकार की परीक्षा (B) निबंधात्मक प्रकार की परीक्षा
(C) लघु-उत्तरात्मक प्रकार की परीक्षा (D) अति-लघूत्तरात्मक प्रकार की परीक्षा

138. Which of the following is a 'Rabi' Crop ?

- (A) Jute (B) Groundnut
(C) Mustard (D) Water-melon

निम्नलिखित में से कौन सी 'रबी' फसल है ?

- (A) जूट (B) मूंगफली
(C) सरसों (D) तरबूज

139. Sadia to Dhubri stretch of Brahmaputra river is connected by which of the following Inland National waterways ?

- (A) National Waterways No. 1 (B) National Waterways No. 2
(C) National Waterways No. 3 (D) National Waterways No. 4

निम्नलिखित में से किस आंतरिक राष्ट्रीय जलमार्ग के द्वारा ब्रह्मपुत्र नदी में 'सादिया' से 'धुबरी' को जोड़ा जाता है ?

- (A) राष्ट्रीय जलमार्ग संख्या-1 (B) राष्ट्रीय जलमार्ग संख्या-2
(C) राष्ट्रीय जलमार्ग संख्या-3 (D) राष्ट्रीय जलमार्ग संख्या-4

140. What was the male literacy rate in India as per 2011 Census ?

- (A) 82.14% (B) 65.46%
(C) 72.36% (D) 78.30%

2011 की जनगणना के अनुसार भारत में पुरुष साक्षरता दर कितनी थी ?

- (A) 82.14% (B) 65.46%
(C) 72.36% (D) 78.30%

141. The winter rainfall in India is the result of cyclones, which originates from

- (A) Arabian Sea
(B) Bay of Bengal
(C) Red Sea
(D) Mediterranean Sea

भारत में शीतकालीन वर्षा कहां से उत्पन्न होने वाले चक्रवातों का परिणाम है ?

- (A) अरब सागर
(B) बंगाल की खाड़ी
(C) लाल सागर
(D) भूमध्य सागर



142. The area in Indo-Gangetic plain where internal channels re-emerges is locally known as

- (A) Tarai Region
(B) Bhabar Region
(C) Bangar Region
(D) Cho

सिंधु-गंगा के मैदान में, जहाँ से आंतरिक प्रवाह पुनः प्रकट होती है, स्थानीय रूप से जानी जाती है

- (A) तराई प्रदेश
(B) भाबर प्रदेश
(C) बांगर प्रदेश
(D) चो

143. Which of the following energy resources is credited to trigger modern industrialization ?

- (A) Hydel Power
(B) Atomic Energy
(C) Coal
(D) Non-conventional energy

आधुनिक औद्योगिकरण के सूत्रपात का श्रेय निम्नलिखित में से किस ऊर्जा संसाधन को जाता है ?

- (A) जल विद्युत
(B) आणविक ऊर्जा
(C) कोयला
(D) गैर-परम्परागत ऊर्जा

144. Which of the following State of India has banned chemical fertilizer for sustainable agriculture ?

- (A) Sikkim
(B) Arunachal Pradesh
(C) Andhra Pradesh
(D) Goa

टिकाऊ (दीर्घकालीन सतत) कृषि हेतु निम्नलिखित में से भारत के किस राज्य ने रासायनिक उर्वरक के उपयोग को निषिद्ध कर दिया है ?

- (A) सिक्किम
(B) अरुणाचल प्रदेश
(C) आंध्र प्रदेश
(D) गोआ

indiresult.in whatsapp - 9352018749

145. Which of the following Iron and Steel Plant was established with the technical collaboration of Britain ?

- (A) Bokaro Steel Plant
(B) Durgapur Steel Plant
(C) Raurkela Steel Plant
(D) Vijaynagar Steel Plant

निम्नलिखित में से किस लोहा-इस्पात संयंत्र की स्थापना ब्रिटेन के तकनीकी सहयोग से हुई थी ?

- (A) बोकारो इस्पात संयंत्र
(B) दुर्गापुर इस्पात संयंत्र
(C) राउरकेला इस्पात संयंत्र
(D) विजयनगर इस्पात संयंत्र

146. Which of the following river is notorious for 'Badland' ?

- (A) Chambal (B) Krishna
(C) Godavari (D) Tungabhadra

निम्नलिखित में से कौन सी नदी 'उत्खात भूमि' (Badland) के लिए कुख्यात है ?

- (A) चम्बल (B) कृष्णा
(C) गोदावरी (D) तुंगभद्रा

147. The habitat of 'Yakut' tribe is

- (A) New Zealand (B) Congo Basin
(C) Amazon Basin (D) North Siberia

'याकूत' जनजाति का आवास (वास्य स्थान) है

- (A) न्यूजीलैंड (B) कॉन्गो बेसिन
(C) आमेजन बेसिन (D) उत्तरी साइबेरिया

148. Ghagghar Plain is situated in

- (A) Ganganagar and Hanumangarh Districts
(B) Jhunjhunu and Sikar Districts
(C) Jalore and Sirohi Districts
(D) Jaisalmer and Barmer Districts

घग्घर का मैदान अवस्थित है

- (A) गंगानगर और हनुमानगढ़ जिलों में (B) झुंझुनूं तथा सीकर जिलों में
(C) जालौर तथा सिरोही जिलों में (D) जैसलमेर तथा बाड़मेर जिलों में

149. The first textile mill of Rajasthan was established at

- (A) Ganganagar (B) Bhilwara
(C) Udaipur (D) Beawar

राजस्थान का प्रथम वस्त्र उद्योग स्थापित हुआ था

- (A) गंगानगर (B) भीलवाड़ा
(C) उदयपुर (D) ब्यावर

150. As per 2011 Census, which of the following district of Rajasthan recorded lowest decadal population growth rate ?

- (A) Ganganagar (B) Bundi
(C) Baran (D) Sikar

2011 की जनगणना के अनुसार, निम्नलिखित में से राजस्थान के किस जिले की दशकीय जनसंख्या वृद्धि दर न्यूनतम रही ?

- (A) गंगानगर (B) बूंदी
(C) बारान (D) सीकर