

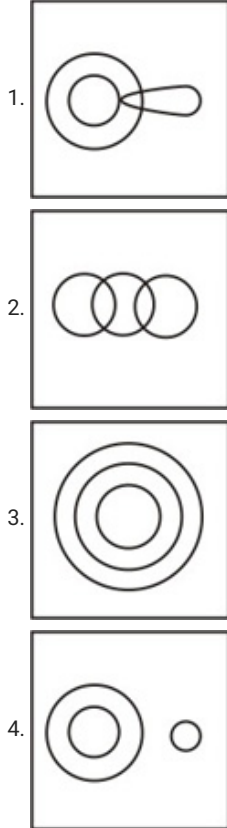


Participant ID:	21809022126
Participant Name:	SATVEER
Test Center Name:	iON Digital Zone iDZ Chandpura
Test Date:	13/09/2017
Test Time:	4:00 PM - 6:00 PM
Marks Obtained:	239.00

Section : तार्किक और मानसिक क्षमता

Q.1 निम्नलिखित में से कौनसा चित्र घेड़ों, स्तनप्राणियों, जानवरों के बीच संबंध दर्शाता है?

Ans



Note: For this question, discrepancy is found in question/answer. Full Marks is being awarded to all candidates.

Question ID : 6172497753

Status : Answered

Chosen Option : 1

Marks : 4.00

Q.2 एक मशीन को 10% लाभ पर बेचा गया। यदि उसको रूपये 80 कम पर बेचते तो 10% की हानि होती। मशीन का क्रय मूल्य क्या है

- Ans
- 1. 450 रूपये
 - 2. 400 रूपये
 - 3. 350 रूपये
 - 4. 520 रूपये

Question ID : 6172497693

Status : Answered

Chosen Option : 4

Marks : -1.00

Q.3 एक ठोस घन की सभी सतहों को हरे रंग से रंग दिया जाता है एवं इसके बाद इसे कट कर 64 बराबर माप वाले छोटे-छोटे घनों में परिवर्तित कर दिया गया है। ऐसे कितने घन हैं, जिनकी दो विपरीत सतहें हरे रंग से रंगी हुई हैं?

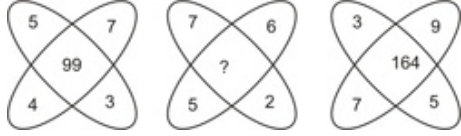
Question ID : 6172496913

Status : Answered

- Ans 1. 10
 2. 8
 3. 0
 4. 4

Chosen Option : 2
Marks : -1.00

Q.4 निम्न प्रश्न में दिए गए विकल्पों में से प्रश्नवाचक चिन्ह के स्थान पर आने वाली संख्या ज्ञात कीजिए।



- Ans 1. 420
 2. 100
 3. 114
 4. 210

Question ID : 6172497273
Status : Answered
Chosen Option : 3
Marks : 4.00

Q.5 निम्न में से असंगत को चुनिए ?

- Ans 1. भौतिकी (भौतिक विज्ञान)
 2. राजनीति विज्ञान
 3. इतिहास
 4. दर्शन (शास्त्र)

Question ID : 6172496298
Status : Answered
Chosen Option : 4
Marks : -1.00

Q.6 निम्न श्रृंखला में रिक्त स्थान () के स्थान पर क्या आएगा
_onpm _ npmo _ pmon _

- Ans 1. onpm
 2. pnom
 3. nmpo
 4. monp

Question ID : 6172496013
Status : Answered
Chosen Option : 4
Marks : 4.00

Q.7 नीचे दिए गए शब्दों में कौन-सा शब्द शब्दकोश के अनुसार पहले स्थान पर आएगा ?

- Ans 1. Banjo
 2. Bang
 3. Bank
 4. Bandy

Question ID : 6172496553
Status : Answered
Chosen Option : 4
Marks : 4.00

Q.8 20 आदमी 10 घण्टे प्रतिदिन काम करते हुए किसी काम को 56 दिन में करते हैं। 40 आदमी 8 घण्टे प्रतिदिन काम करते हुए उस काम को कितने दिन में करेंगे ?

- Ans 1. 48
 2. 35
 3. 25
 4. 30

Question ID : 6172497573
Status : Answered
Chosen Option : 3
Marks : -1.00

Q.9 A, B, C, D और E स्कूल हैं जिनका मुँह उत्तर की ओर है। A, E और B के बीच में हैं। E, D के दायीं ओर है। यदि C और D दो छोरों पर हों, तो C के बायीं ओर कौन-सा स्कूल है?

- Ans 1. D
 2. B
 3. A

Question ID : 6172496673
Status : Answered
Chosen Option : 2
Marks : 4.00

✗ 4. E


Q.10 निम्न में से वह आरेख चुनिए जो नीचे दिए गए वर्गों के बीच सम्बन्ध का सही निरूपण करता है।
देश के दुश्मन, आतंकवादी, तस्कर

Ans

✓ 1.



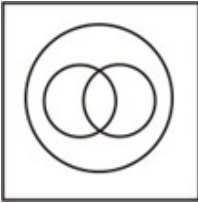
✗ 2.



✗ 3.



✗ 4.



Question ID : 6172497813

Status : Answered

Chosen Option : 3

Marks : -1.00

Q.11 यदि किसी सांकेतिक भाषा में "EXAMINATION" को "125" लिखा जाता है तो HARDWORK को उसी भाषा में कैसे लिखा जाएगा?

Ans ✓ 1. 98

✗ 2. 68

✗ 3. 86

✗ 4. 89

Question ID : 6172496418

Status : Answered

Chosen Option : 1

Marks : 4.00

Q.12 श्रेणी 5, 11, 17, 23, 31, ? में लुप्त संख्या '?' क्या है ?

Ans ✗ 1. 14

✗ 2. 26

✗ 3. 41

✓ 4. 37

Question ID : 6172495938

Status : Answered

Chosen Option : 4

Marks : 4.00

Q.13 नीचे दिए गए कथनों के अनुसार कौनसा निष्कर्ष तर्कसंगत निकाला जा सकता है।

कथन : सभी समाधान समस्याएं हैं।

सभी प्रश्न समाधान हैं।

निष्कर्ष : I. कोई भी प्रश्न समस्या नहीं है।

II. सभी प्रश्न समस्या हैं।

Ans 1. या तो निष्कर्ष I या निष्कर्ष II सत्य है

2. दोनों निष्कर्ष सही हैं

3. केवल निष्कर्ष I सत्य है

4. दोनों निष्कर्ष गलत हैं

Question ID : 6172498413

Status : Answered

Chosen Option : 4

Marks : 4.00

Note: For this question, discrepancy is found in question/answer. Full

Marks is being awarded to all candidates.

Q.14 14 छात्राओं और उनकी एक शिक्षिका की औसत आयु 15 वर्ष है। यदि शिक्षिका की आयु को हटा दिया जाए तो औसत में 1 अंक की कमी हो जाती है। शिक्षिका की आयु क्या है ?

- Ans
- 1. 32 वर्ष
 - 2. 27 वर्ष
 - 3. 29 वर्ष
 - 4. 30 वर्ष

Question ID : 6172497453

Status : Answered

Chosen Option : 3

Marks : 4.00

Q.15 एक परीक्षा में 1100 लड़कों और 900 लड़कियों ने भाग लिया। उनमें 50% लड़के और 40% लड़कियां परीक्षा में उतीर्ण हो गईं। तदनुसार अनुतीर्ण परीक्षार्थियों का प्रतिशत कितना रहा

- Ans
- 1. 45
 - 2. 54.5
 - 3. 45.5
 - 4. 50

Question ID : 6172497633

Status : Answered

Chosen Option : 2

Marks : -1.00

Q.16 दिए गए शब्द का का दर्पण प्रतिबिम्ब क्या होगा?

RADIANT

- Ans
- 1. **TNAIDAR**
 - 2. **TIANRAD**
 - 3. **TNAIDAR**
 - 4. **TRADIAN**

Question ID : 6172497933

Status : Answered

Chosen Option : 1

Marks : 4.00

Q.17 एक धावक 400 मीटर 8 मी^०/से^० की गति से दौड़ता है कितने समय में दौड़ पूरा करेगा?

- Ans
- 1. 40 सेकण्ड
 - 2. 60 सेकण्ड
 - 3. 50 सेकण्ड
 - 4. 30 सेकण्ड

Question ID : 6172497513

Status : Answered

Chosen Option : 3

Marks : 4.00

Q.18 2 और 3 बजे वह कौन-सा समय है जब घड़ी की दोनों सुइयां (मिनट और घण्टे की) एक-दूसरे से 180° का कोण बनाती हैं

- Ans
- 1. 2 बजकर 35 3/11 मिनट
 - 2. 2 बजकर 30 मिनट
 - 3. 2 बजकर 43 7/11 मिनट
 - 4. 2 बजकर 22 3/11 मिनट

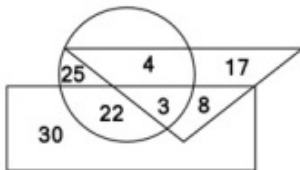
Question ID : 6172497033

Status : Answered

Chosen Option : 3

Marks : 4.00

Q.19 निम्नांकित आरेख में वृत्त खिलाड़ियों को, त्रिभुज डाक्टरों को और आयत कलाकारों को प्रदर्शित करता है तो कितने कलाकार खिलाड़ी भी हैं?



- Ans
- 1. 29
 - 2. 30
 - 3. 25

Question ID : 6172498233

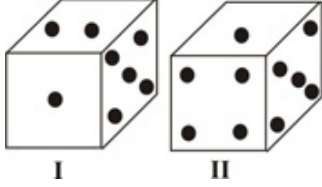
Status : Answered

Chosen Option : 3

Marks : 4.00

✗ 4.17

Q.20 नीचे एक ही पासे के दो प्रारूपों को दर्शाया गया है। इस पासे के नीचले फलक पर जब बिन्दुओं की संख्या 4 होगी, तो इसके ऊपरी फलक पर बिन्दुओं की संख्या कितनी होगी?



- Ans
- 1. 2
 - 2. 3
 - 3. 6
 - 4. 5

Question ID : 6172496973

Status : Answered

Chosen Option : 1

Marks : 4.00

Q.21 जिस प्रकार टाइपिस्ट का सम्बन्ध टाइपराइटर से है, उसी प्रकार लेखक का सम्बन्ध किससे है ?

- Ans
- 1. लिपि
 - 2. पुस्तक
 - 3. कागज
 - 4. पेन (लेखनी)

Question ID : 6172496178

Status : Answered

Chosen Option : 2

Marks : -1.00

Q.22 X और Y की आयु में 5:7 का अनुपात है। यदि उनकी वर्तमान आयु का योग 48 वर्ष है, तो उनकी आयु में कितना अन्तर है ?

- Ans
- 1. 7 वर्ष
 - 2. 6 वर्ष
 - 3. 9 वर्ष
 - 4. 8 वर्ष

Question ID : 6172498173

Status : Answered

Chosen Option : 4

Marks : 4.00

Q.23 किसी सांकेतिक भाषा में '134' का अर्थ, 'Good and tasty', '478' का अर्थ 'See good picture' और '729' का अर्थ 'Picture and faint' हो, तो इस सांकेतिक भाषा में 'see' के लिए कौन सी संख्या प्रयुक्त की गई है?

- Ans
- 1. 4
 - 2. 8
 - 3. 9
 - 4. 2

Question ID : 6172496417

Status : Answered

Chosen Option : 2

Marks : 4.00

Q.24 $(62)^3$ का मान ज्ञात करें ?

- Ans
- 1. 238324
 - 2. 238328
 - 3. 239328
 - 4. 228328

Question ID : 6172497333

Status : Answered

Chosen Option : 2

Marks : 4.00

Q.25 अमर समीर से लम्बा है, प्रभात उमेश से लम्बा है लेकिन इतना लम्बा नहीं जितना की समीर है। अशोक उमेश से नाटा है। बताएँ कि इनमें से सबसे नाटा कौन है?

- Ans
- 1. अशोक
 - 2. अमर
 - 3. समीर

Question ID : 6172496613

Status : Answered

Chosen Option : 1

Marks : 4.00

4. प्रभात

Q.26 निम्न श्रृंखला में प्रश्नवाचक चिन्ह (?) के स्थान पर क्या आएगा
BFG, HLM, NRS, ?

- Ans
- 1. RVW
 - 2. TWX
 - 3. TXY
 - 4. TYZ

Question ID : 6172496073

Status : Answered

Chosen Option : 3

Marks : 4.00

Q.27 दिए गए विकल्पों में से प्रश्न आकृति का जल प्रतिबिम्ब क्या होगा?



Ans

- 1.
- 2.
- 3.
- 4.

Question ID : 6172498053

Status : Answered

Chosen Option : 3

Marks : -1.00

Q.28 एक खुले मैदान में राकेश उत्तर दिशा की ओर 20 मी. चलता है बाएं मुड़ता है और 40 मी. चलता है, पुनः बाएं मुड़ता है और 50 मी. चलता है। वह शुरूआती बिन्दु से कितना दूर है ?

- Ans
- 1. 70 मी.
 - 2. 110 मी.
 - 3. 50 मी.
 - 4. 40 मी.

Question ID : 6172496793

Status : Answered

Chosen Option : 1

Marks : -1.00

Q.29 मैं अपने घर से उत्तर की ओर 15 मी. गया, पश्चिम की ओर मुड़ा और 10 मी. जाकर दक्षिण की ओर मुड़ा और 5 मी. चला। फिर मैं पूरब की ओर मुड़कर 10 मी. गया। अब मैं अपने घर से किस दिशा की ओर हूँ

- Ans
- 1. उत्तर

Question ID : 6172496733

Status : Answered

Chosen Option : 1

Marks : 4.00

- 2. पूर्व
- 3. पश्चिम
- 4. दक्षिण

Q.30 निम्न में से किस उत्तर आकृति द्वारा प्रश्न आकृति पूरी होगी?



Ans

- 1.
- 2.
- 3.
- 4.

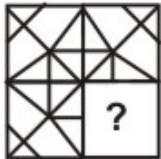
Question ID : 6172498533

Status : Answered

Chosen Option : 3

Marks : 4.00

Q.31 निम्न में से किस उत्तर आकृति द्वारा प्रश्न आकृति पूरी होगी?



Ans

- 1.
- 2.
- 3.
- 4.

Question ID : 6172498473

Status : Answered

Chosen Option : 2

Marks : -1.00

Q.32 राजीव, अरूण का भाई है। सोनिया, सुनील की बहन है। अरूण, सोनिया का पुत्र है। राजीव का सुनील के साथ क्या संबंध है

- 1. भाई
- 2. पुत्र
- 3. पिता

Question ID : 6172496833

Status : Answered

Chosen Option : 4

Marks : 4.00

4. भांजा

Q.33 श्रेणी 24, 49, ?, 108 में लुप्त संख्या '?' क्या है ?

- Ans
- 1. 95
 - 2. 77
 - 3. 63
 - 4. 51

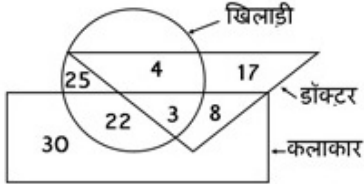
Question ID : 6172495937

Status : Answered

Chosen Option : 2

Marks : 4.00

Q.34 दिए गए आरेख में आयत से कलाकारों को, वृत्त से खिलाड़ियों को और त्रिभुज से डॉक्टरों के वर्ग को निरूपित किया गया है। तो ऐसे कितने खिलाड़ी हैं, जो न जो कलाकार हैं और न ही डॉक्टर है?



- Ans
- 1. 29
 - 2. 25
 - 3. 4
 - 4. 22

Question ID : 6172498293

Status : Answered

Chosen Option : 2

Marks : 4.00

Q.35 निम्नलिखित को तर्कसंगत क्रम में किस प्रकार व्यवस्थित किया जाएगा। 1. फसल 2. जड़ 3. तना 4. बीज 5. फूल

- Ans
- 1. 2, 3, 5, 1, 4
 - 2. 2, 4, 5, 1, 3
 - 3. 4, 2, 3, 5, 1
 - 4. 2, 3, 4, 1, 5

Question ID : 6172496493

Status : Answered

Chosen Option : 3

Marks : 4.00

Q.36 यदि \times का अर्थ $+$, \div का अर्थ \times , $+$ का अर्थ $-$ तथा $-$ का अर्थ \div हो, तो $24 + 36 - 12 \times 8 \div 4 = ?$

- Ans
- 1. 53
 - 2. -20
 - 3. 36
 - 4. 5

Question ID : 6172497153

Status : Answered

Chosen Option : 1

Marks : 4.00

Q.37 यदि अगस्त की 28 तारीख को रविवार हो, तो 22 दिन पहले सप्ताह का कौन-सा दिन था ?

- Ans
- 1. सोमवार
 - 2. बुधवार
 - 3. शनिवार
 - 4. मंगलवार

Question ID : 6172497093

Status : Answered

Chosen Option : 3

Marks : 4.00

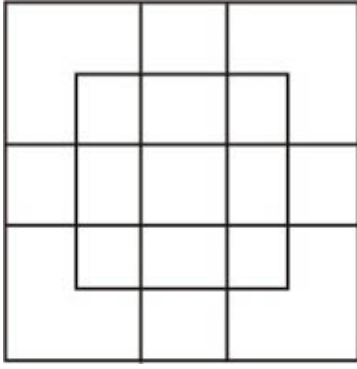
Q.38 नीचे दी गई आकृति में कितने वर्ग हैं?

Question ID : 6172497993

Status : Answered

Chosen Option : 2

Marks : 4.00



- Ans 1. 25
 2. 27
 3. 19
 4. 18

Q.39 जिस प्रकार पैमाना का सम्बन्ध लम्बाई से है, उसी प्रकार सिस्मोग्राफ का सम्बन्ध किससे है ?

- Ans 1. तापमान
 2. रूधिर दाब
 3. भूकम्प
 4. आर्द्रता

Question ID : 6172496177

Status : Answered

Chosen Option : 3

Marks : 4.00

Q.40 निम्न में से असंगत को चुनिए ?

- Ans 1. अप्रैल
 2. नवम्बर
 3. सितम्बर
 4. जनवरी

Question ID : 6172496297

Status : Answered

Chosen Option : 4

Marks : 4.00

Q.41 निम्न प्रश्न में दिए गए विकल्पों में से प्रश्नवाचक चिन्ह के स्थान पर आने वाली संख्या ज्ञात किजिए।

E	J	O
25	100	?

- Ans 1. 330
 2. 224
 3. 225
 4. 227

Question ID : 6172497213

Status : Answered

Chosen Option : 3

Marks : 4.00

Q.42 दिए गए विकल्पों में से निम्नलिखित अक्षर समूह का जल प्रतिबिम्ब कौनसा होगा ?

QUESTION

- Ans 1. **QUESTION**
 2. **QNEISUO**
 3. **NOITSEUQ**
 4. **QNEISUO**

Question ID : 6172498113

Status : Answered

Chosen Option : 4

Marks : 4.00

Q.43

रू 30,000 के लाभ को अ, ब और स के बीच में 3 : 5 : 7 के अनुपात में बांटा जाना है।
ब और स के राशि में कितने का अंतर होगा ?

- Ans
- 1. रू 10,000
 - 2. रू 4000
 - 3. रू 14,000
 - 4. रू 2000

Question ID : 6172497393

Status : Answered

Chosen Option : 2

Marks : 4.00

Q.44 नीचे दिए गए कथनों के अनुसार कौनसा निष्कर्ष तर्कसंगत निकाला जा सकता है।
कथन : कोई मैगजीन कैप नहीं है।
सभी कैप कैमरा है।
निष्कर्ष : I. कोई कैमरा मैगजीन नहीं है।
II. कुछ कैप मैगजीन है।

- Ans
- 1. दोनों निष्कर्ष सही है
 - 2. केवल निष्कर्ष I सही है
 - 3. केवल निष्कर्ष II सही है
 - 4. दोनों निष्कर्ष गलत है

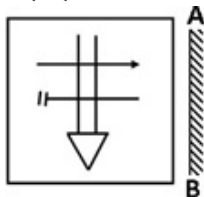
Question ID : 6172498353

Status : Answered

Chosen Option : 2

Marks : -1.00

Q.45 दिए गए विकल्पों में से प्रश्न आकृति का दर्पण प्रतिबिम्ब क्या होगा?



Ans

- 1.
- 2.
- 3.
- 4.

Question ID : 6172497873

Status : Answered

Chosen Option : 2

Marks : 4.00

Section : सामान्य ज्ञान सामान्य विज्ञान और सामयिकी

Q.1 कोशिका में डी एन ए (DNA) क्या है ?

- Ans
- 1. कार्बोक्सेलिक अम्ल
 - 2. वसीय अम्ल

Question ID : 61724910033

Status : Answered

Chosen Option : 1

✓ 3. न्यूक्लिक अम्ल

✗ 4. एमीनो अम्ल

Marks : -1.00

Q.2 दिल्ली को राष्ट्रीय राजधानी क्षेत्र का दर्जा संविधान के किस संशोधन के द्वारा दिया गया है ?

Ans ✓ 1. 69 वां संविधान संशोधन

✗ 2. 49 वां संविधान संशोधन

✗ 3. 39 वां संविधान संशोधन

✗ 4. 59 वां संविधान संशोधन

Question ID : 6172499785

Status : Answered

Chosen Option : 1

Marks : 4.00

Q.3 जालियांवाला बाग में गोली चलाने का आदेश किया था ?

Ans ✓ 1. जनरल डायर

✗ 2. रॉलेंट

✗ 3. लॉर्ड साइमन

✗ 4. कर्जन वायली

Question ID : 6172499717

Status : Answered

Chosen Option : 1

Marks : 4.00

Q.4 देश में तीसरी बार राष्ट्रीय आपातकाल की उद्घोषणा कब की गई ?

Ans ✗ 1. 3 दिसम्बर, 1971

✗ 2. 26 अगस्त, 1975

✗ 3. 27 मार्च, 1977

✓ 4. 25 जून, 1975

Question ID : 6172499787

Status : Answered

Chosen Option : 3

Marks : -1.00

Q.5 किस सिक्ख गुरु की मृत्यु के लिए औरंगजेब जिम्मेदार है ?

Ans ✗ 1. गुरू रामदास

✗ 2. गुरू अंगददेव

✗ 3. गुरू गोविन्द सिंह

✓ 4. गुरू तेग बहादुर

Question ID : 6172499613

Status : Answered

Chosen Option : 4

Marks : 4.00

Q.6 वर्णांधता वाले व्यक्ति को लाल रंग दिखायी देगा ?

Ans ✓ 1. हरा

✗ 2. बैंगनी

✗ 3. नीला

✗ 4. पीला

Question ID : 6172499117

Status : Answered

Chosen Option : 1

Marks : 4.00

Q.7 निम्न में से कौनसा संग्रहण इकाई नहीं है ?

Ans ✗ 1. हार्ड डिस्क

✗ 2. कॉम्पैक्ट डिस्क

✗ 3. फ्लॉपी डिस्क

✓ 4. मॉनीटर

Question ID : 6172499193

Status : Answered

Chosen Option : 4

Marks : 4.00

Q.8 मेक इन इंडिया की शुरुआत कब की गई ?

Ans 1. 30 सितम्बर 2015

2. 28 सितम्बर 2014

3. 30 सितम्बर 2014

4. 28 सितम्बर 2015

Question ID : 6172498770

Status : Not Answered

Chosen Option : --

Marks : 4.00

Note: For this question, discrepancy is found in question/answer. Full Marks is being awarded to all candidates.

Q.9 उदासीन घोल का pH मान होता है ?

- Ans
- 1. 7 से अधिक
 - 2. 14
 - 3. 7
 - 4. 7 से कम

Question ID : 6172498997

Status : Not Answered

Chosen Option : --

Marks : 0.00

Q.10 केन्द्रीय मंजीमण्डल ने हाल ही में राष्ट्रीय इस्पात नीति 2017 को मंजूरी दे दी, इसके तहत कब तक 30 करोड टन इस्पात निर्माण का लक्ष्य रखा गया है ?

- Ans
- 1. 2025
 - 2. 2030
 - 3. 2020
 - 4. 2040

Question ID : 6172498771

Status : Not Answered

Chosen Option : --

Marks : 0.00

Q.11 किस रोग से ग्रसित बच्चों के लिए केन्द्र सरकार ने स्ट्रॉबेरी और संतरे के स्वाद वाली गोली पेश की है ?

- Ans
- 1. सूखा
 - 2. टीबी
 - 3. एनिमिया
 - 4. मलेरिया

Question ID : 6172498769

Status : Answered

Chosen Option : 4

Marks : -1.00

Q.12 विश्व में सबसे ऊंचा ज्वार-भाटा कहां आता है ?

- Ans
- 1. खम्भात की खाड़ी
 - 2. कच्छ की खाड़ी
 - 3. फंडी की खाड़ी
 - 4. उत्तरी सागर

Question ID : 6172499493

Status : Not Answered

Chosen Option : --

Marks : 0.00

Q.13 दूसरी बार राष्ट्रीय आपातकाल की उद्घोषणा के समय देश के राष्ट्रपति थे ?

- Ans
- 1. डॉ. जाकिर हुसैन
 - 2. फखरुद्दीन अली अहमद
 - 3. वी.वी. गिरि
 - 4. डॉ. एस. राधाकृष्णन

Question ID : 6172499786

Status : Answered

Chosen Option : 2

Marks : -1.00

Q.14 देश में दूसरी बार राष्ट्रीय आपातकाल की उद्घोषणा कब की गई ?

- Ans
- 1. 14 दिसम्बर, 1966
 - 2. 25 जून, 1975
 - 3. 9 अगस्त, 1969
 - 4. 3 दिसम्बर, 1971

Question ID : 6172499788

Status : Answered

Chosen Option : 4

Marks : 4.00

Q.15 निम्न में से भारत की सुदूर दक्षिण भौगोलिक इकाई कौन-सी है ?

- Ans
- 1. निकोबार द्वीप समूह
 - 2. रामेश्वरम
 - 3. लक्षद्वीप
 - 4. कन्याकुमारी

Question ID : 6172499388

Status : Answered

Chosen Option : 1

Marks : 4.00

Q.16 हास्य-गैस का रासायनिक नाम है ?

- Ans 1. नाइट्रस ऑक्साइड
 2. हाइड्रोजन क्लोराइड
 3. नाइट्रीक ऑक्साइड
 4. सल्फर डाइऑक्साइड

Question ID : 6172498998

Status : Answered

Chosen Option : 1

Marks : 4.00

Q.17 निम्न में से कौन-सा एक भारतीय राज्य तीन राष्ट्रों की अन्तर्राष्ट्रीय सीमाओं से लगा है ?

- Ans 1. हिमाचल प्रदेश
 2. असम
 3. उत्तराखंड
 4. अरुणाचल प्रदेश

Question ID : 6172499386

Status : Answered

Chosen Option : 2

Marks : -1.00

Q.18 आनुवंशिकता के जनक कहे जाते हैं ?

- Ans 1. खुराना
 2. डार्विन
 3. लैमार्क
 4. मेंडल

Question ID : 6172499118

Status : Answered

Chosen Option : 4

Marks : 4.00

Q.19 अर्थशास्त्र का लेखक समकालीन था ?

- Ans 1. चन्द्रगुप्त का
 2. समुद्रगुप्त का
 3. चन्द्रगुप्त विक्रमादित्य का
 4. अशोक का

Question ID : 6172499553

Status : Answered

Chosen Option : 1

Marks : 4.00

Q.20 भारत के उतरी मैदान में किस मिट्टी का विस्तार अधिकतम है ?

- Ans 1. काली मिट्टी
 2. लैटेराइट मिट्टी
 3. लाल मिट्टी
 4. जलोढ मिट्टी

Question ID : 6172499385

Status : Answered

Chosen Option : 2

Marks : -1.00

Q.21 भारत में रेलगाड़ी सर्वप्रथम कब चलाई गई ?

- Ans 1. 1853 ई.
 2. 1856 ई.
 3. 1854 ई.
 4. 1861 ई.

Question ID : 6172499387

Status : Answered

Chosen Option : 3

Marks : -1.00

Q.22 संयुक्त राष्ट्र संघ के महासचिव का कार्यकाल कितने वर्ष का होता है ?

- Ans 1. 5 वर्ष
 2. 3 वर्ष
 3. 4 वर्ष
 4. 6 वर्ष

Question ID : 6172498772

Status : Answered

Chosen Option : 1

Marks : 4.00

Q.23 वर्षा की छोटी-छोटी बूंदें गोल होती हैं ?

- Ans 1. वाष्पन के कारण

Question ID : 6172498893

Status : Answered

2. पृष्ठ तनाव के कारण
 3. उर्ध्वपातन के कारण
 4. श्यानता के कारण

Chosen Option : 2
Marks : 4.00

Q.24 भारत ने किस देश को आतंकी संगठन "इस्लामिक स्टेट" से संघर्ष के लिए 3 करोड़ रुपयों की सहायता प्रदान की है ?

- Ans 1. फिलीपींस
 2. मलेशिया
 3. सीरिया
 4. इराक

Question ID : 6172498773
Status : Not Answered
Chosen Option : --
Marks : 0.00

Q.25 भारत में सिविल सेवाओं का सूत्रपात किसने किया ?

- Ans 1. लॉर्ड कर्जन
 2. लॉर्ड वेलेस्ली
 3. लॉर्ड डलहौजी
 4. लॉर्ड कार्नवालिस

Question ID : 6172499718
Status : Answered
Chosen Option : 4
Marks : 4.00

Section : राजस्थान इतिहास संस्कृति कला और भूगोल

Q.1 किस मेले को सहरियों का महातीर्थ कुंभ कहा जाता है ?

- Ans 1. बेणेश्वर
 2. सीताबाड़ी
 3. सालासर
 4. कपिल धारा

Question ID : 61724910392
Status : Answered
Chosen Option : 2
Marks : 4.00

Q.2 राजस्थान में प्रथम सूती वस्त्र मिल किस शहर में स्थापित की गई ?

- Ans 1. ब्यावर
 2. भीलवाड़ा
 3. किशनगढ़
 4. अजमेर

Question ID : 61724911027
Status : Answered
Chosen Option : 1
Marks : 4.00

Q.3 राजस्थान साहित्य अकादमी, उदयपुर द्वारा प्रकाशित मासिक पत्रिका कौनसी है ?

- Ans 1. जागती जोत
 2. मधुमति
 3. रिहाण
 4. सुजस

Question ID : 61724911023
Status : Answered
Chosen Option : 1
Marks : -1.00

Q.4 मौर्य सभ्यता के प्रमाण निम्न में से किस स्थान पर उपलब्ध है ?

- Ans 1. बैराठ
 2. पीपाड़
 3. दूनाड़ा
 4. आहड़

Question ID : 61724910656
Status : Answered
Chosen Option : 4
Marks : -1.00

Q.5 राज्य में किस स्थान पर काला संगमरमर निकाला जाता है ?

- Ans 1. भैंसलाना (जयपुर)
 2. देबारी (उदयपुर)

Question ID : 61724911270
Status : Answered
Chosen Option : 1

3. बेणेश्वर (डूंगरपुर)

Marks : 4.00

4. फलौदी (जोधपुर)

Q.6 राजस्थान में झामर कोटड़ा क्षेत्र निम्न में से किस खनिज से संबंधित है ?

Ans 1. सीसा एवं जस्ता

2. मैंगनीज

3. चांदी

4. रॉक फास्फेट

Question ID : 61724911269

Status : Answered

Chosen Option : 2

Marks : -1.00

Q.7 1931 में राजस्थान में सर्वप्रथम प्रजामण्डल की स्थापना कर्पूरचन्द पाटनी के नेतृत्व में कहाँ हुई ?

Ans 1. जोधपुर

2. जयपुर

3. बीकानेर

4. भरतपुर

Question ID : 61724910658

Status : Answered

Chosen Option : 2

Marks : 4.00

Q.8 महिला और बाल विकास संकुल का निर्माण राजस्थान के किस जिले में किया जाएगा ?

Ans 1. अजमेर

2. जयपुर

3. सिरोही

4. जोधपुर

Question ID : 61724911400

Status : Answered

Chosen Option : 3

Marks : -1.00

Q.9 उदयपुर में आहड़ की छतरियां किस वंश के राज परिवार से संबंधित है ?

Ans 1. कछवाहा

2. चौहान

3. राठौड

4. सिसोदिया

Question ID : 61724910182

Status : Answered

Chosen Option : 4

Marks : 4.00

Q.10 प्रसिद्ध राजस्थानी कविता पाथल और पीथल के रचयिता थे ?

Ans 1. चन्द्र प्रकाश देवल

2. कन्हैयालाल सहल

3. केसरीसिंह बारहठ

4. कन्हैयालाल सेठिया

Question ID : 61724910393

Status : Answered

Chosen Option : 4

Marks : 4.00

Q.11 गंगानगर को किसने बसाया ?

Ans 1. गंगासिंह

2. बीकासिंह

3. सूरतसिंह

4. फतेहसिंह

Question ID : 61724911664

Status : Answered

Chosen Option : 1

Marks : 4.00

Q.12 राजस्थान संघ का निर्माण 25 मार्च 1948 को हुआ। इसमें राजप्रमुख किसे बनाया गया ?

Ans 1. धौलपुर के महाराजा

2. महाराव कोटा

3. करौली के महाराजा

Question ID : 61724910657

Status : Answered

Chosen Option : 2

Marks : 4.00

✗ 4. सिरोही महाराजा

Q.13 14 वीं विधानसभा में महिला विधायकों की संख्या कितनी है ?

- Ans 1. 27
 2. 28
 3. 26
 4. 25

Question ID : 61724911022

Status : Answered

Chosen Option : 2

Marks : -1.00

Q.14 अष्ट छाप कवि मंडली का संगठन किया ?

- Ans 1. विठ्ठलनाथ ने
 2. गोविन्द जी ने
 3. रामानन्द ने
 4. रामानुजाचार्य ने

Question ID : 61724910391

Status : Answered

Chosen Option : 3

Marks : -1.00

Q.15 राजस्थान की प्रथम विधानसभा का गठन कब हुआ था ?

- Ans 1. 26 जनवरी, 1952
 2. 26 जनवरी, 1950
 3. 29 फरवरी, 1952
 4. 15 जनवरी, 1951

Question ID : 61724911025

Status : Answered

Chosen Option : 3

Marks : 4.00

Q.16 ताम्र नगरी सभ्यता कहलाती है ?

- Ans 1. बागोर
 2. आहड़
 3. पीलीबंगा
 4. कालीबंगा

Question ID : 61724910655

Status : Answered

Chosen Option : 2

Marks : 4.00

Q.17 नसीराबाद में विद्रोह करने वाली बटालियन थी ?

- Ans 1. 15 वीं बंगाल नेटिव इन्फेण्ट्री
 2. मेरवाड़ा बटालियन
 3. 30 वीं बंगाल नेटिव इन्फेण्ट्री
 4. बाम्बेलासर्स

Question ID : 61724910654

Status : Answered

Chosen Option : 3

Marks : -1.00

Q.18 रेगिस्तान का जलमहल किसे कहा जाता है ?

- Ans 1. बाटाडू का कुआं बाड़मेर
 2. महिला बाग झालरा जोधपुर
 3. रानी जी की बावड़ी
 4. सरड़ा पानी की बावड़ी

Question ID : 61724910183

Status : Answered

Chosen Option : 1

Marks : 4.00

Q.19 तेरहताली नृत्य किया जाता है ?

- Ans 1. रामदेवजी के मेले पर
 2. तेजाजी के मेले पर
 3. पाबूजी के मेले पर
 4. भैरूजी के मेले पर

Question ID : 61724910390

Status : Answered

Chosen Option : 1

Marks : 4.00

Q.20 राजस्थान की पहली औद्योगिक नीति किस वर्ष में अपनाई गई ?

Ans

Question ID : 61724911024

1. 1979
 2. 1981
 3. 1980
 4. 1978

Status : Answered
Chosen Option : 4
Marks : 4.00

Q.21 राजस्थान के प्रसिद्ध कवि एवं क्रान्तिकारी केसरीसिंह बारहठ की जन्म भूमि है ?

- Ans 1. शाहपुरा
 2. रावतभाटा
 3. कपासन
 4. बेगू

Question ID : 61724911510
Status : Answered
Chosen Option : 1
Marks : 4.00

Q.22 सेवन घास कहां पैदा होती है ?

- Ans 1. जैसलमेर
 2. जोधपुर
 3. जयपुर
 4. कोटा

Question ID : 61724911271
Status : Answered
Chosen Option : 1
Marks : 4.00

Q.23 विधायक स्थानीय क्षेत्र विकास कार्यक्रम योजनान्तर्गत प्रत्येक विधायक को प्रतिवर्ष कितनी राशि विकास कार्य हेतु आवंटित की जाती है ?

- Ans 1. 150.00 लाख
 2. 200.00 लाख
 3. 225.00 लाख
 4. 500.00 लाख

Question ID : 61724911401
Status : Answered
Chosen Option : 1
Marks : -1.00

Q.24 विधानसभा के प्रश्नकाल के दौरान उस प्रश्न को क्या कहा जाता है जिसका मौखिक उत्तर सदस्य सदन में चाहता है ?

- Ans 1. विशेष प्रश्न
 2. अल्प सूचना प्रश्न
 3. अतारंकित प्रश्न
 4. तारंकित प्रश्न

Question ID : 61724911028
Status : Answered
Chosen Option : 3
Marks : -1.00

Q.25 आदिवासियों में लीला मोरिया संस्कार किससे संबंधित है ?

- Ans 1. कन्यादान से
 2. विवाह से
 3. जन्म से
 4. मृत्यु से

Question ID : 61724911511
Status : Answered
Chosen Option : 2
Marks : 4.00

Q.26 वर्तमान मुख्यमंत्री श्रीमती वसुन्धरा राजे को 24 वें मुख्यमंत्री के रूप में शपथ किसने दिलवाई ?

- Ans 1. राज्यपाल शिवराज पाटिल
 2. राज्यपाल कल्याण सिंह
 3. राज्यपाल मारग्रेट अल्वा
 4. राज्यपाल राम नाईक

Question ID : 61724911026
Status : Answered
Chosen Option : 2
Marks : -1.00

Q.27 प्रतापगढ़ जिले की स्थापना किन जिलों के क्षेत्रों को मिलाकर की गई ?

- Ans 1. उदयपुर, बाड़मेर व डूंगरपुर

Question ID : 61724911665
Status : Answered

2. उदयपुर व पाली

3. चित्तौड़गढ़, बांसवाड़ा व उदयपुर

4. उदयपुर, सिरोही व पाली

Chosen Option : 3

Marks : 4.00

Q.28 मांगीबाई एवं लक्ष्मणदास काड़ किस नृत्य के प्रमुख नृत्यकार है ?

Ans 1. भवाई नृत्य

2. वालर नृत्य

3. कच्छी घोड़ी

4. तेरहताली नृत्य

Question ID : 61724910181

Status : Answered

Chosen Option : 1

Marks : -1.00

Q.29 भारत में एकमात्र टंगस्टन की खानें स्थित है ?

Ans 1. पालना में

2. डेगाना, नागौर में

3. भीलवाड़ा में

4. खेतड़ी में

Question ID : 61724911268

Status : Answered

Chosen Option : 2

Marks : 4.00

Q.30 निम्न में से कौनसा जिला मध्यप्रदेश के साथ अन्तर्राजकीय सीमा साझा नहीं करता है?

Ans 1. करौली

2. सर्वाई माधोपुर

3. कोटा

4. चित्तौड़गढ़

Note: For this question, discrepancy is found in question/answer. Full Marks is being awarded to all candidates.

Question ID : 61724911666

Status : Answered

Chosen Option : 3

Marks : 4.00