



Participant ID:	21521000177
Participant Name:	SHAIENDRA SINGH RATHORE
Test Center Name:	Arya College of Engineering and Information Technology
Test Date:	04/09/2017
Test Time:	12:30 PM - 2:30 PM
Marks Obtained:	122.00

Section : तार्किक और मानसिक क्षमता

Q.1 A और B भाई हैं। E पुत्री है F की। F पत्नी है B की, तो E का A से क्या सम्बन्ध है ?

- Ans
- 1. बहन
 - 2. भतीजी
 - 3. भाभी
 - 4. पुत्री

Question ID : 6172496814

Status : Answered

Chosen Option : 2

Marks : 4.00

Q.2 यदि P प्रदर्शित करता है ÷ को, + को R द्वारा प्रदर्शित किया जाता है, - को T द्वारा तथा × को W द्वारा प्रदर्शित किया जाता है, तो
24 R 16 P 8 W 6 T 9 = ?

- Ans
- 1. 21
 - 2. 27
 - 3. 15
 - 4. 147

Question ID : 6172497134

Status : Answered

Chosen Option : 2

Marks : 4.00

Q.3 12 व्यक्ति किसी काम को 10 दिनों में कर सकते हैं। उस काम को 8 दिनों में करने के लिए कितने व्यक्तियों की आवश्यकता होगी ?

- Ans
- 1. 15
 - 2. 14
 - 3. 16
 - 4. 18

Question ID : 6172497554

Status : Answered

Chosen Option : 1

Marks : 4.00

Q.4 49 लड़कों की एक पंक्ति में बायें छोर से सुभाष 27वाँ है, तथा दायें छोर से नरेश 27वाँ है तो बताओ दोनों के बीच कितने लड़के हैं?

- Ans
- 1. 4
 - 2. 5
 - 3. 6
 - 4. 3

Question ID : 6172496594

Status : Answered

Chosen Option : 4

Marks : 4.00

Q.5 निम्न में से किस उत्तर आकृति द्वारा प्रश्न आकृति पूरी होगी?

Question ID : 6172498454

Status : Not Answered

Chosen Option : --

Marks : 0.00



Ans

1.



2.



3.



4.



Q.6 निम्न में से किस उत्तर आकृति द्वारा प्रश्न आकृति पूरी होगी?



Ans

1.



2.



3.



4.



Question ID : 6172498514

Status : Answered

Chosen Option : 1

Marks : -1.00

Q.7 3 सेमी भुजा वाले किसी घन को 1 सेमी भुजा वाले छोटे घनों में विभाजित किया जाता है, तो कुल मध्य घनों की संख्या कितनी होगी?

Ans

1. 6

2. 24

3. 12

4. 18

Question ID : 6172496894

Status : Not Answered

Chosen Option : --

Marks : 0.00

Q.8 नीचे दिए गए शब्दों में कौन-सा शब्द शब्दकोश के अनुसार पहले स्थान पर आएगा ?

Ans

1. Amid

2. Amen

3. Among

4. Amount

Question ID : 6172496534

Status : Answered

Chosen Option : 2

Marks : 4.00

Q.9 यदि किसी सांकेतिक भाषा में "MASTER" को "632145" लिखा जाता है तो "TEARS" को उसी भाषा में कैसे लिखा जाएगा?

- Ans 1. 35214
 2. 25314
 3. 14352
 4. 52413

Question ID : 6172496379

Status : Answered

Chosen Option : 3

Marks : 4.00

Q.10 ₹. 3600 के कुल लाभ को क, ख और ग में इस अनुपात में वितरित किया जाना है क : ख = 5 : 4 और ख : ग = 8 : 9, लाभ में ग का हिस्सा क्या होगा ?

- Ans 1. ₹. 1200
 2. ₹. 1650
 3. ₹. 1500
 4. ₹. 1700

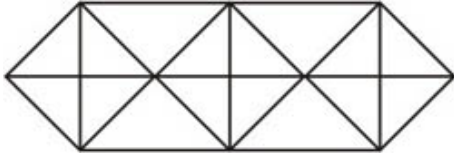
Question ID : 6172497374

Status : Answered

Chosen Option : 1

Marks : 4.00

Q.11 नीचे दी गई आकृति में कितने त्रिभुज हैं?



- Ans 1. 14
 2. 24
 3. 28
 4. 20

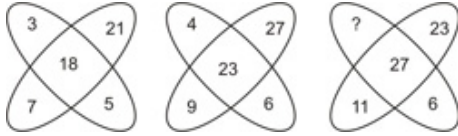
Question ID : 6172497974

Status : Answered

Chosen Option : 3

Marks : 4.00

Q.12 निम्न प्रश्न में दिए गए विकल्पों में से प्रश्नवाचक चिन्ह के स्थान पर आने वाली संख्या ज्ञात कीजिए।



- Ans 1. 14
 2. 10
 3. 18
 4. 13

Question ID : 6172497254

Status : Not Answered

Chosen Option : --

Marks : 0.00

Q.13 आपका मुख दक्षिण-पश्चिम दिशा में है। यदि आप 135° दाईं ओर मुड़ जाएं, तो आपकी दिशा क्या होगी

- Ans 1. दक्षिण-पूर्व
 2. उत्तर-पूर्व
 3. उत्तर
 4. पूर्व

Question ID : 6172496714

Status : Answered

Chosen Option : 3

Marks : 4.00

Q.14 यदि A की आय B की आय से 50 % कम है तो B की आय A की आय से कितने प्रतिशत अधिक है

- Ans 1. 75
 2. 50
 3. 100
 4. 125

Question ID : 6172497614

Status : Answered

Chosen Option : 2

Marks : -1.00

Q.15 जिस प्रकार राजा का सम्बन्ध सिंहासन से है, उसी प्रकार सवार का सम्बन्ध किससे है ?

- Ans 1. सीट/पीठिका
 2. घोडा
 3. कुर्सी
 4. काठी

Question ID : 6172496139

Status : Answered

Chosen Option : 2

Marks : -1.00

Q.16 जिस प्रकार हृदय का सम्बन्ध कार्डियोलॉजिस्ट से है, उसी प्रकार वृक्क का सम्बन्ध किससे है ?

- Ans 1. ऑर्थोडाण्टिस्ट
 2. नेफ्रोलोजिस्ट
 3. अन्तःसाव विज्ञानी
 4. तन्त्रिका विज्ञानी

Question ID : 6172496140

Status : Answered

Chosen Option : 3

Marks : -1.00

Q.17 निम्नलिखित शब्दों को शब्दकोश के अनुसार व्यवस्थित किजिए। 1.Mask 2. Mate 3. Meal 4. Mart 5. Mash

- Ans 1. 1, 2, 3, 5, 4
 2. 4, 5, 3, 2, 1
 3. 4, 5, 1, 2, 3
 4. 3, 4, 5, 2, 1

Question ID : 6172496474

Status : Not Answered

Chosen Option : --

Marks : 0.00

Q.18 निम्न श्रृंखला में प्रश्नवाचक चिन्ह (?) के स्थान पर क्या आएगा DIB, HMF, LQJ, ?

- Ans 1. QVO
 2. PVO
 3. PUN
 4. QTM

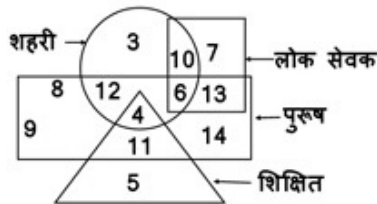
Question ID : 6172496054

Status : Not Answered

Chosen Option : --

Marks : 0.00

Q.19 निम्नांकित आरेख में पुरुषों को आयत से, शिक्षितों को त्रिभुज से, शहरी को वृत्त से और लोक सेवक को वर्ग से निरूपित किया गया है। इनमें से ऐसे व्यक्तियों की संख्या कितनी है, जोकि केवल लोक सेवक हैं लेकिन पुरुष नहीं हैं और न ही शहरी तथा न ही शिक्षित हैं?



- Ans 1. 9
 2. 8
 3. 7
 4. 10

Question ID : 6172498274

Status : Not Answered

Chosen Option : --

Marks : 0.00

Q.20 एक सेल में सभी वस्तुओं पर 15% डिस्काउंट दिया जा रहा था। विनीत ने एक वस्तु रूपये 4,284 में सेल में खरीदी। उस वस्तु की वास्तविक विक्रय कीमत क्या थी

- Ans 1. 5,050 रूपये
 2. 5040 रूपये
 3. 5,000 रूपये

Question ID : 6172497674

Status : Not Answered

Chosen Option : --

Marks : 0.00

✗ 4. 5,140 रूपये

Q.21 निम्न में से असंगत को चुनिए ?

- Ans
- ✗ 1. गौरवपूर्ण
 - ✓ 2. असहमत
 - ✗ 3. समर्पित
 - ✗ 4. परिश्रमी

Question ID : 6172496259

Status : Answered

Chosen Option : 2

Marks : 4.00

Q.22 यदि किसी सांकेतिक भाषा में "HIGH" को "8978" लिखा जाता है तो BEEF को उसी भाषा में कैसे लिखा जाएगा?

- Ans
- ✗ 1. 6252
 - ✗ 2. 5562
 - ✓ 3. 2556
 - ✗ 4. 5256

Question ID : 6172496380

Status : Answered

Chosen Option : 3

Marks : 4.00

Q.23 निम्न श्रृंखला में प्रश्नवाचक चिन्ह (?) के स्थान पर क्या आएगा
CEG, IKM, OQS, ?

- Ans
- ✗ 1. TUV
 - ✗ 2. TVX
 - ✗ 3. VXZ
 - ✓ 4. UWY

Question ID : 6172495994

Status : Not Answered

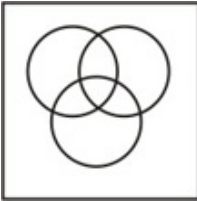
Chosen Option : --

Marks : 0.00

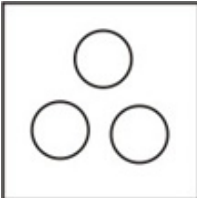
Q.24 निम्न लिखित में से कौन सा आरेख शिक्षक, शिक्षित, नौकरी-पेशा के बीच सम्बन्ध को सही रूप से दर्शाता है?

Ans

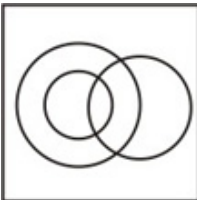
✗ 1.



✗ 2.



✓ 3.



✗ 4.



Question ID : 6172497734

Status : Answered

Chosen Option : 1

Marks : -1.00

Q.25 दिए गए विकल्पों में से प्रश्न आकृति का जल प्रतिबिम्ब क्या होगा?

Question ID : 6172498034

Status : Not Answered

Chosen Option : --

Marks : 0.00



Ans

✗ 1.



✗ 2.



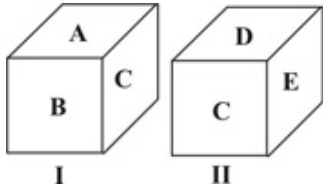
✗ 3.



✓ 4.



Q.26 नीचे एक ही पासे के दो प्रारूपों को दर्शाया गया है। इस पासे में अक्षर A के विपरीत फलक पर कौन-सा अक्षर होगा?



Ans

✗ 1. D

✗ 2. C

✓ 3. E

✗ 4. B

Question ID : 6172496954

Status : Not Answered

Chosen Option : --

Marks : 0.00

Q.27 X और Y की आयु के बीच का क्रमशः अनुपात 9:13 है। 8 वर्ष पूर्व उनकी आयु के बीच अनुपात क्रमशः 7 : 11 था। X की वर्तमान आयु कितनी है ?

Ans

✗ 1. 52 वर्ष

✗ 2. 43 वर्ष

✓ 3. 36 वर्ष

✗ 4. 49 वर्ष

Question ID : 6172498154

Status : Not Answered

Chosen Option : --

Marks : 0.00

Q.28 नीचे दिए गए कथनों के अनुसार कौनसा निष्कर्ष तर्कसंगत निकाला जा सकता है।
कथन : कुछ पंखे दीवार है।
सभी दीवार रेडियो हैं।

Question ID : 6172498334

Status : Answered

Chosen Option : 1

निष्कर्ष : I. कुछ पंखे रेडियो नहीं हैं ।
II. सभी रेडियो पंखे नहीं हैं।

Marks : -1.00

- Ans
- 1. केवल निष्कर्ष I सही है
 - 2. केवल निष्कर्ष II सही है
 - 3. दोनों निष्कर्ष सही है
 - 4. दोनों निष्कर्ष गलत है

Q.29 एक घड़ी 4 बजे समय दर्शा रही है घंटे की सुई के 90 अंश घूमने के बाद क्या समय होगा

- Ans
- 1. 9 बजे
 - 2. 7 बजे
 - 3. 8 बजे
 - 4. 6 बजे

Question ID : 6172497014

Status : Answered

Chosen Option : 3

Marks : -1.00

Q.30 निम्नलिखित तत्वों को दिए गए किसी न किसी आरेख में फिट बैठाया जा सकता है
उसका चयन करें।
कमल, फूल, गुलाब

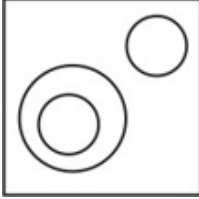
Question ID : 6172497794

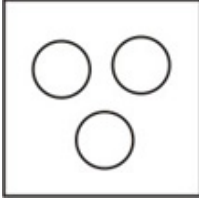
Status : Answered

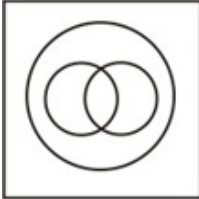
Chosen Option : 3

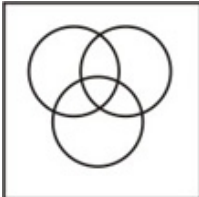
Marks : 4.00

Ans

1. 


2. 

3. 

4. 

Note: For this question, discrepancy is found in question/answer. Full Marks is being awarded to all candidates.

Q.31 दिए गए विकल्पों में से प्रश्न आकृति का दर्पण प्रतिबिम्ब क्या होगा?







Ans

Question ID : 6172497854

Status : Not Answered

Chosen Option : --





Marks : 0.00

- ✗ 1. 
- ✗ 2. 
- ✗ 3. 
- ✓ 4. 

Q.32 दिए गए विकल्पों में से निम्नलिखित अक्षर समूह का जल प्रतिबिम्ब कौनसा होगा ?

ST

Ans

- ✓ 1. 
- ✗ 2. 
- ✗ 3. 
- ✗ 4. 

Question ID : 6172498094

Status : Answered

Chosen Option : 1

Marks : 4.00

Q.33 यदि 8 मई 2005 को शुक्रवार था तो बताओ 8 मई 2006 को कौनसा वार होगा ?

- Ans 1. शनिवार
 2. गुरुवार
 3. शुक्रवार
 4. रविवार

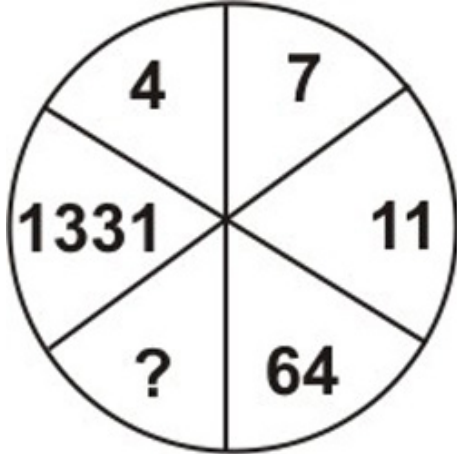
Question ID : 6172497074

Status : Answered

Chosen Option : 1

Marks : 4.00

Q.34 निम्न प्रश्न में दिए गए विकल्पों में से प्रश्नवाचक चिन्ह के स्थान पर आने वाली संख्या ज्ञात किजिए।



- Ans 1. 430
 2. 434
 3. 343
 4. 334

Question ID : 6172497194

Status : Not Answered

Chosen Option : --

Marks : 0.00

Q.35 श्रेणी 13, 16, 22, 33, 51, ? में लुप्त संख्या '?' क्या है ?

- Ans 1. 102
 2. 78
 3. 69
 4. 89

Question ID : 6172495899

Status : Not Answered

Chosen Option : --

Marks : 0.00

Q.36 एक पंक्ति में पांच घर A, B, C, D और E हैं। A, B के दाए और C के बाए है। E, A के दाए है। B, D के दाए है। यह बताइए कि कौन-सा घर मध्य में है?

- Ans 1. D
 2. E
 3. A
 4. B

Question ID : 6172496654

Status : Answered

Chosen Option : 3

Marks : 4.00

Q.37 दिए गए शब्द का का दर्पण प्रतिबिम्ब क्या होगा?

WESTERN

- Ans 1. NRETSEW
 2. NSETERW
 3. NBTSEW
 4. WERTSEW

Question ID : 6172497914

Status : Not Answered

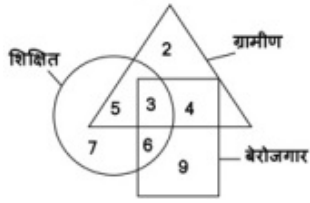
Chosen Option : --

Marks : 0.00

Q.38 निम्नांकित आरेख में वृत शिक्षित का, त्रिभुज ग्रामीण का, आयत बेरोजगार का प्रतिनिधित्व करता है तो कुल बेरोजगारों की संख्या क्या है?

Question ID : 6172498214

Status : Answered



Chosen Option : 4

Marks : 4.00

- Ans
- 1. 13
 - 2. 25
 - 3. 18
 - 4. 22

Q.39 निम्न में से असंगत को चुनिए ?

- Ans
- 1. गेंदा
 - 2. गुलाब
 - 3. कमल
 - 4. टयूलिप

Question ID : 6172496260

Status : Answered

Chosen Option : 4

Marks : -1.00

Q.40 एक आदमी 13 वस्तुएं प्रत्येक ₹ 70 दाम वाली खरीदी, 15 वस्तुएं ₹ 60 दाम वाली और 12 वस्तुएं ₹ 65 दाम वाली। प्रति वस्तु औसत दाम है ?

- Ans
- 1. ₹ 64.75
 - 2. ₹ 60.25
 - 3. ₹ 62.25
 - 4. ₹ 65.75

Question ID : 6172497434

Status : Not Answered

Chosen Option : --

Marks : 0.00

Q.41 श्रेणी 5, 11, 32, ?, 444 में लुप्त संख्या '?' क्या है ?

- Ans
- 1. 96
 - 2. 98
 - 3. 108
 - 4. 109

Question ID : 6172495900

Status : Not Answered

Chosen Option : --

Marks : 0.00

Q.42 पीटर पश्चिम की ओर 5 मी. चलकर दायी ओर मुड़ जाता है और फिर 5 मी. चलता है, इसके बाद दायी ओर मुड़ कर 20 मी. चलता है। अंत में दायी ओर 5 मी. चलकर रूक जाता है। अब वह अपने चलने के प्रारम्भिक स्थान से कितनी दूर है ?

- Ans
- 1. 5 मी.
 - 2. 20 मी.
 - 3. 25 मी.
 - 4. 15 मी.

Question ID : 6172496774

Status : Answered

Chosen Option : 4

Marks : 4.00

Q.43 नीचे दिए गए कथनों के अनुसार कौनसा निष्कर्ष तर्कसंगत निकाला जा सकता है।

कथन : कुछ पिन क्लिप है।
कुछ क्लिप पैन है।
निष्कर्ष : I. कुछ पिन पैन है।
II. कोई पिन पैन नहीं है।

- Ans
- 1. या तो निष्कर्ष I या निष्कर्ष II सत्य है
 - 2. दोनों निष्कर्ष गलत है
 - 3. केवल निष्कर्ष I सही है
 - 4. केवल निष्कर्ष II सही है

Question ID : 6172498394

Status : Answered

Chosen Option : 2

Marks : -1.00

Q.44 140 मीटर लंबी रेलगाडी 60 किमी/घंटा की चाल से चल रही है। यह 260 मीटर लंबी प्लेटफार्म को कितने समय में पार करेगी?

- Ans 1. 29 सेकंड
 2. 22 सेकंड
 3. 24 सेकंड
 4. 20 सेकंड

Question ID : 6172497494

Status : **Not Answered**

Chosen Option : --

Marks : 0.00

Q.45 $(13)^3$ का मान ज्ञात करें ?

- Ans 1. 2196
 2. 2197
 3. 2195
 4. 2097

Question ID : 6172497314

Status : **Answered**

Chosen Option : 2

Marks : 4.00

Section : सामान्य ज्ञान सामान्य विज्ञान और सामयिकी

Q.1 जोग जलप्रपात किस नदी पर स्थित है ?

- Ans 1. चम्बल
 2. शरावती
 3. कोवरी
 4. नर्मदा

Question ID : 6172499312

Status : **Answered**

Chosen Option : 3

Marks : -1.00

Q.2 संविधान के किस अनुच्छेद में उपराष्ट्रपति पद का प्रावधान किया गया है ?

- Ans 1. अनुच्छेद 63
 2. अनुच्छेद 53
 3. अनुच्छेद 76
 4. अनुच्छेद 52

Question ID : 6172499937

Status : **Answered**

Chosen Option : 4

Marks : -1.00

Q.3 ऑस्ट्रेलिया में स्थित कालगुर्ली किसके लिए विख्यात है ?

- Ans 1. शिक्षा केन्द्र
 2. मुर्गी पालन
 3. स्वर्ण उत्पादन
 4. उत्तम जलवायु

Question ID : 6172499474

Status : **Answered**

Chosen Option : 2

Marks : -1.00

Q.4 खो खो नामक खेल में एक टीम में कितने खिलाड़ी होते हैं ?

- Ans 1. 7
 2. 9
 3. 11
 4. 12

Question ID : 6172498677

Status : **Answered**

Chosen Option : 4

Marks : -1.00

Q.5 किस राज्य को अनाज उत्पादन में उल्लेखनीय वृद्धि के लिए 2015-16 का कृषि कर्मण पुरस्कार दिया गया ?

- Ans 1. मध्य प्रदेश
 2. हिमाचल प्रदेश
 3. कर्नाटक
 4. उत्तर प्रदेश

Question ID : 6172498678

Status : **Answered**

Chosen Option : 4

Marks : -1.00

Q.6 दाब का माजक है ?

- Ans
- 1. जूल
 - 2. डाइन
 - 3. पास्कल
 - 4. अर्ग

Question ID : 6172498874

Status : Answered

Chosen Option : 1

Marks : -1.00

Q.7 फिल्म अभिनेता विनोद खन्ना किस पार्टी से लोकसभा सदस्य थे ?

- Ans
- 1. BJP
 - 2. Congress
 - 3. समाजवादी पार्टी
 - 4. शिव सेना

Question ID : 6172498675

Status : Answered

Chosen Option : 1

Marks : 4.00

Q.8 संविधान के किस अनुच्छेद में संविधान के संशोधन की प्रक्रिया का उल्लेख है ?

- Ans
- 1. अनुच्छेद 360
 - 2. अनुच्छेद 356
 - 3. अनुच्छेद 352
 - 4. अनुच्छेद 368

Question ID : 6172499940

Status : Answered

Chosen Option : 3

Marks : -1.00

Q.9 कश्मीर का शासक जो कश्मीर का अकबर नाम से जाना जाता है, वह है ?

- Ans
- 1. हैदरशाह
 - 2. जैनुल आबिदीन
 - 3. शम्सुद्दीन शाह
 - 4. सिकन्दर बुतशिकन

Question ID : 6172499594

Status : Answered

Chosen Option : 3

Marks : -1.00

Q.10 स्तनी के हृदय में कितने कोष्ठ होते हैं ?

- Ans
- 1. 3
 - 2. 5
 - 3. 4
 - 4. 2

Question ID : 6172499080

Status : Answered

Chosen Option : 4

Marks : -1.00

Q.11 किस विटामिन की कमी से सूखा रोग होता है ?

- Ans
- 1. विटामिन K
 - 2. विटामिन D
 - 3. विटामिन E
 - 4. विटामिन B कांम्प्लेक्स

Question ID : 6172499079

Status : Answered

Chosen Option : 4

Marks : -1.00

Q.12 भारत ने किस देश के साथ कैदियों की अदला - बदली के लिए समझौते पर हस्ताक्षर किए हैं ?

- Ans
- 1. सोमालिया
 - 2. नाइजिरिया
 - 3. अलजिरिया
 - 4. ईथोपीया

Question ID : 6172498674

Status : Answered

Chosen Option : 1

Marks : 4.00

Q.13 झरिया कोयला की खानें देश के किस राज्य में हैं ?

- Ans
- 1. झारखण्ड

Question ID : 6172499310

Status : Answered

2. आन्ध्र प्रदेश
 3. पश्चिम बंगाल
 4. ओडिसा

Chosen Option : 1
Marks : 4.00

Q.14 भारत में मुस्लिम लीग की स्थापना किस वर्ष हुई थी ?

- Ans 1. 1903 ई. में
 2. 1906 ई. में
 3. 1908 ई. में
 4. 1905 ई. में

Question ID : 6172499679
Status : Answered
Chosen Option : 2
Marks : 4.00

Q.15 सहारा मरूस्थल किस महाद्वीप में स्थित है ?

- Ans 1. एशिया
 2. अफ्रीका
 3. अमेरिका
 4. यूरोप

Question ID : 61724910014
Status : Answered
Chosen Option : 2
Marks : 4.00

Q.16 मार्ले-मिण्टो रिफॉर्म को किस वर्ष में प्रस्तुत किया गया था ?

- Ans 1. 1909
 2. 1935
 3. 1919
 4. 1942

Question ID : 6172499680
Status : Answered
Chosen Option : 4
Marks : -1.00

Q.17 संविधान के किस अनुच्छेद में धन विधेयक की परिभाषा दी गई है ?

- Ans 1. अनुच्छेद 124
 2. अनुच्छेद 109
 3. अनुच्छेद 103
 4. अनुच्छेद 110

Question ID : 6172499938
Status : Answered
Chosen Option : 1
Marks : -1.00

Q.18 प्लास्टर ऑफ पेरिस (Plaster of Paris) का रासायनिक सूत्र है ?

- Ans 1. $\text{CaSO}_4, \text{MgO}$
 2. $\text{CaSO}_4, 5\text{H}_2\text{O}$
 3. $(\text{CaSO}_4)_2, 2\text{H}_2\text{O}$
 4. $2\text{CaSO}_4, \text{H}_2\text{O}$

Question ID : 6172498960
Status : Answered
Chosen Option : 3
Marks : -1.00

Q.19 जोजिला दर्रा किस राज्य में स्थित है ?

- Ans 1. हिमाचल प्रदेश
 2. उत्तराखंड
 3. जम्मू कश्मीर
 4. सिक्किम

Question ID : 6172499309
Status : Answered
Chosen Option : 3
Marks : 4.00

Q.20 डिजिटल कम्प्यूटर की कार्य पद्धति किस सिद्धांत पर आधारित है ?

- Ans 1. इलेक्ट्रॉनिक परिपथ पर
 2. मापन पर
 3. गणना एवं तर्क पर
 4. केवल तर्क पर

Question ID : 6172499174
Status : Answered
Chosen Option : 1
Marks : -1.00

Q.21 केन्द्र सरकार ने पावरलूम क्षेत्र के विकास के लिए देश के 45 स्थानों पर किस परियोजना का शुभारम्भ किया

- Ans
- 1. इंडिया टेक्स
 - 2. टेक्स इंडिया
 - 3. पावरलूम इंडिया
 - 4. पावरटेक्स इंडिया

Question ID : 6172498676

Status : Not Answered

Chosen Option : --

Marks : 0.00

Q.22 संविधान के किस अनुच्छेद में यह अंकित है कि भारत अर्थात् इंडिया राज्यों का एक संघ होगा ?

- Ans
- 1. अनुच्छेद - 3
 - 2. अनुच्छेद - 2
 - 3. अनुच्छेद - 4
 - 4. अनुच्छेद - 1

Question ID : 6172499939

Status : Not Answered

Chosen Option : --

Marks : 0.00

Q.23 भारत का जिस प्राकृतिक आपदा से सम्बन्ध नहीं है वह है ?

- Ans
- 1. भूस्कलन
 - 2. ज्वालामुखी
 - 3. बाढ
 - 4. भूकम्प

Question ID : 6172499311

Status : Answered

Chosen Option : 2

Marks : 4.00

Q.24 सूखी बर्फ, निम्नलिखित में से क्या है ?

- Ans
- 1. ठोस कार्बन डाईऑक्साइड
 - 2. गैसीय कार्बन डाईऑक्साइड
 - 3. कार्बन मोनोऑक्साइड
 - 4. धोने का सोडा

Question ID : 6172498959

Status : Answered

Chosen Option : 1

Marks : 4.00

Q.25 महावीर स्वामी का जन्म कहां हुआ ?

- Ans
- 1. मगध में
 - 2. पाटलिपुत्र में
 - 3. वैशाली में
 - 4. कुण्डग्राम में

Question ID : 6172499534

Status : Not Answered

Chosen Option : --

Marks : 0.00

Section : राजस्थान इतिहास संस्कृति कला और भूगोल

Q.1 राजस्थान में 'तिमनिया' नामक आभूषण पहना जाता है ?

- Ans
- 1. सिर पर
 - 2. हाथों पर
 - 3. गले में
 - 4. भुजाओं पर

Question ID : 61724910316

Status : Answered

Chosen Option : 3

Marks : 4.00

Q.2 केन्द्रीय इलेक्ट्रॉनिकी अभियांत्रिकी का अनुसंधान कहां स्थित है ?

- Ans
- 1. पिलानी
 - 2. खेतड़ी
 - 3. लोहार्गल
 - 4. नरहड़

Question ID : 61724911608

Status : Answered

Chosen Option : 2

Marks : -1.00

Q.3 राज्य की कुल स्थलीय सीमा की लम्बाई है ?

- Ans
- 1. 5091 किमी.
 - 2. 5290 किमी.
 - 3. 5090 किमी.
 - 4. 5920 किमी.

Question ID : 61724911192

Status : Answered

Chosen Option : 2

Marks : -1.00

Q.4 सबसे अधिक सिंचाई देने वाली इंदिरा गांधी नहर से कौनसा क्षेत्र लाभान्वित हो रहा है ?

- Ans
- 1. उत्तर - पश्चिम
 - 2. सम्पूर्ण राजस्थान
 - 3. दक्षिण - पश्चिमी
 - 4. दक्षिण

Question ID : 61724911193

Status : Answered

Chosen Option : 1

Marks : 4.00

Q.5 राजस्थान का हृदय किस जिले को कहा जाता ?

- Ans
- 1. अजमेर
 - 2. जोधपुर
 - 3. नागौर
 - 4. जयपुर

Question ID : 61724911607

Status : Answered

Chosen Option : 1

Marks : 4.00

Q.6 पश्चिमी राजस्थान की यात्रा नामक ग्रन्थ की रचना किसने की ?

- Ans
- 1. अर्जुनलाल सेठी
 - 2. सागरमल गोपा
 - 3. जार्ज थामस
 - 4. जेम्स टॉड

Question ID : 61724911472

Status : Answered

Chosen Option : 4

Marks : 4.00

Q.7 नृत्य जो केवल पुरुषों द्वारा किया जाता है ?

- Ans
- 1. कत्थक
 - 2. घूमर
 - 3. कच्ची घोड़ी
 - 4. तेरहताली

Question ID : 61724910317

Status : Answered

Chosen Option : 3

Marks : 4.00

Q.8 केंद्र सरकार की महत्वाकांक्षी योजना स्मार्ट सिटी की तीसरी सूची में राजस्थान के कितने शहरों को शामिल किया गया है ?

- Ans
- 1. पांच
 - 2. चार
 - 3. दो
 - 4. तीन

Question ID : 61724911362

Status : Answered

Chosen Option : 1

Marks : -1.00

Q.9 परिखा' से तात्पर्य है ?

- Ans
- 1. दुर्ग के चारों ओर खींची गई खाई
 - 2. पर्वतीय क्षेत्रों में होने वाली खेती
 - 3. राजस्थान में कृषि का एक प्रकार
 - 4. मंदिर के चारों ओर खींची गई खाई

Question ID : 61724910125

Status : Answered

Chosen Option : 1

Marks : 4.00

Q.10 राजस्थान एयर कार्गो काम्प्लेक्स स्थित है ?

- Ans
- 1. जोधपुर

Question ID : 61724910894

Status : Not Answered

2. जयपुर
 3. उदयपुर
 4. सांगानेर

Chosen Option : --
Marks : 0.00

Q.11 फलकू बाई किस नृत्य की नृत्यांगना है ?

- Ans 1. चरी नृत्य
 2. कच्छी घोडी
 3. घूमर नृत्य
 4. रसिया नृत्य

Question ID : 61724910124
Status : Answered
Chosen Option : 1
Marks : 4.00

Q.12 राज्य के समस्त प्रशासन का मुखिया कौन होता है ?

- Ans 1. मुख्यमंत्री सचिव
 2. मुख्यमंत्री
 3. राज्यपाल सचिव
 4. मुख्य सचिव

Question ID : 61724910890
Status : Answered
Chosen Option : 4
Marks : 4.00

Q.13 पुस्तक रखने के काष्ठ के उपकरण को क्या कहते हैं ?

- Ans 1. टनका
 2. टड्डा
 3. चील
 4. ठवणी

Question ID : 61724911473
Status : Answered
Chosen Option : 4
Marks : 4.00

Q.14 पंचायती राज विषय संविधान की कौनसी सूची में शामिल है ?

- Ans 1. अवशिष्ट सूची
 2. समवर्ती सूची
 3. राज्य सूची
 4. संघ सूची

Question ID : 61724910889
Status : Answered
Chosen Option : 2
Marks : -1.00

Q.15 जांगल जनपद की राजधानी थी ?

- Ans 1. विराटनगर (बैराठ)
 2. मञ्जमिका
 3. अहिच्छत्रपुर
 4. बयाना

Question ID : 61724910561
Status : Answered
Chosen Option : 3
Marks : 4.00

Q.16 दयाबाई एवं सहजोबाई किस संत की शिष्याएं थीं ?

- Ans 1. संत पीपा
 2. चरणदास
 3. संत दादू
 4. रामदेव जी

Question ID : 61724910314
Status : Answered
Chosen Option : 3
Marks : -1.00

Q.17 रणथम्भौर का युद्ध (सन् 1301 ई.) किसके मध्य हुआ था ?

- Ans 1. अलाउद्दीन खिलजी तथा हमीर
 2. अलाउद्दीन खिलजी तथा राणा रतन सिंह
 3. मुहम्मद गौरी तथा पृथ्वीराज चौहान
 4. बाबर तथा राणा सांगा

Question ID : 61724910559
Status : Answered
Chosen Option : 3
Marks : -1.00

Q.18 भारतीय मूर्तिकला का विश्वकोष किसे कहा जाता है ?

- Ans 1. विजयस्तम्भ
 2. किराडू मंदिर
 3. रणकपुर मंदिर
 4. देलवाड़ा मंदिर

Question ID : 61724910563

Status : **Not Answered**

Chosen Option : --

Marks : 0.00

Q.19 इतिहासकार फर्ग्यूसन ने राजस्थान के किन महलों को 'राजस्थान के विण्डसर' महलों की संज्ञा दी थी ?

- Ans 1. आमेर के राजमहल को
 2. उदयपुर के राजमहल को
 3. जोधपुर के राजमहल को
 4. बीकानेर के राजमहल को

Question ID : 61724911609

Status : **Answered**

Chosen Option : 1

Marks : -1.00

Q.20 राजस्थान में प्रचलित निम्न में से कौन नगरीय स्वशासन की संस्था नहीं है ?

- Ans 1. नगर निगम
 2. नगर पंचायत
 3. नगरपालिका
 4. नगर परिषद्

Question ID : 61724910893

Status : **Answered**

Chosen Option : 2

Marks : 4.00

Q.21 राजस्थान में राज्य महिला आयोग की प्रथम अध्यक्ष किसे नियुक्त किया गया था ?

- Ans 1. श्रीमती पवन सुराणा
 2. श्रीमती कान्ता खतूरिया
 3. श्रीमती प्रकाशवती
 4. श्रीमती तारा भण्डारी

Question ID : 61724910891

Status : **Not Answered**

Chosen Option : --

Marks : 0.00

Q.22 17 जुलाई 1734 ई. को हुरड़ा सम्मेलन किसके विरुद्ध बुलाया गया था ?

- Ans 1. मराठों के
 2. निजाम के
 3. अंग्रेजों के
 4. मुगलों के

Question ID : 61724910560

Status : **Answered**

Chosen Option : 3

Marks : -1.00

Q.23 केन्द्रीय मंत्री मंडल में शामिल की गई राजस्थान की प्रथम महिला सांसद कौन है ?

- Ans 1. श्रीमती कान्ता खतूरिया
 2. डॉ. गिरिजा व्यास
 3. श्रीमती वसुन्धरा राजे
 4. श्रीमती शारदा भार्गव

Question ID : 61724910895

Status : **Answered**

Chosen Option : 3

Marks : -1.00

Q.24 चित्तौड़गढ़ में विजय स्तम्भ का निर्माण किसने करवाया ?

- Ans 1. राणा प्रताप
 2. अमरसिंह
 3. राणा कुम्भा
 4. उदयसिंह

Question ID : 61724910562

Status : **Not Answered**

Chosen Option : --

Marks : 0.00

Q.25 राजस्थान में पंचायती राज व्यवस्था का शुभारम्भ किस पंचवर्षीय योजना के दौरान किया गया ?

Question ID : 61724910892

Status : **Answered**

- Ans
- 1. चौथी
 - 2. पहली
 - 3. दूसरी
 - 4. तीसरी

Chosen Option : 1
Marks : -1.00

Q.26 कौनसा मेला भाद्रपद मास में आयोजित किया जाता है ?

- Ans
- 1. जसवंत पशु मेला
 - 2. बाणगंगा मेला
 - 3. घुड़ला मेला
 - 4. मर्तुहरि का मेला

Question ID : 61724910315
Status : Not Answered
Chosen Option : --
Marks : 0.00

Q.27 भोगलियां एवं कुलाबो क्या है ?

- Ans
- 1. तलवार के नाम
 - 2. नृत्यों के नाम
 - 3. चित्रों के नाम
 - 4. बर्तनों के नाम

Question ID : 61724910126
Status : Answered
Chosen Option : 4
Marks : -1.00

Q.28 राजस्थान का क्षेत्रफल भारत के कुल भौगोलिक क्षेत्र का है ?

- Ans
- 1. 5.6%
 - 2. 11.11%
 - 3. 12%
 - 4. 10.41%

Question ID : 61724911194
Status : Answered
Chosen Option : 4
Marks : 4.00

Q.29 दिसम्बर, 2016 में 44 वीं मिस्टर राजस्थान प्रतियोगिता किसने जीती ?

- Ans
- 1. सुनिल कुमार
 - 2. अर्शन खान
 - 3. मुकेश चौधरी
 - 4. सोनू बोरासी

Question ID : 61724911363
Status : Not Answered
Chosen Option : --
Marks : 0.00

Q.30 राजस्थान की वह कौनसी एकमात्र नदी है, जो कर्क रेखा को पार करती है ?

- Ans
- 1. माही
 - 2. लूणी
 - 3. कालीसिन्ध
 - 4. बनास

Question ID : 61724911195
Status : Answered
Chosen Option : 1
Marks : 4.00