



Participant ID:	21533000102
Participant Name:	ASHA PURI
Test Center Name:	Apex College for Girls
Test Date:	03/09/2017
Test Time:	12:30 PM - 2:30 PM
Marks Obtained:	208.00

Section : तार्किक और मानसिक क्षमता

Q.1 नीचे दिए गए कथनों के अनुसार कौनसा निष्कर्ष तर्कसंगत निकाला जा सकता है।
कथन : सभी हाथी शेर हैं।
सभी शेर बंदर है।
निष्कर्ष : I. सभी हाथी बंदर है।
II. कुछ बंदर हाथी है।

- Ans 1. दोनों निष्कर्ष सही है
 2. केवल निष्कर्ष II सही है
 3. दोनों निष्कर्ष गलत है
 4. केवल निष्कर्ष I सही है

Question ID : 6172498331

Status : Not Answered

Chosen Option : --

Marks : 0.00

Q.2 एक मनुष्य उत्तर-पश्चिम की ओर मुंह करके खड़ा है। यदि वह पहले 135° वामावर्त तथा बाद में दक्षिणावर्त 180° घूमता है, तो अब उसका मुख किस ओर होगा

- Ans 1. दक्षिण-पश्चिम
 2. पूर्व
 3. पश्चिम
 4. उत्तर

Question ID : 6172496711

Status : Answered

Chosen Option : 3

Marks : -1.00

Q.3 एक तालाब को वर्षा जल से भरने में 40 दिन लगते हैं। यदि पानी का स्तर प्रति दिन दोगुना हो तो तालाब को 1/4 भरने में कितने दिन लगेंगे ?

- Ans 1. 20 दिन
 2. 38 दिन
 3. 10 दिन
 4. 30 दिन

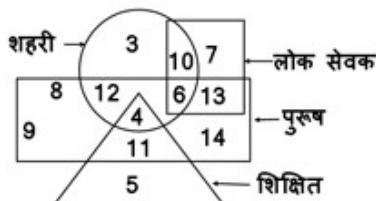
Question ID : 6172497551

Status : Answered

Chosen Option : 3

Marks : -1.00

Q.4 निम्नांकित आरेख में पुरुषों को आयत से, शिक्षितों को त्रिभुज से, शहरी को वृत्त से और लोक सेवक को वर्ग से निरूपित किया गया है। इनमें से ऐसे कितने व्यक्ति हैं, जोकि न तो लोक सेवक, न ही शिक्षित और न ही शहरी हैं?



- Ans 1. 5

Question ID : 6172498271

Status : Answered

Chosen Option : 2

Marks : 4.00

✓ 2. 3

✗ 3. 10

✗ 4. 6

Q.5 श्रेणी 36, 28, 24, 22, ? में लुप्त संख्या '?' क्या है ?

Ans ✗ 1. 19

✗ 2. 18

✓ 3. 21

✗ 4. 22

Question ID : 6172495894

Status : Answered

Chosen Option : 4

Marks : -1.00

Q.6 दिए गए शब्द का का दर्पण प्रतिबिम्ब क्या होगा?

Ans ✓ 1. **FIXING**
✗ 2. **GNIXIF**
✗ 3. **GNIXIF**
✗ 4. **GIFIXN**

Question ID : 6172497911

Status : Answered

Chosen Option : 1

Marks : 4.00

Q.7 निम्नलिखित अंकों के सेट का औसत बताएं - 232, 149, 208, 301, 399, 415

Ans ✗ 1. 296

✓ 2. 284

✗ 3. 260

✗ 4. 272

Question ID : 6172497431

Status : Answered

Chosen Option : 2

Marks : 4.00

Q.8 7 जून 1999 को बुधवार था तो बताओ 15 अक्टूबर 1999 को कौनसा वार था ?

Ans ✓ 1. रविवार

✗ 2. बुधवार

✗ 3. सोमवार

✗ 4. शनिवार

Question ID : 6172497071

Status : Answered

Chosen Option : 3

Marks : -1.00

Q.9 गीता पूर्व की ओर मुख करके 6 मीटर चलती है फिर बायीं ओर मुड़कर 5 मीटर चलती है फिर बायीं ओर मुड़कर 6 मीटर चलती है अंत में बायीं ओर मुड़कर 5 मीटर चलती है तो बताओ अब वह प्रारम्भिक स्थान से कितनी दूर है ।

Ans ✗ 1. 5 मी.

✗ 2. 6 मी.

✗ 3. 3 मी.

✓ 4. 0 मी.

Question ID : 6172496771

Status : Answered

Chosen Option : 4

Marks : 4.00

Q.10 दिए गए विल्कणों में से प्रश्न आकृति का जल प्रतिबिम्ब क्या होगा?



Ans

Question ID : 6172498031

Status : Answered

Chosen Option : 3

Marks : 4.00



Q.11 पांच विद्यार्थी एक ही पंक्ति में बैठे हैं। L के दाईं ओर S है, L के बाईं ओर P है, परन्तु वह K के दाईं ओर है। Q के बाईं ओर S है। बाईं ओर से पंक्ति में सबसे पहला विद्यार्थी कौन है?

- Ans
- 1. P
 - 2. S
 - 3. L
 - 4. K

Question ID : 6172496651

Status : Answered

Chosen Option : 4

Marks : 4.00

Q.12 नीचे दिए गए कथनों के अनुसार कौनसा निष्कर्ष तर्कसंगत निकाला जा सकता है।
 कथन : कुछ रेल ट्रेन है।
 कुछ रेल लोकल है।
 निष्कर्ष : I. कम से कम कुछ ट्रेन लोकल है।
 II. कोई भी ट्रेन लोकल नहीं है।

- Ans
- 1. दोनों निष्कर्ष सही है
 - 2. दोनों निष्कर्ष गलत है
 - 3. केवल निष्कर्ष I सत्य है
 - 4. या तो निष्कर्ष I या निष्कर्ष II सत्य है

Question ID : 6172498391

Status : Answered

Chosen Option : 1

Marks : -1.00

Q.13 एक बक्से में ₹. 1, 50 पैसे और 20 पैसे वाले कुल 420 सिक्के हैं, उनकी कीमत का अनुपात 13 : 11 : 7 है तदनुसार उनमें 50 पैसे वाले सिक्कों की संख्या कितनी है?

- Ans
- 1. 78
 - 2. 132
 - 3. 42
 - 4. 66

Question ID : 6172497371

Status : Not Answered

Chosen Option : --

Marks : 0.00

Q.14 निम्न में से असंगत को चुनिए ?

- Ans
- 1. स्कूटर

Question ID : 6172496254

Status : Answered

- 2. मोपेड
- 3. साइकिल
- 4. मोटरसाइकिल

Chosen Option : 2
Marks : -1.00

Q.15 दिए गए विकल्पों में से निम्नलिखित अक्षर समूह का जल प्रतिबिम्ब कौनसा होगा ?

MOTIVE

- Ans 1. **MOTIVE**
2. **MOTIAE**
3. **MOTIAE**
4. **MOTIAE**

Question ID : 6172498091

Status : Answered

Chosen Option : 1

Marks : 4.00

Q.16 यदि किसी सांकेतिक भाषा में "NIL" को "MOHJKM" लिखा जाता है तो "COMB" को उसी सांकेतिक भाषा में कैसे लिखा जाएगा?

- Ans 1. BDPNLNAC
2. BDNPLNCA
3. BDNPLNAC
4. BDNPNLCA

Question ID : 6172496373

Status : Answered

Chosen Option : 3

Marks : 4.00

Q.17 निम्न में से असंगत को चुनिए ?

- Ans 1. स्टीरियो
2. टेलीविजन
3. समाचार-पत्र
4. रेडियो

Question ID : 6172496253

Status : Not Answered

Chosen Option : --

Marks : 0.00

Q.18 300 मी. लंबी एक रेलगाडी 54 किमी./घंटा की रफ्तार से एक स्थिर खंभे को कितनी देर में पार करेगी?

- Ans 1. 30 सेकंड
2. 40 सेकंड
3. 50 सेकंड
4. 20 सेकंड

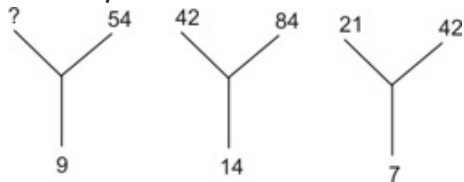
Question ID : 6172497491

Status : Answered

Chosen Option : 4

Marks : 4.00

Q.19 निम्न प्रश्न में दिए गए विकल्पों में से प्रश्नवाचक चिह्न के स्थान पर आने वाली संख्या ज्ञात किजिए।



- Ans 1. 54
2. 27
3. 42
4. 21

Question ID : 6172497251

Status : Answered

Chosen Option : 2

Marks : 4.00

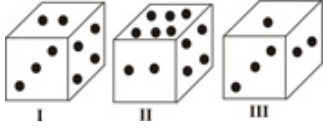
Q.20 नीचे एक ही पासे के तीन प्रारूपों को दर्शाया गया है। इस पासे में 3 बिन्दु वाले फलक के विपरीत फलक पर कितने बिन्दु होंगे?

Question ID : 6172496951

Status : Answered

Chosen Option : 1

Marks : 4.00



- Ans 1. 6
 2. 4
 3. 5
 4. 2

Q.21 X और Y भाई-भाई हैं। R, Y का पिता है। S, T का भाई और X का मामा है। T का R से क्या सम्बन्ध है ?

- Ans 1. माता
 2. पत्नी
 3. भाई
 4. बहन

Question ID : 6172496868

Status : Answered

Chosen Option : 2

Marks : 4.00

Q.22 निम्न श्रृंखला में प्रश्नवाचक चिन्ह (?) के स्थान पर क्या आएगा
Z, X, U, Q, L, ?

- Ans 1. E
 2. G
 3. H
 4. F

Question ID : 6172495991

Status : Answered

Chosen Option : 4

Marks : 4.00

Q.23 एक दलाल की आय में कोई परिवर्तन नहीं हुआ यद्यपि कमीशन की दर में 4% से 5% वृद्धि हो गयी। व्यवसाय में कितने प्रतिशत गिरावट है

- Ans 1. 15%
 2. 10%
 3. 30%
 4. 20%

Question ID : 6172497611

Status : Not Answered

Chosen Option : --

Marks : 0.00

Q.24 निम्नलिखित शब्दों को शब्दकोश के अनुसार व्यवस्थित किजिए। 1. Reseek 2. Resect 3. Reset 4. Reseat 5. Resell

- Ans 1. 4, 5, 3, 1, 2
 2. 4, 3, 2, 5, 1
 3. 4, 1, 2, 5, 3
 4. 4, 2, 1, 5, 3

Question ID : 6172496471

Status : Answered

Chosen Option : 4

Marks : 4.00

Q.25 एक पुस्तक 270 रुपये में बेचने पर 20% लाभ होता है। पुस्तक की लागत कीमत कितनी है

- Ans 1. 216 रुपये
 2. 226 रुपये
 3. 225 रुपये
 4. 254 रुपये

Question ID : 6172497671

Status : Answered

Chosen Option : 1

Marks : -1.00

Q.26 ऐसा आरेख ज्ञात कीजिये, जो निम्नलिखित श्रेणियों के बीच सर्वाधिक सम्बन्ध को दर्शाता है।

भाषाएँ, अंग्रेजी, और कन्नड़

Ans

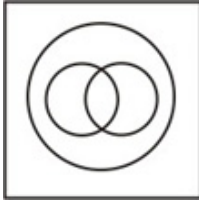
Question ID : 6172497731

Status : Answered


Chosen Option : 3

Marks : 4.00

✗ 1.




✗ 2.



✓ 3.



✗ 4.



Q.27 X और Y की वर्तमान आयु का क्रमशः अनुपात 4:5 है। अब से 6 वर्ष बाद उनकी आयु का क्रमशः अनुपात 6:7 होगा। इनकी आयु के बीच कितना अंतर है ?

- Ans ✓ 1. 3 वर्ष
✗ 2. 5 वर्ष
✗ 3. 2 वर्ष
✗ 4. 4 वर्ष

Question ID : 6172498151

Status : Answered

Chosen Option : 1

Marks : 4.00

Q.28 किसी कतार में समीर का बायें से 32वां स्थान है तथा समीर के दायें 8वें स्थान पर अमन है यदि अमन का इस कतार में दायें से 24वां स्थान हो तो कतार में कुल व्यक्तियों की संख्या क्या है?

- Ans ✓ 1. 63
✗ 2. 40
✗ 3. 64
✗ 4. 65

Question ID : 6172496591

Status : Answered

Chosen Option : 1

Marks : 4.00

Q.29 $(15)^3$ का मान ज्ञात करें ?

- Ans ✓ 1. 3375
✗ 2. 3325
✗ 3. 3275
✗ 4. 3355

Question ID : 6172497311

Status : Answered

Chosen Option : 1

Marks : 4.00

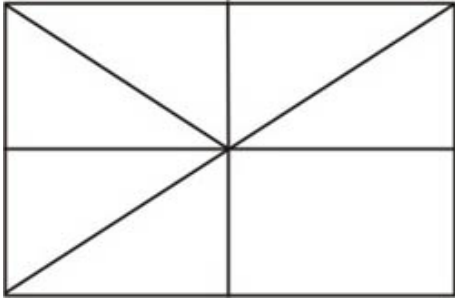
Q.30 नीचे दी गई आकृति में कितने त्रिभुज हैं?

Question ID : 6172497971

Status : Answered


Chosen Option : 2

Marks : 4.00



- Ans
- 1. 12
 - 2. 10
 - 3. 8
 - 4. 11

Q.31 दिए गए विकल्पों में से प्रश्न आकृति का दर्पण प्रतिबिम्ब क्या होगा?



Ans

- 1.
- 2.
- 3.
- 4.

Question ID : 6172497851

Status : Answered

Chosen Option : 3

Marks : 4.00

Q.32 जिस प्रकार घड़ी का सम्बन्ध समय से है, उसी प्रकार स्पीड मोटर का सम्बन्ध किससे है ?

- Ans
- 1. कलाई
 - 2. दूरी
 - 3. रफ्तार
 - 4. रेत

Question ID : 6172496134

Status : Answered

Chosen Option : 3

Marks : 4.00

Q.33 यदि A का अर्थ है ÷, B का अर्थ है -, C का अर्थ है × तो निम्नलिखित अभिव्यंजना का मान क्या होगा?

Question ID : 6172497131

46 A 2 B 3 C 4 = ?

- Ans 1. 23
 2. 11
 3. 34
 4. 17

Status : Answered

Chosen Option : 2

Marks : 4.00

Q.34 यदि किसी सांकेतिक भाषा में "WORLD" को "GICMA" लिखा जाता है तो "WORD" को उसी भाषा में कैसे लिखा जाएगा?

- Ans 1. GICA
 2. LORD
 3. ROLD
 4. ORLD

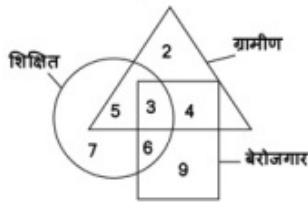
Question ID : 6172496374

Status : Answered

Chosen Option : 1

Marks : 4.00

Q.35 निम्नांकित आरेख में वृत्त शिक्षित का, त्रिभुज ग्रामीण का, आयत बेरोजगार का प्रतिनिधित्व करता है तो शिक्षित बेरोजगार ग्रामीण किस संख्या से प्रदर्शित किया गया है?



- Ans 1. 7
 2. 4
 3. 6
 4. 3

Question ID : 6172498211

Status : Answered

Chosen Option : 4

Marks : 4.00

Q.36 निम्न में से किस उत्तर आकृति द्वारा प्रश्न आकृति पूरी होगी?



- Ans 1.
 2.
 3.
 4.

Question ID : 6172498451

Status : Answered

Chosen Option : 3

Marks : 4.00

Q.37 श्रेणी 27, 32, 30, 35, 33, ? में लुप्त संख्या '?' क्या है ?

- Ans 1. 36
 2. 28
 3. 31
 4. 38

Question ID : 6172495893

Status : Answered

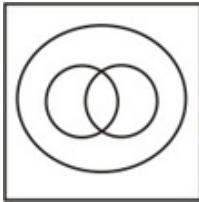
Chosen Option : 4

Marks : 4.00

Q.38 दिए गए आरेखों में से कौन-सा आरेख निम्न तीनों के बीच सही संबंध दर्शाता है?
दरवाजा, खिड़की, घर

Ans

✗ 1.



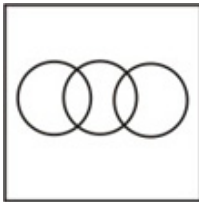
✓ 2.



✗ 3.



✗ 4.



Question ID : 6172497791

Status : Answered

Chosen Option : 1

Marks : -1.00

Q.39 8 : 30 बजे घड़ी की सूइयां आपस में कितने अंश का कोण बनाती हैं

Ans

✗ 1. 15°

✗ 2. 30°

✗ 3. 45°

✓ 4. 75°

Question ID : 6172497011

Status : Answered

Chosen Option : 4

Marks : 4.00

Q.40 निम्न में से किस उत्तर आकृति द्वारा प्रश्न आकृति पूरी होगी?



Ans

✗ 1.



✗ 2.



✗ 3.



✓ 4.



Question ID : 6172498511

Status : Answered

Chosen Option : 4

Marks : 4.00

Q.41 निम्न श्रृंखला में प्रश्नवाचक चिन्ह (?) के स्थान पर क्या आएगा

Question ID : 6172496051

BCD, CEG, DGJ, ?, FKP

- Ans
- 1. ELR
 - 2. EIM
 - 3. GNL
 - 4. GMS

Status : Answered
Chosen Option : 2
Marks : 4.00

Q.42 जिस प्रकार मनु का सम्बन्ध भोजन से है, उसी प्रकार केटेलॉग का सम्बन्ध किससे है ?

- Ans
- 1. रैंक
 - 2. पुस्तकालय
 - 3. अखबार
 - 4. पुस्तकें

Question ID : 6172496133
Status : Answered
Chosen Option : 2
Marks : -1.00

Q.43 एक 8 सेमी भुजा का ठोस घन जिसकी विपरीत फलके लाल, नीले व काले रंग से रंगी हुई है। इसे 2 सेमी के बराबर घनों में काटा जाता है। कितने घन ऐसे हैं जिनकी तीन फलक अलग-अलग रंग से रंगी हुई है?

- Ans
- 1. 12
 - 2. 0
 - 3. 4
 - 4. 8

Question ID : 6172496891
Status : Answered
Chosen Option : 4
Marks : 4.00

Q.44 निम्न प्रश्न में दिए गए विकल्पों में से प्रश्नवाचक चिन्ह के स्थान पर आने वाली संख्या ज्ञात किजिए।

E	J	O
25	?	225

- Ans
- 1. 100
 - 2. 64
 - 3. 49
 - 4. 81

Question ID : 6172497191
Status : Answered
Chosen Option : 1
Marks : 4.00

Q.45 निम्नलिखित को तर्कसंगत क्रम में किस प्रकार व्यवस्थित किया जाएगा। 1. सोना 2. आभूषण 3. अयस्क 4. खदान 5. प्रक्रिया

- Ans
- 1. 4, 3, 5, 2, 1
 - 2. 2, 1, 5, 4, 3
 - 3. 3, 4, 5, 1, 2
 - 4. 4, 3, 5, 1, 2

Question ID : 6172496531
Status : Answered
Chosen Option : 3
Marks : -1.00

Section : सामान्य ज्ञान सामान्य विज्ञान और सामयिकी

Q.1 संघ शासित क्षेत्रों, जिनकी विधायिका नहीं है, के लिए विधि का निर्माण कौन करता है ?

- Ans
- 1. संसद
 - 2. राष्ट्रपति अध्यादेश द्वारा
 - 3. राज्यसभा
 - 4. लोकसभा

Question ID : 6172499925
Status : Answered
Chosen Option : 1
Marks : 4.00

Q.2 निम्न में से किस राज्य से होकर कर्क रेखा नहीं गुजरती है ?

- Ans
- 1. पश्चिम बंगाल
 - 2. गुजरात
 - 3. राजस्थान
 - 4. ओडिशा

Question ID : 6172499297

Status : Answered

Chosen Option : 4

Marks : 4.00

Q.3 संविधान का अनुच्छेद 312 संबंधित है ?

- Ans
- 1. प्रवक्ताओं से
 - 2. राष्ट्रपति से
 - 3. अखिल भारतीय सेवाओं से
 - 4. हिन्दी भाषा से

Question ID : 6172499928

Status : Answered

Chosen Option : 2

Marks : -1.00

Q.4 वर्ष 1857 की क्रान्ति के समय गवर्नर-जनरल कौन था ?

- Ans
- 1. लॉर्ड मेयो
 - 2. लॉर्ड कैनिंग
 - 3. लॉर्ड रिपन
 - 4. लॉर्ड डलहौजी

Question ID : 6172499674

Status : Answered

Chosen Option : 3

Marks : -1.00

Q.5 लॉजिक गेट (Logic Gate) क्या है ?

- Ans
- 1. एक कम्प्यूटर गेम
 - 2. एक विशेष सीडी
 - 3. एक सॉफ्टवेयर
 - 4. एक प्रकार का सर्किट

Question ID : 6172499171

Status : Answered

Chosen Option : 4

Marks : 4.00

Q.6 ऐल्केन का सामान्य सूत्र होता है ?

- Ans
- 1. C_nH_{2n}
 - 2. C_nH_{2n-2}
 - 3. C_nH_{2n+1}
 - 4. C_nH_{2n+2}

Question ID : 6172498954

Status : Not Answered

Chosen Option : --

Marks : 0.00

Q.7 संतृप्त हाइड्रोकार्बन का सामान्य सूत्र है ?

- Ans
- 1. C_nH_{2n+1}
 - 2. C_nH_{2n-2}
 - 3. C_nH_{2n+2}
 - 4. C_nH_{2n-1}

Question ID : 6172498953

Status : Not Answered

Chosen Option : --

Marks : 0.00

Q.8 संघीय मंत्रीपरिषद् का अध्यक्ष कौन होता है ?

- Ans
- 1. राष्ट्रपति
 - 2. प्रधानमंत्री
 - 3. कैबिनेट सचिव
 - 4. गृह मंत्री

Question ID : 6172499927

Status : Answered

Chosen Option : 2

Marks : 4.00

Q.9 ग्रहों का गति का नियम किसने प्रतिपादित किया ?

- Ans
- 1. केप्लर
 - 2. कापरनिकस

Question ID : 6172498871

Status : Answered

Chosen Option : 2

3. गैलिलियो

Marks : -1.00

4. न्यूटन

Q.10 संधीय कार्यपालिका की व्याख्या संविधान के किस भाग में की गई है ?

Ans 1. भाग 4

2. भाग 5

3. भाग 3

4. भाग 2

Question ID : 6172499926

Status : Answered

Chosen Option : 2

Marks : 4.00

Q.11 नाइट्रोजन किसका अनिवार्य घटक होता है ?

Ans 1. विटामिनों का

2. सभी कार्बोहाइड्रेटों का

3. प्रोटीनों का

4. समस्त वसा का

Question ID : 6172499074

Status : Not Answered

Chosen Option : --

Marks : 0.00

Q.12 38 डिग्री उतरी अक्षांश किन देशों के बीच सीमांकन करता है ?

Ans 1. उत्तरी कोरिया एवं दक्षिण कोरिया

2. अमेरिका एवं कनाडा

3. मिश्र एवं सूडान

4. उत्तरी वियतनाम एवं दक्षिणी वियतनाम

Question ID : 61724910011

Status : Answered

Chosen Option : 3

Marks : -1.00

Q.13 किस नदी घाटी को 'भारत का रूर' कहा जाता है ?

Ans 1. दामोदर घाटी

2. महानदी घाटी

3. गोदावरी घाटी

4. नर्मदा घाटी

Question ID : 6172499300

Status : Answered

Chosen Option : 1

Marks : 4.00

Q.14 स्वेज नहर की लम्बाई कितनी है ?

Ans 1. 64.8 किलोमीटर

2. 106.5 किलोमीटर

3. 156.4 किलोमीटर

4. 168 किलोमीटर

Question ID : 6172499471

Status : Answered

Chosen Option : 4

Marks : 4.00

Q.15 हाल ही में भारत की याजा पर आए श्रीलंका के प्रधानमंत्री रानिल विक्रमसिन्धे ने किस क्षेत्र में सहयोग के लिए समझौता जापन पर हस्ताक्षर किए ?

Ans 1. आर्थिक

2. रक्षा

3. उर्जा

4. संचार

Question ID : 6172498661

Status : Answered

Chosen Option : 4

Marks : -1.00

Q.16 नंदादेवी राष्ट्रीय उद्यान किस राज्य में स्थित है ?

Ans 1. उत्तर प्रदेश

2. छत्तीसगढ़

3. उत्तराखंड

4. मध्य प्रदेश

Question ID : 6172499299

Status : Not Answered

Chosen Option : --

Marks : 0.00

Q.17 किस राज्य सरकार ने 1 अगस्त 2017 से प्रधानमंत्री डिजिटल साक्षरता अभियान शुरू करने की घोषणा की ?

- Ans
- 1. पश्चिम बंगाल
 - 2. झारखंड
 - 3. बिहार
 - 4. उड़ीसा

Question ID : 6172498663
Status : Answered
Chosen Option : 3
Marks : -1.00

Q.18 विश्व विख्यात पुलित्जर पुरस्कार का संबंध किससे है ?

- Ans
- 1. पत्रकारिता
 - 2. पाश्चात्य शास्त्रीय गायन
 - 3. सिनेमा
 - 4. खेल

Question ID : 6172498660
Status : Not Answered
Chosen Option : --
Marks : 0.00

Q.19 बेटी बचाओ बेटी पढ़ाओ योजना की शुरुआत कब की गई ?

- Ans
- 1. 22 जनवरी 2015
 - 2. 22 मार्च 2015
 - 3. 22 फरवरी 2015
 - 4. 22 अप्रैल 2015

Question ID : 6172498659
Status : Answered
Chosen Option : 4
Marks : -1.00

Q.20 समावेशी वृद्धि एवं विकास सूचकांक 2017 में किस देश को पहला स्थान दिया गया ?

- Ans
- 1. न्यूजीलैण्ड
 - 2. नॉर्वे
 - 3. फिनलैण्ड
 - 4. भारत

Question ID : 6172498662
Status : Answered
Chosen Option : 2
Marks : 4.00

Q.21 डर्बो ने अपनी पहली फैक्ट्री 1605 ई. में कहां स्थापित की ?

- Ans
- 1. पुलीकट
 - 2. सूरत
 - 3. कालीकट
 - 4. मसूलीपट्टनम

Question ID : 6172499673
Status : Answered
Chosen Option : 2
Marks : -1.00

Q.22 निम्न में से 'हुमायूनामा' किसने लिखा था ?

- Ans
- 1. रोशनआरा बेगम
 - 2. गुलबदन बेगम
 - 3. मुमताज महल
 - 4. जहांआरा बेगम

Question ID : 6172499591
Status : Answered
Chosen Option : 2
Marks : 4.00

Q.23 पेस मेकर का संबंध किससे है ?

- Ans
- 1. दिमाग से
 - 2. गुर्दा से
 - 3. हृदय से
 - 4. फेफड़ों से

Question ID : 6172499073
Status : Not Answered
Chosen Option : --
Marks : 0.00

Q.24 निम्न में से 'मुद्राराक्षक' का लेखक कौन था ?

- Ans
- 1. भास

Question ID : 6172499531
Status : Answered

2. कालिदास
 3. विशाखदत्त
 4. अश्वघोष

Chosen Option : 3
Marks : 4.00

Q.25 निम्न में से बॉक्साइट की एक प्रमुख खान है ?

- Ans 1. लोहरदगा
 2. कलोल
 3. खेतड़ी
 4. जावर

Question ID : 6172499298
Status : Answered
Chosen Option : 1
Marks : 4.00

Section : राजस्थान इतिहास संस्कृति कला और भूगोल

Q.1 गुर्जरों का तीर्थ स्थल सवाई भोज मंदिर कहां स्थित है ?

- Ans 1. ओसियाना
 2. आसीद
 3. जहाजपुर
 4. आमूचा

Question ID : 61724911598
Status : Answered
Chosen Option : 2
Marks : 4.00

Q.2 प्रसिद्ध चौरासी खम्भों की छतरी कहां स्थित है ?

- Ans 1. झालावाड़
 2. कोटा
 3. जयपुर
 4. बूंदी

Question ID : 61724910115
Status : Answered
Chosen Option : 4
Marks : 4.00

Q.3 फोलरी है एक -

- Ans 1. महिलाओं के गले का आभूषण
 2. पुरुषों के हाथ का आभूषण
 3. महिलाओं के पैर का आभूषण
 4. महिलाओं के हाथ का आभूषण

Question ID : 61724910302
Status : Not Answered
Chosen Option : --
Marks : 0.00

Q.4 विधान परिषद के सदस्य के प्रत्याशी की आयु कम से कम कितनी होनी चाहिए ?

- Ans 1. 35 वर्ष
 2. 25 वर्ष
 3. 30 वर्ष
 4. 21 वर्ष

Question ID : 61724910871
Status : Answered
Chosen Option : 3
Marks : 4.00

Q.5 राजस्थान सरकार ने किस पशु को राज्य पशु घोषित किया हुआ है ?

- Ans 1. बाघ
 2. चिकारा व जंत
 3. बूच
 4. चीतल

Question ID : 61724911183
Status : Answered
Chosen Option : 2
Marks : 4.00

Q.6 हरिदेव जोशी कितनी बार राजस्थान के मुख्यमंत्री बने ?

- Ans 1. तीन बार
 2. चार बार

Question ID : 61724910874
Status : Answered
Chosen Option : 4

3. एक बार

4. दो बार

Marks : -1.00

Q.7 सुईया मेला कहा लगता है ?

Ans 1. देशनोक (बीकानेर)

2. लोदरवा (जैसलमेर)

3. चौहटन (बाड़मेर)

4. भीनमाल (जालोर)

Question ID : 61724911599

Status : Answered

Chosen Option : 4

Marks : -1.00

Q.8 रणकपुर मंदिर किस तीर्थकर को समर्पित है ?

Ans 1. पार्श्वनाथ

2. महावीर

3. आदिनाथ

4. नेमीनाथ

Question ID : 61724910117

Status : Answered

Chosen Option : 1

Marks : -1.00

Q.9 राज्य मंत्री परिषदों की बैठकों की अध्यक्षता कौन करता है ?

Ans 1. मुख्यमंत्री

2. मुख्य सचिव

3. गृहमंत्री

4. राज्यपाल

Question ID : 61724910868

Status : Answered

Chosen Option : 2

Marks : -1.00

Q.10 मोरेल बांध परियोजना किस जिले में स्थित है ?

Ans 1. जोधपुर

2. टोंक

3. भीलवाड़ा

4. सवाई माधोपुर

Question ID : 61724911182

Status : Answered

Chosen Option : 2

Marks : -1.00

Q.11 वह कौन सा अभिलेख है जो महाराणा कुम्भा के लेखन पर प्रकाश डालता है ?

Ans 1. कुम्भलगढ शिलालेख (1460 ई)

2. कीर्तिस्तम्भ प्रशस्ति (1460 ई.)

3. जगन्नाराय शिलालेख 1652 ई)

4. राज प्रशस्ति (1676 ई)

Question ID : 61724910548

Status : Answered

Chosen Option : 4

Marks : -1.00

Q.12 किस वृक्ष के पत्तों से बीड़ी बनाई जाती है ?

Ans 1. बीड़

2. तेंदू

3. ढाक

4. आंवला

Question ID : 61724911180

Status : Answered

Chosen Option : 2

Marks : 4.00

Q.13 राज्य में पुलिस मुख्यालय कहाँ स्थित है ?

Ans 1. जयपुर

2. जोधपुर

3. बीकानेर

4. कोटा

Question ID : 61724910872

Status : Answered

Chosen Option : 1

Marks : 4.00

Q.14 राजस्थान में 'ब्लू पॉटरी' का सर्वाधिक विकास किसके शासनकाल में हुआ था ?

- Ans 1. सर्वाई जयसिंह
 2. रामसिंह
 3. प्रताप सिंह
 4. मानसिंह प्रथम

Question ID : 61724910116

Status : Answered

Chosen Option : 2

Marks : 4.00

Q.15 मोतीलाल तेजावत का संबंध था ?

- Ans 1. सीकर किसान आन्दोलन
2. मारवाड़ किसान आन्दोलन
3. बेंगू किसान आन्दोलन
4. एकी किसान आन्दोलन

Note: For this question, discrepancy is found in question/answer. Full Marks is being awarded to all candidates.

Question ID : 61724910547

Status : Answered

Chosen Option : 3

Marks : 4.00

Q.16 हवेली संगीत शैली निम्न में से किसकी विशेष देन है ?

- Ans 1. जयपुर
 2. पुष्कर
 3. नाथद्वारा
 4. जैसलमेर

Question ID : 61724910305

Status : Answered

Chosen Option : 4

Marks : -1.00

Q.17 किस स्तर के अधिकारी को आयोग सचिवालय में सचिव के पद पर नियुक्त किया जाता है ?

- Ans 1. राजस्थान न्यायाधिक सेवा
2. प्रान्तीय प्रशासनिक सेवा
3. राजस्थान प्रशासनिक सेवा
4. भारतीय प्रशासनिक सेवा

Note: For this question, discrepancy is found in question/answer. Full Marks is being awarded to all candidates.

Question ID : 61724910873

Status : Answered

Chosen Option : 4

Marks : 4.00

Q.18 बारां जिले के शेरगढ़ अभयारण्य में कौनसी नदी बहती है ?

- Ans 1. बनास
 2. परवन
 3. काकनी
 4. चम्बल

Question ID : 61724911181

Status : Answered

Chosen Option : 2

Marks : 4.00

Q.19 राजस्थान सागड़ी प्रथा उन्मूलन अधिनियम कब पारित हुआ ?

- Ans 1. 1963
 2. 1961
 3. 1959
 4. 1965

Question ID : 61724910304

Status : Not Answered

Chosen Option : --

Marks : 0.00

Q.20 श्री यूनूस खान राजस्थान सरकार में किस विभाग के मंत्री है ?

- Ans 1. परिवहन विभाग
 2. युवा मामले एवं खेल
 3. तकनीकी शिक्षा
 4. पशुपालन

Question ID : 61724911356

Status : Answered

Chosen Option : 2

Marks : -1.00

Q.21 सर्वाई माधोपुर किसके द्वारा बसाया गया है ?

- Ans 1. मेवाड़ के शासक द्वारा
 2. जयपुर के शासक द्वारा
 3. कोटा के शासक द्वारा
 4. अजमेर के शासक द्वारा

Question ID : 61724911600
Status : Answered
Chosen Option : 3
Marks : -1.00

Q.22 किसके मध्य हरमाड़ा युद्ध लड़ा गया ?

- Ans 1. शेरशाह व हुमायूँ के मध्य
 2. हाजीखॉ (शेरशाह के सेनानायक) व उदयसिंह के मध्य
 3. शेरशाह व उदयसिंह के मध्य
 4. मालदेव व मिर्जा हैदर के मध्य

Question ID : 61724910545
Status : Answered
Chosen Option : 2
Marks : 4.00

Q.23 औद्योगिक क्षेत्रों में उद्योग स्थापना हेतु भूमि कितने वर्षों की लीज पर दी जाती है ?

- Ans 1. 89 वर्ष
 2. 50 वर्ष
 3. 99 वर्ष
 4. 25 वर्ष

Question ID : 61724910870
Status : Not Answered
Chosen Option : --
Marks : 0.00

Q.24 राजस्थान प्रदेश का पहला जैविक उपभोक्ता बाजार बलिचा कृषि उपज मण्डी किस जिले में है ?

- Ans 1. कोटा
 2. अजमेर
 3. जयपुर
 4. उदयपुर

Question ID : 61724911357
Status : Answered
Chosen Option : 4
Marks : 4.00

Q.25 राजस्थान का एकीकरण कितने चरण में सम्पन्न हुआ ?

- Ans 1. 7
 2. 6
 3. 5
 4. 4

Question ID : 61724910546
Status : Answered
Chosen Option : 1
Marks : 4.00

Q.26 आखा से क्या आशय है ?

- Ans 1. छोटी व हल्की बैलगाड़ी
 2. मकान की छत
 3. पत्थर खोदने में प्रयुक्त उपकरण
 4. मांगलिक अवसर पर काम आने वाले चावल या गेहूँ के दाने

Question ID : 61724911466
Status : Answered
Chosen Option : 4
Marks : 4.00

Q.27 कालीबंगा कहां स्थित है ?

- Ans 1. जैसलमेर
 2. बाँसवाड़ा
 3. हनुमानगढ़
 4. बाड़मेर

Question ID : 61724910544
Status : Answered
Chosen Option : 3
Marks : 4.00

Q.28 बांरा, दोसा व राजसमंद का जिले के रूप में गठन किस तिथि को किया गया था ?

- Ans 1. 10 अप्रैल, 1992
 2. 12 जुलाई, 1994

Question ID : 61724910869
Status : Answered
Chosen Option : 4





 3. 12 जुलाई, 1991

Marks : 4.00

 4. 10 अप्रैल, 1991

Q.29 निम्न में से कौनसा युग्म असंगत है ?

Ans

-  1. थेपडी – एक प्रकार का वस्त्र
 2. थूली – गेहूं का गाढ़ा दलिया
 3. थूथी – छोटे कानों वाला बकरा
 4. धेगल – फटे वस्त्र पर लगाया जाने वाला पैबंद

Question ID : 61724911467

Status : Answered

Chosen Option : 1

Marks : 4.00

Q.30 थार महोत्सव कहां मनाया जाता है ?

Ans

-  1. जोधपुर
 2. बाड़मेर
 3. जैसलमेर
 4. जालोर

Question ID : 61724910303

Status : Answered

Chosen Option : 3

Marks : -1.00